



**MİLLÎ EĞİTİM ve KÜLTÜR BAKANLIĞI**  
**KOLEJLERE GİRİŞ SINAVI**  
**(KGS-FİNAL)**

**10 HAZİRAN 2017 CUMARTESİ**

İsim/Soy İsim:.....

Aday No:.....

**1. OTURUM SORU KİTAPÇIĞI**  
**TÜRKÇE - FEN VE TEKNOLOJİ - SOSYAL BİLGİLER**  
**GENEL AÇIKLAMA**

1. Bu kitapçık, Türkçe, Fen ve Teknoloji ve Sosyal Bilgiler testlerini içermektedir. Kitapçık, 20 sayfadan oluşmaktadır. Sizlere bu üç testi cevaplayacağınız bir de TEST CEVAP KAĞIDI verilmiştir. Soru kitapçıklarının dağıtılmasının ardından salon başkanının gözetiminde kitapçığınızı kontrol ediniz. Hatalı olan kitapçıklar, sınav başlamadan önce mutlaka değiştirilecektir.
2. Size dağıtılan cevap kağıdının üzerine adınız, soyadınız ve aday numaranız bilgisayar tarafından yazılmış ve kodlanmıştır. Cevap kağıdının size ait olup olmadığını ve aday numaranızın doğru kodlanmış olup olmadığını kontrol ediniz.
3. Bu test 27 Türkçe, 14 Fen ve Teknoloji ve 10 Sosyal Bilgiler sorusundan ibarettir. Tüm soruları cevaplandırmanız için sizlere toplam **90 dakikalık** süre verilecektir.
4. Her soru için dört farklı seçenek verilmiştir. Bu seçeneklerden sadece bir tanesi doğru yanıt olup diğerleri yanlıştır.
5. Cevap kağıdında, her sorunun karşısında bulunan şıklardan, doğru yanıt olan dairenin içini koyu siyah ve yumuşak bir kurşun kalemle iyice karalayınız. **Kurşun kalem dışında başka çeşit kalem kullanmayınız.** Yanlış karalamalarınızı düzeltirken iz bırakmayacak şekilde dairenin içini yumuşak bir silgiyle iyice siliniz.
6. Soru kitapçığı üzerindeki boş yerleri işlem yapmak için kullanabilirsiniz.
7. Cevap kağıdınızı buruşturmayınız ve üzerine gereksiz işaret koymayınız.
8. Bilmediğiniz soruların üzerinde fazla zaman kaybetmeden diğer sorulara geçiniz. Zamanınız kalırsa yapmadıklarınızı yeniden gözden geçirirsiniz.

**Şimdi aşağıdaki örnek sorunun nasıl cevaplandırılacağını beraberce inceleyelim.**

**ÖRNEK SORU:** “Temiz” sözcüğünün (zıt) anlamlısı hangisidir?

A) Saf

B) Kirli

C) Yıkanmış

D) Pak

Bu sorunun doğru cevabı “Kirli” dir. Doğru olan bu cevap B seçeneğidir. Onun için, cevap kağıdındaki bu soruya ait seçeneklerde B dairesinin içi karalanmıştır. Hepinize başarılar dileriz.

(A)

(B)

(C)

(D)



**Soru 1.** Aşağıdaki cümlelerin hangisinde altı çizili sözcük “terim” anlamlıdır?

- A) Uyanır uyanmaz perdeyi açıp pencereden dışarıya baktım.
- B) Doktor, eksik dişlerimin yerine köprü yapacağını söyledi.
- C) Gazetecilerin temel görevi, halka doğru haber iletmektir.
- D) Yeni aldığımız daireye hafta sonu taşınacağız.

**Soru 2.** “Parça” sözcüğü aşağıdakilerin hangisinde “Okuduğumuz parça, dünyamızın ısınmakta olduğunu anlatıyordu.” cümlesindeki anlamıyla kullanılmıştır?

- A) Annem, market ihtiyaçlarını bir kağıt parçası üzerine yazdı.
- B) Çocuk, ekmeğin parçalarını ufalayıp kuşlara yedirdiyordu.
- C) Bir parça vicdanı olsaydı kış kıyamette onları sokağa atmazdı.
- D) Parçada geçen anlamını bilmediğimiz sözcüklerin altını çizdik.

**Soru 3.**

Güzel okulum,

Senden ayrılmayı hiç istemesem de beşinci sınıf bitiyor ve ben mezun oluyorum. Üç ay sonra bazı arkadaşlarımla birlikte kentteki bir okula gideceğiz. Biliyorsun ben artık ortaokullu oluyorum. O okulu da belki senin kadar severim. Senle olan anılarımı, hatıralarımı, yaşantılarımı benle götüreceğim. Tatlı sohbetlerimizde yer alacak, unutulmayacaksın.

Sevgiyle kal!


**Bu metinde, aşağıda verilen sıfat çeşitlerinden hangisine örnek yoktur?**

- A) Sıra sayı sıfatı
- B) Kesir sayı sıfatı
- C) İşaret sıfatı
- D) Belgisiz sıfat

**Soru 4.** Aşağıdaki cümlelerin hangisinde yüklem, geniş zaman, olumsuz, birinci çoğul kişiye göre çekimlenmiştir?

- A) Kardeşim, dişlerini fırçalamadan uykuya yatmaz.
- B) Ödevlerini bitirmeden oyun oynamaya çıkmazlar.
- C) Yalan söyleyen, hile yapan kişileri sevmeyiz.
- D) Sabahleyin kahvaltı yapmadan evden çıkmam.

**Soru 5.**

<p>Bir komşu çocuğu Hoca( )nın kapısını çalarak( )          ( ) Hoca( ) anam sizde kırk yıllık sirke olduğunu söyledi( )          ( ) Evet var( ) ne olacaktı( )          ( ) Kırk yıllık sirke gerekmiş( ) Sizden almamı söyledi( )          ( ) Yok veremem( )          ( ) Neden( )          ( ) Her isteyene verseydim( ) kırk yıllık sirke olur muydu bende( )</p>	
---	---

**Yukarıda verilen metinde, boş parantezle gösterilen yerlere aşağıdaki noktalama işaretlerinden hangisi getirilemez?**

- A) Üç nokta
- B) Kesme işareti
- C) İki nokta
- D) Virgül

**Soru 6.**

Günümüzde çocuklar, giderek daha fazla, teknoloji bombardımanı ile karşı karşıya kalıyorlar. Bu da onların tüm zamanlarını ev içinde geçirmelerine yol açıyor. Böyle çocuklar, arkadaşlarıyla buluşup oyunlar oynamak yerine onlarla sanal ortamlarda iletişim kuruyor dolayısıyla fiziksel etkinliklerden uzak kalıyorlar. Bu da obeziteye neden oluyor. Genellikle bir şeyler atıştırdıktan sonra televizyon veya bilgisayar karşısına oturuyorlar. Oysa açık havada bol oksijen almaları, güneş ışınlarından yararlanmaları gerekiyor.

**Bu parçada, teknolojinin çocuklar üzerindeki olumsuz etkileri arasında aşağıdakilerden hangisine yer verilmemiştir?**

- A) Çocukları hareketsiz bir yaşama yöneltme
- B) Çocukların arkadaşlarıyla bir araya gelmelerine engel olma
- C) Çocukları doğadan ve çevresel etkileşimden uzak tutma
- D) Çocukların saldırgan davranışlarında artışa neden olma

**Soru 7. Aşağıdaki sözcüklerden hangisinin kökü, iki heceli soyut bir isimdir?**

- A) Susuzluk
- B) Havacılık
- C) Akıllılık
- D) Sessizlik

**Soru 8.**

Çocuktum, ufacıktım,  
Top oynadım, acıktım.  
Buldum yolda bir erik,  
Kaptı bir Ala Geyik...

**Tekerlemedeki ses olaylarıyla ilgili olarak aşağıda verilen bilgilerden hangisi doğrudur?**

- A) Tek bir sözcükte sert sessizlerin benzeşmesi olayı vardır.
- B) Tekerlemede ünsüz düşmesine örnek yoktur.
- C) Beş yerde ulama olayına örnek vardır.
- D) Tekerlemede kaynaştırma olayına örnek yoktur.

**Soru 9.**

- I. Arpa eken buğday biçmez.
- II. Al elmaya taş atan çok olur.
- III. Çanağa ne doğrarsan kaşığında o çıkar.
- IV. Ağaç, meyvesi olunca, dalını aşağı salar.

**Numaralanmış atasözlerinden hangi ikisi anlamca aynı doğrultudadır?**

- A) I – II
- B) I – III
- C) II – III
- D) III – IV

Soru 10.

Nasıl yaşayacağım ey deniz, senden uzak?  
Yanıp sönüyor gibi gözlerimde fenerin!..  
Uyuyor mu limanda her gece sallanarak,  
Altından çivilerle çakılmış gemilerin?

**Şair, bu şiirle aşağıdakilerden hangisini yansıtmaktadır?**

- A) Şair, balıkçılığın zorluklarından söz etmektedir.
- B) Şair, denizde yaşadığı tehlikeleri yansıtmaktadır.
- C) Şair, ayrı düştüğü denize olan özlemini anlatmaktadır.
- D) Şair, denizcilerin umutlarını dile getirmektedir.

Soru 11.

Yaz, dünyamıza göz kırparken ilkbaharın bereketi de devam ediyor. Salatalık, domates, biber, patlıcan, semizotu ... çoğaldı. Şeftali, kayısı, kiraz, dut ... tezgahdaki yerini aldı.

**Parçada geçen sözcüklerin Büyük Ünlü Uyumu Kuralı'na uygunluk durumunu inceleyen çocuklardan hangisi tabloyu doğru doldurmuştur?**

	Büyük Ünlü Uyumu Kuralı'na uyan sözcük sayısı	Büyük Ünlü Uyumu Kuralı'na <u>uymayan</u> sözcük sayısı	Büyük Ünlü Uyumu Kuralı'nın <u>aranamayacağı</u> sözcük sayısı
A) Narin	8	8	6
B) Cemal	8	9	5
C) Serhat	9	7	6
D) Özge	7	8	7

Soru 12.

O benim milletimin yıldızıdır, parlayacak;  
O benimdir, o benim milletimindir ancak.

**Bu dizelerdeki "o" sözcüğü, sözcük çeşidi bakımından aşağıdakilerden hangisidir?**

- A) İşaret sıfatı
- B) İşaret zamiri
- C) Kişi (şahıs) zamiri
- D) Belgisiz sıfat

**Soru 13. Aşağıdaki cümlelerin hangisinde ek halinde zamir yoktur?**

- A) Sabahki derste araştırma ödevleri toplandı.
- B) Paltonu çıkarıp askıya, benimkinin yanına asabilirsin.
- C) Bisikletini alıp bakkala kadar gidebilir miyim?
- D) Bizim evimiz de eskidir ama onlarınki tarihi eser olarak kayıtlıdır.

**Soru 14. “Her kütüphane bir cezaevi kapatır.” cümlesinde sert sessiz harflerin kaç tanesi kullanılmamıştır?**

- A) 1
- B) 2
- C) 3
- D) 4

**Soru 15.**

“Bugünkü okulun ve eğitimin amaçlarından biri de okumayı alışkanlık haline getirmektir. Bütün eğitim kurumları, bu amacın gerçekleşmesine çalışmaktadır. Çünkü, bireylerin gelişmesinde, milletlerin kalkınma ve yükselmesinde, bu nokta ihmal edilemez.

Okumak gibi soylu bir işten, kitap gibi iyi bir arkadaştan kimse kendini uzak tutamaz, onların yararını ve gerekliliğini inkar edemez. Muhakkak ki iyi memur, iyi işçi, iyi çiftçi, iyi tüccar, iyi sanatçı ...kısacası iyi vatandaş daha çok okumuş ve okuyan kimseler arasından çıkmıştır ve çıkacaktır.”

**Bu parçaya göre, aşağıdaki sonuçlardan hangisi doğru değildir?**

- A) Kitaplar en iyi arkadaşımız,okumak da yapabileceğimiz en güzel iştir.
- B) Okuma alışkanlığı kazanmış insanlar kendilerini geliştirir, ülkelerinin gelişmesine katkı koyar.
- C) Okumuş ve okuyan her insanın iyi bir mesleği ve iyi bir kazancı olur.
- D) Okulların eğitim hedeflerinden biri, insanlara okuma alışkanlığı kazandırmaktır.

Soru 16.

1

...  
Cadı; bir ormanın göbeğinde, yüksek bir kuleye yerleştirmiş onu. Bu kulenin hiç merdiveni yokmuş, sadece en tepesinde küçük bir penceresi varmış. Cadı onu ziyarete geldiğinde, aşağıdan "Rapunzel, Rapunzel! Uzat altın sarısı saçlarını!" diye seslenirmiş. Rapunzel uzun örgülü saçlarını pencereden uzatır, cadı da onun saçlarına tutuna tutuna yukarı tırmanmış. Bu yıllarca böyle sürüp gitmiş. Bir gün bir kralın oğlu avlanmak için ormana girmiş ...

2

Çocuklar tahtadaki yazıyı sessizce defterlerine geçirirken Zehra'nın ağlamaklı çığlığıyla ürperdim. Zehra, yanındaki arkadaşını şikayet ediyor, defterini karaladığını söylüyordu. Sıra arkadaşı Hasan, çalışkan ve uysal bir çocuktur. Yapmazdı. Ama Zehra'nın da defteri karalanmıştı. Çocuklara baktım, düşündüm. O anda fark ettim ki Zehra yazarken sağ elini, Hasan ise sol elini kullanıyor. Yan yana oturdukları için de kolları çarpışıyor, defterleri de karalanıyordu. Çocukların yerlerini değiştirdim. Sorun çözülmüş, şikayetler son bulmuştu.

3

Tilki çok acıkmış ve bir bağa girmiş. Üzümlerin iştah açıcı görüntülerine bakarak, karnını doyurmak istemiş. Ancak, bir türlü yetişip de o güzelim üzümlerden koparıp yiyememiş. Bu sefer de "Önemli değil canım, nasıl olsa hepsi ekşiydi." demiş.

Elde edemediğimiz bir şeyi kötülemek, çok kolaydır.

4

1927 yılında Ozanköy'de doğdu. Girne'de özel bir İngiliz okulunda okudu. Londra'ya gidip Modern Diller Okulu Gazetecilik Bölümü'nü bitirdi. (1955) 1957 yılında Kıbrıs'a döndü. Lefkoşa'da Beşparmak ve Uyarı dergilerini çıkardı. Bilahare Londra'da yaşamaya başladı. Şiirleri yanında denemeler ve incelemeler yazdı; İngilizce'den çeviriler yaptı. Şairin eserleri onlarca dile çevrilip yayımlandı. Dünyanın değişik ülkelerinden 50'ye yakın ödül aldı.

Şiirlerinde kullandığı temalarından dolayı "Uzay Şairi" diye bilinen Osman Türkay, tedavi gördüğü Girne Akçiçek Hastanesinde 24 Ocak 2001 tarihinde vefat etti.

**Numaralanmış olarak verilen alıntılarının metin türleri, hangi seçenekte doğru verilmiştir?**

- A) 1 – Anı      2 – Masal      3 – Fabl      4 – Biyografi  
B) 1 – Fabl      2 – Anı      3 – Masal      4 – Otobiyografi  
C) 1 – Hikaye      2 – Fabl      3 – Anı      4 – Günlük  
D) 1 – Masal      2 – Anı      3 – Fabl      4 – Biyografi



**Soru 17.** Yandaki sözcüklerle anlamlı bir cümle oluşturulursa sıralama nasıl olur?

- A) 3 - 2 - 6 - 1 - 5 - 4  
 B) 6 - 1 - 5 - 3 - 2 - 4  
 C) 6 - 2 - 3 - 5 - 1 - 4  
 D) 3 - 5 - 1 - 6 - 2 - 4

1. yanımda  
 2. değil  
 3. koşarken  
 4. dostumdur  
 5. olanlar  
 6. düşerken

**Soru 18.** Hangi cümlede sıfat vardır?

- A) Hangileri Mesarya Ovası'nda yetişir?  
 B) Seyircilerden bazıları tiyatro oyununu beğenmemiş.  
 C) Köpek yavrusunu okulun bahçesine kim getirdi?  
 D) Fırtınada dalı kırılan o ağacı budamak zorunda kaldık.

**Soru 19.**

- I. Yeni okul otobüsü çok güzel ve konforludur.  
 II. Zeytin ağacının gölgesinde oturup kitap okumayı çok severim.  
 III. Törende giymek için aldığım ipek gömlek kusurlu çıktı.  
 IV. Yeni evin oymalı kapısı ahşaptan yapılmıştır.

**Verilen cümlelerdeki isim tamlamaları sınıflandırılıp cümle numaraları tabloya işlenirse, doğru sınıflandırma hangisi olur?**

	Belirtili İsim Tamlaması	Belirtisiz İsim Tamlaması	Takısız İsim Tamlaması	Zincirleme İsim Tamlaması
A)	IV	III	I	II
B)	I	II	III	IV
C)	IV	I	III	II
D)	II	IV	III	I

Soru 20.

Sözlü ve yazılı anlatımlarımıza zenginlik katmak için deyimler kullanırız. Türkçemiz deyimler bakımından zengin bir dildir. Örneğin: **(1)** Aldığı beklenmedik bir haberle hayrete düşen insanlar için “ağı kulaklarına vardı” **(2)** Bir işte veya bir yerde herhangi bir sebeple uzun süre kalamayan kimseler için. “dikiş tutturamadı” **(3)** Birilerinin sevgi ve ilgisini kazanmaya “gözüne girdi” **(4)** Kötü bir olay geçiren, bir işte zarar gören, çok acı duyan insanlar için de “canı yandı” deyimlerini kullanırız.

**Bu parçada, numaralanmış ifadelerin hangisinde bilgi yanlış yapılmıştır?**

- A) 1
- B) 2
- C) 3
- D) 4

Soru 21.

Türküler söyler gelince bahar  
Yaza, kışa hazırlık yapar.  
Ağaçların da var yürekleri  
Ağaçlar tıpkı bizler gibi.

**Yukarıdaki şiirin konusu aşağıdakilerden hangisidir?**

- A) Bahar
- B) Ağaçlar
- C) Doğa sevgisi
- D) Doğa olayları

Soru 22. “serüven – solunum – ..... – sürpriz”

**Aşağıdakilerden hangisini noktalı yere yazarsak sözlük sırasını bozmadan tamamlamış oluruz?**

- A) sigorta
- B) süzgeç
- C) söylev
- D) solgun

**Soru 23.** "Kır gezisinde, öğrencilerin papatyalardan yaptığı taşlar çok güzel oldu."  
cümlesinde özne aşağıdakilerden hangisidir?

- A) Kır gezisinde
- B) Öğrencilerin papatyalardan yaptığı taşlar
- C) Taşlar
- D) Papatyalardan

**Soru 24.**

(1) Her çocuğa kendi ağacını dikme fırsatı yaratmak biz büyüklerin önemli görevlerinden biri olmalıdır. (2) Bakımını kendinin yaptığı, kendine ait bir ağacın varlığı çocukta sorumluluk, özgüven ve çevre bilincini geliştirecektir. (3) Ülkelerin zenginlik kaynağı olan ağaçlar, aynı zamanda yaşam için oksijen üreten doğal fabrikalardır. (4) Diktiği ve kendisiyle birlikte büyüyen ağacıyla her yıl resim çektirmesi çocuğun övünç ve mutluluğu olacaktır.

**Numaralandırılmış cümlelerden hangisi, bu paragrafın anlam bütünlüğünü bozmaktadır?**

- A) 1. cümle
- B) 2. cümle
- C) 3. cümle
- D) 4. cümle

**Soru 25.** Aşağıdaki cümlelerin hangisinde hem küçültme hem de pekiştirme sıfatı vardır?

- A) Parkta tanıştığım yaşlıca bir kadıncağz seni tanıdığını söyledi.
- B) Büyükçe bir masanın üzerine kalın kalın kitaplar dizilmişti.
- C) Ödevini yapmamanın utancından masmavi gözleri yaşla dolmuştu.
- D) Fırından aldığı sıcacık ekmekten dayanamayıp bir parça kopardı.

**Soru 26. Aşağıdaki cümlelerin hangisinde yazım yanlışı yoktur?**

- A) KGS'na girebilmek için aralık ayında kayıt yaptırmıştım.
- B) İtalyan'ların yemeklerinde de Akdeniz salatalarını görebiliriz.
- C) Gazetede Dipkarpaz Belediyesi'nin bir duyurusu vardı.
- D) Otobüsümüz sabah 10.30'da Soli Harabeleri'nin önünde durdu.

**Soru 27. Aşağıdaki sözcüklerden hangisi basit yapıdır?**

- A) kareli
- B) seyret
- C) tuzak
- D) kayak

**TÜRKÇE TESTİNİZ BİTMİŞTİR**  
**YANITLARINIZI KONTROL EDEREK FEN VE TEKNOLOJİ TESTİNE GEÇİNİZ.**

**Soru 1.**

Bebekken ortaya çıkan bu dişler, 7 - 8 yaşına gelince dökülmeye başlar.

Yukarıda bahsedilen dişlerle ilgili olarak;

- |  |
|--|
| <p>I. 20 tanedirler.<br/>           II. Süt dişleri olarak adlandırılırlar.<br/>           III. Ağızımızın sadece ön tarafında bulunurlar.</p> |
|--|

**yorumlarından hangileri doğrudur?**

- A) I ve II  
 B) II ve III  
 C) Yalnız I  
 D) I ve III

**Soru 2.**

Akciğer

Kalın  
Bağırsak

Böbrek

Yukarıda verilen organların **ortak özelliği** aşağıdakilerden hangisinde doğru olarak verilmiştir?

- A) Sindirimin gerçekleşmesinde rol oynarlar.  
 B) Atık maddelerin vücuttan atılmasını sağlarlar.  
 C) Sindirilmiş besinlerin emilimini sağlarlar.  
 D) Göğüs boşluğunda bulunurlar.

**Soru 3.**

Japonya'da geliştirilen ve "**Maglev**" adı verilen bir trende tekerlek bulunmamaktadır. Tren, çok güçlü mıknatıslarla raylardan bir miktar yukarı kaldırılmakta, böylelikle trenin çok daha yüksek hızla gitmesi sağlanmaktadır. Bunun nedeni aşağıdakilerden hangisidir?



- A) Hava direnci veya hava sürtünmesini artırmak.  
 B) Trenin daha güzel görünmesini sağlamak.  
 C) Tren ile ray arasındaki sürtünmeyi azaltmak.  
 D) Tekerlek yapımından tasarruf etmek.

Soru 4.



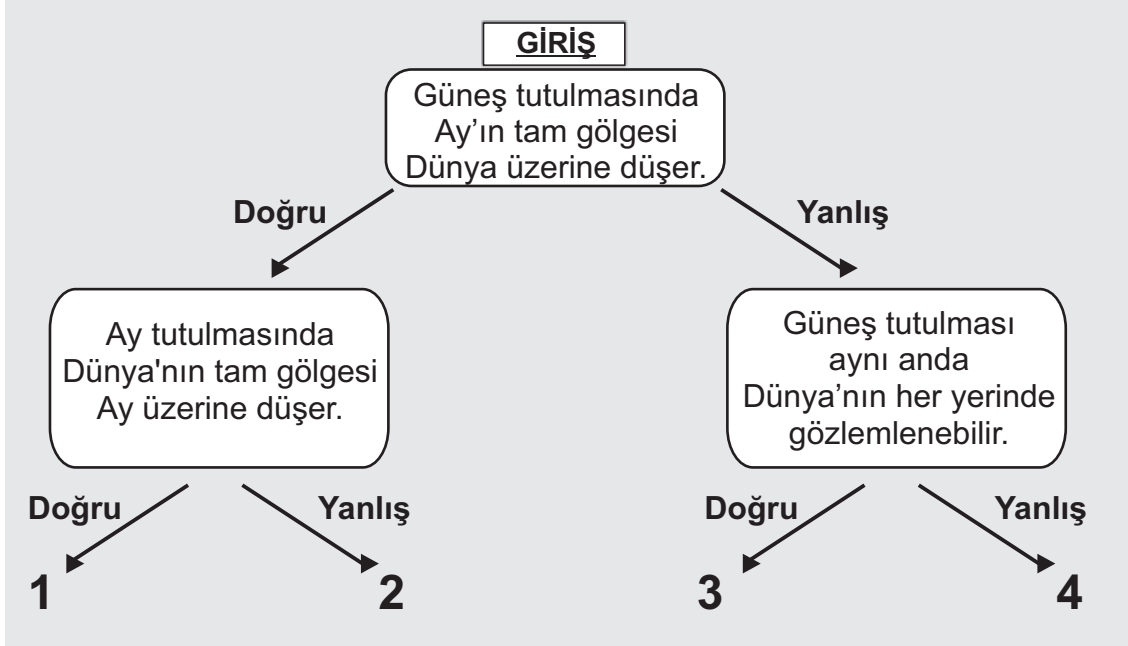
Deren

Annem, yatak odasına, güzel koku vermesi için katı bir madde koydu. Bu madde zamanla küçüldü ve en sonunda yok oldu.

Deren'in anlattığı olayda **hangi hal değişimi söz konusudur?**

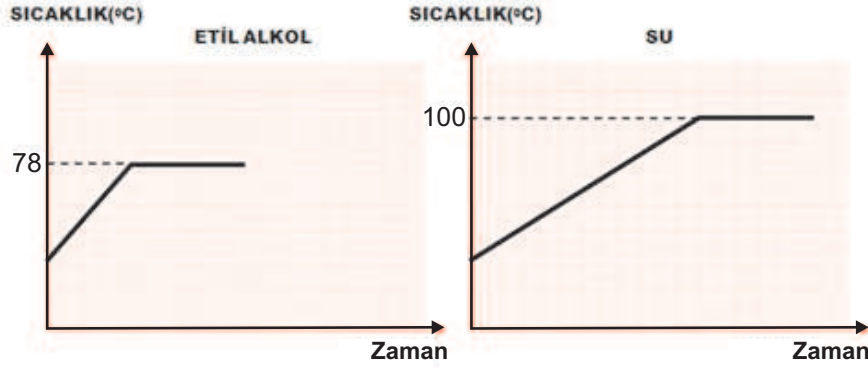
- A) Buharlaşma
- B) Donma
- C) Erime
- D) Süblimleşme

**Soru 5.** Aşağıdaki şemada çerçeveler içerisinde bilgiler verilmiştir. Giriş çerçevesinden başlayarak, verilen bilgilerin "**doğru**" veya "**yanlış**" olmasına göre, okları izlediğimiz zaman kaç numaralı çıkışa ulaşırız?



- A) 1
- B) 2
- C) 3
- D) 4

**Soru 6.** Yapılan bir deneyde, eşit miktarlarda etil alkol ve su iki ayrı kaba konarak, eşit miktarlarda ısı veren ısıtıcılarla her iki kaba ısı veriliyor. Deney sırasında etil alkol ve suyun sıcaklıkları, belirli zamanlarda ölçülerek kaydediliyor. Söz konusu sıcaklıkların zamana bağlı değişim grafikleri, aşağıdaki gibi çiziliyor. Bu deneyden çıkardığımız sonuç, seçeneklerden hangisidir?



- A) Kaynama noktası, madde miktarına bağlıdır.
- B) Kaynama noktası, verilen ısı miktarına bağlıdır.
- C) Saf maddelerin kaynama noktası belirlenemez.
- D) Farklı saf maddeler, farklı kaynama noktalarına sahiptir.

**Soru 7.** Yeterince şişirilmiş bir balon, sıcaklıkları farklı ortamlarda bekletiliyor ve her ortamda çevresi ölçülüyor. Ölçüm sonuçları tablodaki gibidir.

Ortam	Ölçme Sonucu(cm)
I	45
II	43
III	46
IV	48

Buna göre, **hangi ortamda sıcaklık en düşük seviyededir?**

- A) I
- B) II
- C) III
- D) IV

**Soru 8.** Aşağıdaki deneylerden **hangi ikisi** kullanılarak “**Ortam, sesin farklı duyulmasına etki eder.**” sonucuna ulaşılabilir?

- I. Bir metal çubuk ve bir tahta çubuk havada birbirine vuruluyor.
- II. İki metal çubuk havada birbirine vuruluyor.
- III. İki metal çubuk suda birbirine vuruluyor.
- IV. İki tahta çubuk havada birbirine vuruluyor.

- A) II ve III
- B) I ve II
- C) III ve IV
- D) I ve IV

**Soru 9.** Yandaki canlılar, **çoğalma şekillerine göre gruplanırsa** seçeneklerden hangisi doğru olur?

1 Fare	2 Penguen	3 Kertenkele
4 Deve	5 Yılan	6 Deve kuşu
7 Yunus	8 Kurbağa	9 Yarasa

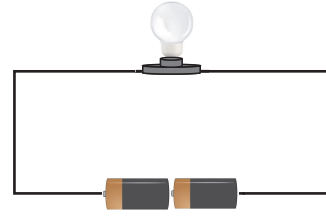
- |                       |                  |
|-----------------------|------------------|
| <u>Yumurtlama ile</u> | <u>Doğurarak</u> |
| A) 1, 3, 5, 8, 9      | 2, 4, 6, 7       |
| B) 2, 3, 5, 6, 8      | 1, 4, 7, 9       |
| C) 3, 4, 5, 7, 8      | 1, 2, 6, 9       |
| D) 2, 4, 5, 6, 7      | 1, 3, 8, 9       |

**Soru 10.** Mikroskobik canlılar; suda, havada, toprakta ve diğer canlıların vücutlarında yaşayabilirler. Mikroskobik canlılardan en basit yapıya olanlara ne ad verilir?

- A) Amip
- B) Terliksi hayvan
- C) Bakteri
- D) Sıtma mikrobu

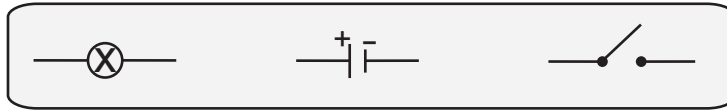


**Soru 11.** Yandaki devrede, lambanın verdiği parlaklığı artırmak için seçeneklerde belirtilen işlemlerden hangisi yapılmalıdır?



- A) Devreye bir lamba daha eklemeliyiz.
- B) Devreye bir anahtar eklemeliyiz.
- C) Devreden bir pil çıkarmalıyız.
- D) Devreye bir pil daha eklemeliyiz.

**Soru 12.** Aşağıda verilen semboller arasında hangi devre elemanına ait sembol bulunmamaktadır?



- A) Anahtar
- B) Pil
- C) Lamba
- D) Bağlantı kablosu

**Soru 13.** Yer kabuğunun oluşum sürecinde ortaya çıkan yeryüzü şekillerine **doğal anıt** adı verilir. Buna göre, doğal anıtlar,

- I. Doğa olayları sonucu oluşma
- II. Çok uzun bir sürede oluşma
- III. İnsanlar tarafından yapılma
- IV. Tüm dünyaya ait (insanlığın ortak mirası) olma

özelliklerinden hangilerine sahiptir?

- A) I, II ve III
- B) II, III ve IV
- C) I, II ve IV
- D) III ve IV

**Soru 14.** Canlıların Dünya üzerinde yaşadığı tabakaya     I     denir. Dağlar, vadiler ve ovaların olduğu karasal bölgelere     II     adı verilir ve bu bölgeler temel olarak     III     sayesinde oluşur.

Yukarıda verilen bilgide boş bırakılan yerlere yazılması gerekenler hangi seçenekte doğru olarak verilmiştir?

- | <u>    I    </u> | <u>    II    </u> | <u>    III    </u> |
|------------------|-------------------|--------------------|
| A) yer kabuğu    | kara tabakası     | kayaçlar           |
| B) yer kabuğu    | kayaçlar          | kara tabakası      |
| C) kara tabakası | yer kabuğu        | kayaçlar           |
| D) kara tabakası | kayaçlar          | yer kabuğu         |

**FEN VE TEKNOLOJİ TESTİNİZ BİTMİŞTİR. YANITLARINIZI KONTROL EDEREK  
SOSYAL BİLGİLER TESTİNE GEÇİNİZ.**

**Soru 1.** Bir televizyon kanalında yayınlanan “Çocuğum, Haklarım Var” adlı programa katılan 5. sınıf öğrencisi Erdem’in söylediklerinden bazıları şunlardır:

- Ben çocuğum. Büyükler gibi bir işte çalışmam. Okula gider ve okulda oynarım.
- Eğitimimi eksiksiz yapabilmem için desteklenir ve korunurum.
- İsteklerimi ve düşüncelerimi resim çizerek, yazarak ya da konuşarak açıklayabilirim.
- Beni ilgilendiren konularda benim de görüşlerim alınır.

Erdem’in programda söylediklerinden kaç tanesinin, çocukların **eğitim hakkıyla** ilgili olduğu söylenebilir?

- A) 1
- B) 2
- C) 3
- D) 4

**Soru 2.**

- Büyük bir bölümü Lüzinyanlar tarafından yaptırılmıştır.
- Barış zamanı dinlenme, savaş zamanı korunma amacıyla inşa edilmiştir.
- İngiliz döneminde bir dönem hapisane olarak kullanılmıştır.
- Günümüzde kültürel ve turistik amaçlı kullanılmaktadır.

Yukarıda **sözü edilen mimari yapımız** aşağıdakilerden hangisidir?

- A) Büyük Han
- B) Baf Kalesi
- C) Girne Kalesi
- D) Girne Kapısı

**Soru 3.** Aşağıdakilerden hangisi, ülkemizdeki boğazlardan biri **değildir**?

- A) Girne Boğazı
- B) Geçitköy Boğazı
- C) Karpaz Boğazı
- D) Mersinlik Boğazı

**Soru 4.** Dünya üzerindeki ülkeler; dağ, ova, boğaz, akarsu, vadi vb. şekillerden oluşmaktadır. Bir ülkeyi oluşturan bu unsurların tümüne, o ülkenin “**yeryüzü şekilleri**” denir.

Bir ülkenin yeryüzü şekilleri, aşağıdakilerden hangisini **etkilememektedir**?

- A) İklimi
- B) Ekonomik faaliyetleri
- C) Bitki örtüsünü
- D) Haberleşmeyi

**Soru 5.**



Yukarıda konuşan kişiler, yaşadıkları yerlerde yetiştirilen en önemli ürünleri söylemektedirler. **Buna göre, aşağıdakilerden hangisinde, Mehmet, Meyra ve Naz'ın yaşadıkları yerler doğru olarak verilmiştir?**

- |                        |                    |                  |
|------------------------|--------------------|------------------|
| A) Mehmet ⇒ Girne      | Meyra ⇒ Güzelyurt  | Naz ⇒ Lefkoşa    |
| B) Mehmet ⇒ Lefkoşa    | Meyra ⇒ Girne      | Naz ⇒ Yeşilirmak |
| C) Mehmet ⇒ Mehmetçik  | Meyra ⇒ Yeşilirmak | Naz ⇒ Lefkoşa    |
| D) Mehmet ⇒ Yeşilirmak | Meyra ⇒ Mehmetçik  | Naz ⇒ Güzelyurt  |

**Soru 6.**

Sivil toplum örgütlerinin kurulmasında;

- İnsanların eğitimine katkıda bulunmak
- İnsan sağlığını korumaya yönelik çalışmalar yapmak
- Doğayı ve çevreyi korumak

gibi amaçlar yer alır.

Yukarıdaki açıklamaya göre, **sivil toplum örgütleri ile ilgili** aşağıdakilerden hangisine **ulaşılabilir**?

- A) Farklı toplumsal sorunlarla uğraşırlar.
- B) Devlet yönetimiyle ilgilidirler.
- C) Ticari çıkarları olan kuruluşlardır.
- D) Sadece çevre sorunları ile ilgilendirler.

**Soru 7.** Yanda verilenlerden kaç tanesi anayasada belirtilir?

- Devletin bayrağı
- İnsanların hak ve özgürlükleri
- Yasaların nasıl yapılacağı
- Okullara hangi isimlerin verileceği

- A) 1
- B) 2
- C) 3
- D) 4

**Soru 8.** Aşağıda verilen bilgiler doğru şekilde eşleştirildiğinde **hangisi boşta kalır?**

Devlet bütçesini görüşürüm.

Bakanları belirlerim.

Devletin başyım.

Başbakan

Milletvekili

Bakanlar Kurulu

Cumhurbaşkanı

- A) Cumhurbaşkanı
- B) Milletvekili
- C) Başbakan
- D) Bakanlar Kurulu

**Soru 9.** Ülkeler, birbirlerinden farklı özelliklere ve kaynaklara sahiptir. Hayatın devamlılığını sağlamak için mal ve bilgi alışverişi yapmaya ihtiyaç duyarlar.

Ülkeler arasındaki bu alışverişi sağlayan en önemli teknolojilerden biri \_\_\_\_\_ teknolojisidir , diğeri de \_\_\_\_\_ teknolojisidir.

Yukarıda boş bırakılan yerlere aşağıdakilerden hangisi gelmelidir?

- | <u>I</u>      | <u>II</u>  |
|---------------|------------|
| A) ulaşım     | haberleşme |
| B) haberleşme | sağlık     |
| C) eğitim     | sağlık     |
| D) ulaşım     | eğitim     |

Soru 10.

Dünya'nın en büyük yeşil alanı, Brezilya'da bulunan \_\_\_\_\_ **I** \_\_\_\_\_ dir.  
\_\_\_\_\_ **II** \_\_\_\_\_, Dünya'nın 7 harikasından biri olarak kabul edilen Firavun mezarlarıdır.

Yukarıda numaralandırılmış yerlere aşağıdakilerden hangisi gelmelidir?

- | <u>          <b>I</b>          </u> | <u>          <b>II</b>          </u> |
|-------------------------------------|--------------------------------------|
| A) Himalaya Dağları                 | Çin Seddi                            |
| B) Amazon Ormanları                 | Mısır Piramitleri                    |
| C) Himalaya Dağları                 | Mısır Piramitleri                    |
| D) Amazon Ormanları                 | Çin Seddi                            |

**SOSYAL BİLGİLER TESTİNİZ BİTMİŞTİR. YANITLARINIZI KONTROL EDİNİZ.**