



MİLLÎ EĞİTİM ve KÜLTÜR BAKANLIĞI

KOLEJLERE GİRİŞ SINAVI-2 (KGS-2)

6 MAYIS 2017 CUMARTESİ

İsim/Soy İsim:.....

Aday No:.....

1. OTURUM SORU KİTAPÇIĞI

TÜRKÇE - FEN VE TEKNOLOJİ - SOSYAL BİLGİLER

GENEL AÇIKLAMA

1. Bu kitapçık Türkçe, Fen ve Teknoloji ve Sosyal Bilgiler testlerini içermektedir. Kitapçık 18 sayfadan oluşmaktadır. Sizlere bu üç testi cevaplayacağınız bir de TEST CEVAP KAĞIDI verilmiştir. Soru kitapçıklarının dağıtılmasının ardından salon başkanının gözetiminde kitapçığınızı kontrol ediniz. Hatalı olan kitapçıklar, sınav başlamadan önce mutlaka değiştirilecektir.
2. Size dağıtılan cevap kağıdının üzerine adınız, soyadınız ve aday numaranız bilgisayar tarafından yazılmış ve kodlanmıştır. Cevap kağıdının size ait olup olmadığını ve aday numaranızın doğru kodlanmış olup olmadığını kontrol ediniz.
3. Bu test 27 Türkçe, 14 Fen ve Teknoloji ve 10 Sosyal Bilgiler sorusundan ibarettir. Tüm soruları cevaplandırmanız için sizlere toplam **90 dakikalık** süre verilecektir.
4. Her soru için dört farklı seçenek verilmiştir. Bu seçeneklerden sadece bir tanesi doğru yanıt olup diğerleri yanlıştır.
5. Cevap kağıdında her sorunun karşısında bulunan şıklardan doğru yanıt olan dairenin içini koyu siyah ve yumuşak bir kurşun kalemle iyice karalayınız. **Kurşun kalem dışında başka çeşit kalem kullanmayınız.** Yanlış karalamalarınızı düzeltirken iz bırakmayacak şekilde dairenin içini yumuşak bir silgiyle iyice siliniz.
6. Soru kitapçığı üzerindeki boş yerleri işlem yapmak için kullanabilirsiniz.
7. Cevap kağıdınızı buruşturmayınız ve üzerine gereksiz işaret koymayınız.
8. Bilmediğiniz soruların üzerinde fazla zaman kaybetmeden diğer sorulara geçiniz. Zamanınız kalırsa yapmadıklarınızı yeniden gözden geçirirsiniz.

Şimdi aşağıdaki örnek sorunun nasıl cevaplandırılacağını beraberce inceleyelim.

ÖRNEK SORU: “Temiz” sözcüğünün (zıt) anlamlısı hangisidir?

A) Saf

B) Kirli

C) Yıkanmış

D) Pak

Bu sorunun doğru cevabı “Kirli” dir. Doğru olan bu cevap B seçeneğidir. Onun için, cevap kağıdındaki bu soruya ait seçeneklerde B dairesinin içi karalanmıştır. Hepinize başarılar dileriz.

(A)

(B)

(C)

(D)

Soru 1. Aşağıdaki sözcüklerden hangisi, yapısı bakımından ötekilerden farklıdır?

- A) Gözlük
- B) Gözlem
- C) Gözler
- D) Gözcü

Soru 2. Hangi cümlenin yüklemi fiildir?

- A) Sevgi, barışı ve dostluğu yaratan güzel bir duygudur.
- B) Bazı insanlar için uçan balonla uçmak bir hayaldir.
- C) Trafik kuralları, hepimiz için çok önemlidir.
- D) Ülkedeki orman yangını hepimizi çok üzdü.

Soru 3. Aşağıdaki cümlelerin hangisinde ikileme, sıfat görevinde kullanılmamıştır?

- A) Akşamki sofrada türlü türlü yemekler vardı.
- B) Yaşlı adam, ağacın gölgesinde mışıl mışıl uyuyordu.
- C) Ufak tefek bir çocuktü ama sporun her dalında oldukça başarılıydı.
- D) Tarihi değeri olan yıkık dökük evler, tamir edilip turizme kazandırıldı.

Soru 4. "Okul" sözcüğü aşağıdaki cümlelerin hangisinde özne görevinde kullanılmıştır?

- A) Okul; insanları doğru bilgi, beceri ve iyi alışkanlıklarla donatır.
- B) Annem, öğretmenimle tanışmak için okula geldi.
- C) Konu okullardan açılınca dedem de kendi okul yıllarını anlattı.
- D) Etnografya müzesi olarak düzenlenen tarihi okul binasını gezdik.

Soru 5.

Kıbrıs, endemik bitkiler açısından dünyanın önemli ülkelerinden biridir. Endemik bitki, yaşam alanı belirli bir bölgeyle sınırlı bitkidir. Kıbrıs Laleleri, orkideler, siklamenler ... adamızın endemik bitkilerinden bazılarıdır. Doğanın bize sunduğu bu ayrıcalıktan sorumluluk duymalı ve bu özel bitkileri korumalıyız. Son yıllarda endemik bitkilerimizi korumak ve tanıtmak için bazı adımlar atılmakta ise de bunlar yeterli değildir. Lalelerimizi, orkidelerimizi korumak adına yasal tedbirler alınmıştır. Lale ve orkide festivalleri ile endemik çiçeklerimizi korumak için farkındalık yaratılmaya çalışılmaktadır. Festivallerle kültürü yaşatma bilinci, eğlence ve ticari ortam yaratılırken, dünyaya bize ait yerli bitkilerimizin varlığının mesajı da verilmektedir. Sonuçta merak uyandırılmakta ve turistlerin adamızı ziyaretine kapı aralanmaktadır.

Paragrafa göre, aşağıdaki sonuçlardan hangisi doğrudur?

- A) Lale ve orkide festivallerinin temel amacı eğlence ortamı yaratmadır.
- B) Yaşam alanı sadece Kıbrıs olan endemik bitki türleri vardır.
- C) Endemik bitkilerimizin korunmasına yönelik alınan önlemler yeterlidir.
- D) Festivallerin turizm hareketlerine katkısı olduğu söylenemez.

Soru 6. Aşağıdaki cümlelerin hangisinde ilgi zamiri (ilgi eki) vardır?

- A) Onlarınkı kadar yeni olmasa da bizim arabamız da yenidir.
- B) Sınav sırasında dikkatli olmalıyım ki hata yapmayayım.
- C) Klimalar bozulunca otobüsteki yolcular buram buram ter döktü.
- D) Bugünkü sınavın çok güzel geçeceğine inanıyorum.

Soru 7. "Önemsemiyorsunuz" çekimli fiili, hangi seçenekte, kök ve eklerine doğru ayrılmıştır?

- A) Önem – se – mi – yor – su – nuz
- B) Önemse – mi – yor – su – nuz
- C) Önem – se – mi – yor – sunuz
- D) Önemse – mi – yor – sunuz

Soru 8. Aşağıdaki cümlelerde geçen sıfatların hangisinde küçültme anlamı yoktur?

- A) Gülçin'in masasında kalınca bir kitap vardı.
- B) Baloda giymek için sarımtırak bir gömlek aldı.
- C) Yeşilimsi renk, evlerini doğayla uyumlu gösterdi.
- D) Sınıfımıza yeni gelen arkadaşımızın masmavi gözleri vardır.

Soru 9. Aşağıdakilerden hangisi "isim kök – yapım eki – yapım eki – çekim eki" yapısındadır?

- A) Sevgisizlik
- B) Yolculuktan
- C) Avladık
- D) Unutkanlık

Soru 10.

Ey şimdi süzgün, rüzgârlarda dalgalı;
Barışın güvercini, savaşın kartalı
Yüksek yerlerde açan çiçeğim.
Senin altında doğdum.
Senin altında öleceğim.

Şiirin teması (ana duygusu) aşağıdakilerden hangisidir?

- A) Doğa sevgisi
- B) Vatan sevgisi
- C) Bayrak sevgisi
- D) İnsan sevgisi

Soru 11. Aşağıdaki cümlelerin hangisinde belgisiz sıfat yoktur?

- A) Öğretmen, her insana güvenilmeyeceğini söyledi.
- B) Sınavda sadece bir soruyu çözedim.
- C) Bazı günler okula bisikletimle gidiyorum.
- D) Okumakta olduğum kitabı bitirmeye birkaç sayfa kaldı.

Soru 12.

Bilmem hiç Güzelyurt'a gittiniz mi? O güzelim portakal bahçelerini gördünüz mü? Gitmiş olsanız bile mayıs ayında yeniden gitmeye ne dersiniz? Gitmelisiniz çünkü en güzel renk cümbüşünü bu dönemde görebilirsiniz. Yemyeşil ağaçlar ve üzerlerindeki turuncu turuncu portakalların görünümü, harika bir yağlı boya resim tablosu gibidir. Beyaz beyaz açan portakal çiçekleri de bu tabloya sanki sihirli dokunuşlardır. Hafif bir esinti sizi okşayıp serinletirken buram buram yayılan portakal çiçeği kokularına bayılacaksınız. Arıların portakal çiçekleri üzerindeki o keyifli dansları ve yaydıkları vızıltı nağmelerini en muhteşem orkestradan daha rahatlatıcı ve huzur verici bulacaksınız.

Bu paragrafta, hangi duyumuzla ilgili bir ayrıntıya yer verilmemiştir?

- A) İşitme
- B) Dokunma
- C) Koklama
- D) Tatma

Soru 13. Aşağıdaki cümlelerin hangisinde öğeler “tümleç – özne – tümleç – yüklem” sıralamasındadır?

- A) Konuşmacı sahneye çıkınca herkes onu alkışladı.
- B) Çocuklar, sahilde midye kabuğu topluyorlardı.
- C) Kontrolde, emniyet kemeri bağlı olmayanları polis uyarıyordu.
- D) Geminin üzerinden çığlık çığlığa martılar uçuyordu.

Soru 14. Aşağıdaki cümlelerin hangisinde varlığın biçimi belirtilmiştir?

- A) Güzel bir sesi olduğunu şarkı söyleyince farkettilik.
- B) Bazı çocuklar ödevlerini zamanında yapmıyor.
- C) Yuvarlak masanın etrafına oturup sohbet ettik.
- D) Sinemaya, gösterime giren komik filmi izlemeye gittim.

Soru 15. Aşağıdaki cümlelerin hangisinde eylem gerçekleşmiştir?

- A) On bir yaşını doldurduğumda kimlik kartı çıkarmam gerekecek.
- B) Yolculuğumuzun ilk durağında taze sıkılmış portakal suyu içtik.
- C) Kitaplardan macera kitaplarını okumayı daha çok severim.
- D) Boş zamanlarımda resim yapmaktan büyük keyif alıyorum.

Soru 16.

Benim kitaplarım hep çiçek kokar. Renk renk güzellik kokar, barış ve sevgi yayılır onların ortamında. Belki bu yüzden, kitaplarımla birlikte evimizde daha güzel bir dünya oluşur. En güzeli, ben daha anlayışlı, daha içten, daha sevecen biri oluverdim. Kuşlarla, kelebeklerle, ağaçlarla, bulutlarla dost oldum. Onları bizim insan yaşantımızla bütünleyerek değerlendirmek ne yararlı bir oyunmuş meğer.

Paragrafa göre, evde daha güzel bir dünya oluşmasının sebebi nedir?

- A) Yazarın hayvanlarla, bitkilerle, doğayla dostluk kurması
- B) Yazarın sevecen, anlayışlı, içten bir kişiliği olması
- C) Evdeki kitaplığın raflarında çok sayıda kitabın bulunması
- D) Kitapların güzellikleri, barışı ve sevgiyi öğretmesi

Soru 17. Aşağıda verilen çekimli fiillerin hangisi geniş zaman, I. çoğul kişiye göre çekimlenmiştir?

- A) Söyledik
- B) Bakmayız
- C) Görmüyor musunuz?
- D) Yazacağız

Soru 18. Aşağıdaki cümlelerin hangisinde işaret sıfatı vardır?

- A) Okulumuzdan yirmi beş çocuk, trafik yürüyüşüne katıldı.
- B) Bazı çocuklar, okula bisikletleriyle gelir.
- C) O çocuk, harika resimler yapan küçük bir ressamdır.
- D) Şiir yarışmasına sınıfımızdan kaç çocuk katılıyor?

Soru 19. Aşağıdaki cümlelerin hangisinde "-ki" eki, sıfat türeten ek görevindedir?

- A) Dünkü gazetede çıkan okulumuzla ilgili haberi okudun mu?
- B) Yaşlı teyzenin anlattığı o masalı sanki daha önce dinlemiştim.
- C) Bizim takımın renkleri kırmızı-beyaz, onlarınki sarı-kırmızıdır.
- D) Henüz kesin değil ama yaz tatilinde belki Türkiye'ye tatile gideriz.

Soru 20. Aşağıdaki sözcüklerden hangisinin kök ve ekleri doğru isimlendirilmiştir?

- A) Sütçüler → **süt** (isim kök) –**çü** (yapım eki) –**ler** (iyelik eki)
 B) Koruluktan → **koru** (fiil kök) –**luk** (yapım eki) –**tan** (hal eki)
 C) silgin → **sil** (isim kök) –**gi** (çekim eki) –**n** (iyelik eki)
 D) Koşmadı → **koş** (fiil kök) –**ma** (olumsuzluk eki) –**dı** (zaman eki)

Soru 21.

Bahar olsun da seyredin
 Nasıl süsler bayırları,
 Zümrüt gibi çayırları,
 Yüze güler o incecik
 Gelin yüzlü papatyalar,
 Altın gözlü papatyalar.

Tevfik FİKRET

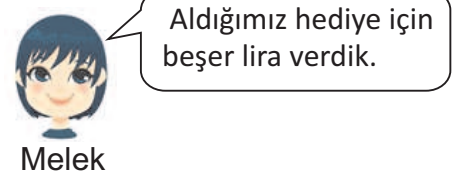
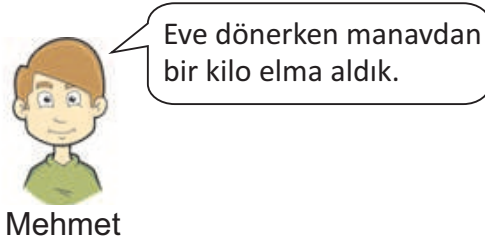
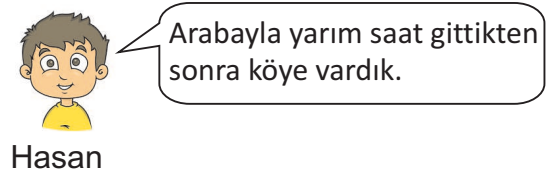
Şiire göre, papatyalarla ilgili aşağıdaki sonuçlardan hangisine ulaşamaz?

- A) Papatyalar, baharda açan kır çiçekleridir.
 B) Papatyalar, doğaya harika bir görünüm kazandırır.
 C) Papatyalar, açtıkları dönemde doğaya mis gibi kokular saçar.
 D) Papatyaların görünümü, insanda güzel duygular uyandırır.

Soru 22. Aşağıdakilerden hangisinde bir ad birden çok sıfatla nitelenmiştir?

- A) Masadaki vazoda renkli, kokulu, güzel çiçekler vardı.
 B) Yolumuzun üzerindeki manavdan taze sebze, meyve aldık.
 C) Mavi kapakları, tekerlekli sandalye alınması için topluyoruz.
 D) Annem kirli çatal, kaşık ve bıçakları bulaşık makinesine koydu.

Soru 23. Hangi çocuğun söylediği cümlede üleştirme sayı sıfatı vardır?



- A) Pembe
- B) Hasan
- C) Mehmet
- D) Melek

Soru 24.

(1) Yazı deniz kenarındaki evimizde geçirecektik. (2) Arabamıza binip batı yönünde yolculuğa başladık. (3) Yolda kazı çalışmaları olduğundan bir süre bekletildik. (4) Beklerken gazetede okuduğum bir yazı çok ilgimi çekmişti.

Numaralanmış cümlelerin hangisinde altı çizili sözcük basit yapıldır?

- A) 1 numaralı cümlede
- B) 2 numaralı cümlede
- C) 3 numaralı cümlede
- D) 4 numaralı cümlede

Soru 25. Aşağıda verilen cümlelerin hangisinde iyelik zamiri yoktur?

- A) Televizyonumuz bozulduğu için yeni bir televizyon aldık.
- B) Okumayı çok seven Gülşen, yüzlerce kitap okudu.
- C) Yeni yeni evler yapılıncaya, okulumuz şehrin ortasında kaldı.
- D) Saçı uzayan Metin'i, babası berbere götürdü.

Soru 26. “Mutluluk ve huzur; sevgi, saygı, anlayış ve hoşgörünün eseridir.” cümlesinde sözcüklerin yapısıyla ilgili olarak aşağıda verilenlerden hangisi doğrudur?

- A) Cümlede dört basit, dört türemiş, bir bileşik yapıli sözcük vardır.
- B) Cümlede beş basit, üç türemiş, bir bileşik yapıli sözcük vardır.
- C) Cümledeki sözcüklerden bir tanesi bileşik ötekiler türemiş yapılidir.
- D) Cümleyi oluşturan bütün sözcükler türemiş yapılidir.

Soru 27. Aşağıdaki cümlelerin hangisinde soru sıfatı vardır?

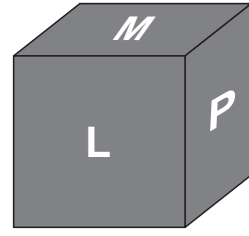
- A) Sorulardan hangisi daha zordu?
- B) Öğrencilerden kaç bugünkü sınava katılmadı?
- C) Alilerin evine hangi yoldan gidebilirim?
- D) Yeni gömleğini kaç aldın?

**TÜRKÇE TESTİNİZ BİTMİŞTİR.
YANITLARINIZI KONTROL EDEREK
FEN VE TEKNOLOJİ TESTİNE GEÇİNİZ.**

Soru 1. Yandaki şekilde, opak bir karton kutunun içerisine bir ışık kaynağı yerleştirilmiştir. Buna göre;

1. durumda ışık ışınları \rightarrow yönünde

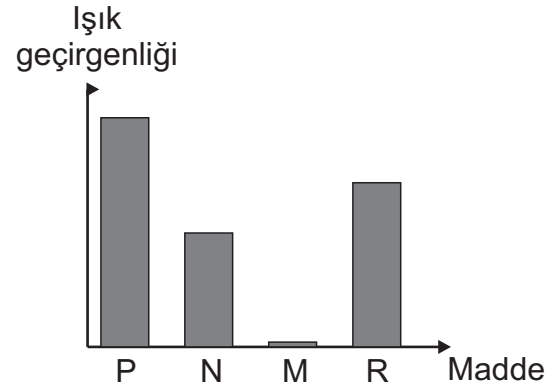
2. durumda ışık ışınları \uparrow yönünde



yayılıyorsa, **sırasıyla kutunun hangi yüzeylerinde delik açılmıştır?**

- | <u>1.</u> | <u>2.</u> |
|-----------|-----------|
| A) M | P |
| B) L | P |
| C) M | L |
| D) P | M |

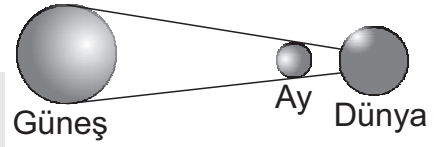
Soru 2. Yandaki grafikte bazı maddelerin ışık geçirgenliği verilmiştir. **Buna göre, P maddesi aşağıdakilerden hangisi olamaz?**



- A) Hava
- B) Metal Kaşık
- C) Poşet Dosya
- D) Gözlük Camı

Soru 3. Dünya, Güneş ve Ay, şekildeki konumda iken,

- I. Dünya'nın bazı bölgelerine güneş ışınları ulaşmaz.
- II. Ay tutulması yaşanmaktadır.
- III. Güneş tutulması yaşanmaktadır.



ifadelerinden hangileri doğru olur?

- A) I ve II
- B) II ve III
- C) I ve III
- D) Yalnız I

Soru 4. Odasında ders çalışan Fatma, yukarıdan geçen bir uçağın sesini duymuştur.

Buna göre, bu olayda ses, hangi ortamlarda yayılmıştır?

- A) Ses, sadece gaz ortamda yayılmıştır.
- B) Ses, önce gaz, sonra katı ortamda yayılmıştır.
- C) Ses, önce gaz, sonra katı ve sonra yine gaz ortamda yayılmıştır.
- D) Ses, sadece katı ortamda yayılmıştır.



Soru 5.

Maya mantarları, ekme yapımında kullanılır. İhtiyaç duydukları besin, su ve uygun sıcaklık varlığında çoğalırlar. Mayalar hamurun içindeki şekeri besin olarak tükettiklerinde çıkardıkları gaz, hava boşluğu oluşturur ve hamur şişer.

Yukarıdaki bilgiye göre;

- I. Mantarlar, insanlar için faydalı olabilirler,
- II. Maya mantarları, besinlerini kendileri üretirler,
- III. Maya mantarları, ekmeğin kabarmasını sağlayan gazı üretirler.

ifadelerinden hangileri doğrudur?

- A) I ve II
- B) I ve III
- C) II ve III
- D) Yalnız I

Soru 6. “Ormanda, bahçede, nemli yerlerde yaşarım. Bitki olduğumu düşünürler. Ama benim yaprak ve çiçeklerim yoktur. Besin ihtiyacımı topraktan ve başka canlılardan karşılarım.”

Yukarıda bahsedilen canlı, aşağıdakilerden hangisi olabilir?

- A) Şapkalı mantar
- B) Su yosunu
- C) Eğrelti otu
- D) Kara yosunu

Soru 7. Aşağıda verilen bilgilerden hangileri bir **kara yosunu ile papatyanın ortak özelliklerindedir?**

- I. Kendi besinlerini üretirler.
- II. Tohum oluştururlar.
- III. Basit yapıdadırlar.

- A) Yalnız I
- B) I ve II
- C) II ve III
- D) Yalnız III

Soru 8. “Hayvanlar dünyasını araştıran Belma, yılan ile balığın ortak özelliğini saptamıştır.”
Aynı ortak özellik, aşağıda verilen hangi iki hayvanın da ortak özelliğidir?

- A) Deniz Yıldızı - Tavşan
- B) Penguen - Ayı
- C) Fare - Örümcek
- D) Kedi - Solucan

Soru 9. Aşağıdaki çizelgede L, M, N harfleri ile gösterilen hayvanların özellikleri verilmiştir. Bu hayvanların sahip oldukları özelliklerin karşısına (+), sahip olmadıkları özelliklerin karşısına (-) konmuştur. **Çizelgeye göre bu hayvanlar, sırasıyla hangisi olabilir?**

Hayvanlar Özellikler	L	M	N
Suda Yaşar	+	+	-
Omurgalıdır	+	+	+
Doğurarak Çoğalır	-	+	+

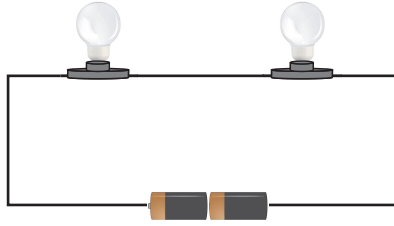
- | <u>L</u> | <u>M</u> | <u>N</u> |
|------------|-----------|----------|
| A) Balık | Salyangoz | Ahtapot |
| B) Balina | Balık | Örümcek |
| C) Balık | Fok | Geyik |
| D) Solucan | Geyik | Yarasa |

Soru 10. “Çevre Kirliliği” konulu bir araştırma yazısı yazan Mehmet, bu yazıda aşağıda verilen bilgilerden hangilerini ele alabilir?

- I. Piller, plastik şişeler, naylon poşetler doğada kalıcı kirliliğe yol açabilir.
- II. Ev ve iş yerlerinden çıkan atık maddeler, çevremizi kirletir.
- III. Hayvan ve bitki sayısındaki artış, çevre sorunlarına neden olur.
- IV. Toprağa karışan kirli sular, besinlerle insanlara geçerek çeşitli hastalıklara yol açabilirler.

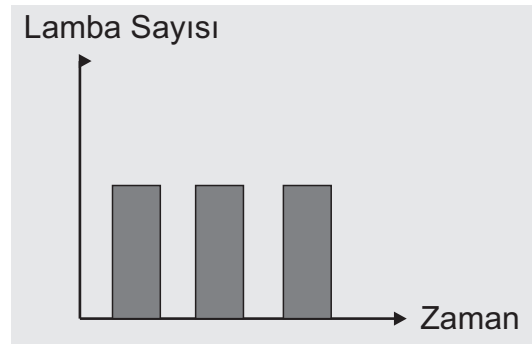
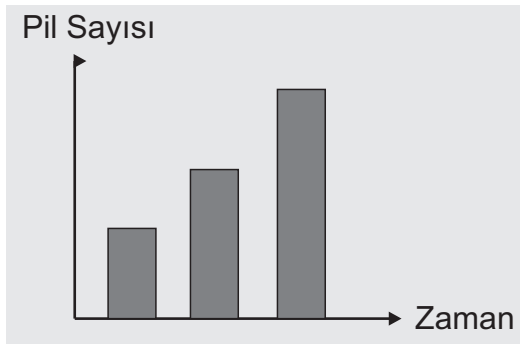
- A) I, II ve III
- B) II, III ve IV
- C) II ve III
- D) I, II ve IV

Soru 11. İbrahim, iki pil ve iki lambadan oluşan bir devrede bağımsız değişken pil sayısı, bağımlı değişken lamba parlaklığı olacak şekilde bir **deney hazırlamak** istiyor. **Buna göre İbrahim, lamba parlaklığındaki değişimi gözlemlemek için hangisini yapabilir?**



- A) Devreden bir pil çıkarabilir.
- B) Devreye iki lamba daha ekleyebilir.
- C) Devreye bir pil ve bir lamba ekleyebilir.
- D) Devreden bir pil ve bir lamba çıkarabilir.

Soru 12. Bir elektrik devresinde lamba ve pil sayısının değişimi aşağıdaki grafikte verilmiştir.



Grafiklerdeki değişime göre,

- I. Devredeki lamba parlaklığı azalmıştır.
- II. Devredeki lamba parlaklığı artmıştır.
- III. Devredeki pil sayısı artmıştır.
- IV. Devredeki pil sayısı sabit kalmıştır.

ifadelerinden hangileri doğrudur?

- A) I ve II
- B) I, II ve IV
- C) II, III ve IV
- D) II ve III

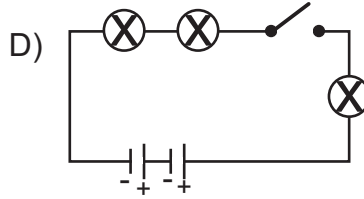
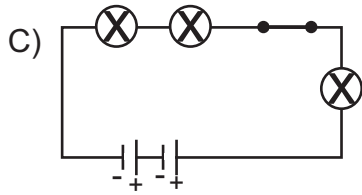
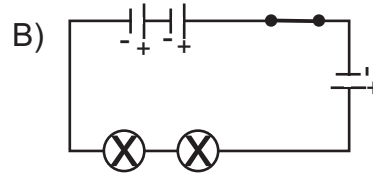
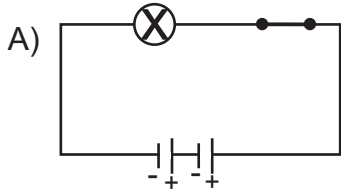
Soru 13.



Ahmet

2 pil , 3 lamba ve 1 kapalı anahtar ile bir devre kurdum.

Ahmet'in kurduğu devrenin sembolik gösterimi aşağıdakilerden hangisi olabilir?




Soru 14. Aşağıda konuşan kişilerden hangilerinin söyledikleri doğrudur?



Tamer

Bir devrede bağlantı kablosu, pil ile aynı sembolle gösterilir.




Bekir

Lamba, devreye elektrik enerjisi sağlar.



Suna

Bir devredeki lamba parlaklığını pil sayısı etkiler.



Naz

Bir devredeki pil sayısı kontrol altına alındığında, lamba sayısı arttıkça lambaların parlaklığı azalır.

- A) Tamer, Bekir
B) Suna, Tamer
C) Suna, Naz
D) Bekir, Naz

FEN VE TEKNOLOJİ TESTİNİZ BİTMİŞTİR.
YANITLARINIZI KONTROL EDEREK SOSYAL BİLGİLER TESTİNE GEÇİNİZ.

Soru 1.

Geçmişte kullanılan (I) 'ın traktöre dönüşmesi tarlaların sürülmesini, (II) 'ın yerini biçerdövere bırakması da tarladaki işleri hayli kolaylaştırmıştır. Günümüzde ise petrol kaynakları azaldığından bilim insanları (III) veya (IV) enerjisiyle çalışan taşıtlar üretmeye çalışmaktadır.

Yukarıda boş bırakılan numaralı yerlere sırasıyla hangileri gelmelidir?

<u>I</u>	<u>II</u>	<u>III</u>	<u>IV</u>
A) Karasaban	Orak	Güneş	Elektrik
B) Orak	Karasaban	Elektrik	Güneş
C) Karasaban	Kombay	Gazyağı	Benzin
D) Otomobil	Orak	Benzin	Su

Soru 2. “Bazı zararlarına rağmen insanlar, teknolojik araçları kullanmaktan vazgeçmemektedir.” Aşağıdakilerden hangisi bu durumun nedenlerinden biri **değildir**?

- A) Bu araçlara gereksinim duyulması
- B) Bu araçların insan yaşamını kolaylaştırması
- C) Yararlarının zararlarından daha çok olması
- D) İnsanların sağlığına zarar vermemesi

Soru 3. Tablodaki icatların mucitleri, aşağıdaki seçeneklerin hangisinde doğru olarak verilmiştir?

- | |
|-----------------------------------|
| I. Ampul |
| II. Matbaa |
| III. Elektrikli oy sayım makinesi |

<u>I</u>	<u>II</u>	<u>III</u>
A) Mark Shuttleworth	J. Gutenberg	Edison
B) Edison	Denis Tito	Edison
C) Denis Tito	J. Gutenberg	Mark Shuttleworth
D) Edison	J. Gutenberg	Edison

Soru 4. Bilim ve teknoloji ilerledikçe hayatımızı kolaylaştıran ürünler üretilirken, hayatımızı **olumsuz** etkileyen durumlar da yaşanmaktadır.

Aşağıdakilerden hangisi bu duruma örnek olabilir?

- A) Teknolojik gelişmelerin insanın doğayı daha iyi anlamasına yardımcı olması.
- B) Teknolojik araç üreten fabrikaların çevreye zehirli gazlar yayması.
- C) Teknolojik gelişmelerin ve buluşların birbiriyle ilişkili olması.
- D) Herhangi bir konuda araştırma yapmak için kaynakların çoğalması.

Soru 5. Aşağıda konuşan çocuklardan hangi ikisinin bahsettikleri dernek isimlerinin yerleri değişirse hepsi doğru dernekten bahsetmiş olur?



Tuğçe

Mağazadan aldığım bisiklet arızalı çıktı. Mağaza bisikleti değişmeyince **Çevre Derneği**'ne başvurudum.



Kerem

Evimizin karşısındaki fabrika, atıklarını yola bıraktığı için **Tüketiciler Derneği**'ne başvurudum.



Bekir

Artan trafik kazalarına dikkat çekmek için **Trafik Kazalarını Önleme Derneği** Gönyeli Çemberi'nde pankart açtı.



Ahmet

Barınaklardaki hayvanların sahiplendirilmesi için **Hayvanları Koruma Derneği** bir kampanya başlatmış.

- A) Tuğçe - Ahmet
- B) Bekir - Kerem
- C) Tuğçe - Kerem
- D) Bekir - Tuğçe

Soru 6.

Demokrasilerde devlet kurumları yanında halkın kurduğu çeşitli kuruluşlar da bulunmaktadır. (I) bir devlet kurumu iken (II) halk tarafından oluşturulan bir kuruluştur.

Yukarıda verilen boşluklara sırasıyla aşağıda verilenlerden hangisi gelebilir?

- | I | II |
|-------------------------------------|--------------------------------|
| A) Milli Eğitim ve Kültür Bakanlığı | Kanser Hastaları Derneği |
| B) Kanser Hastaları Derneği | Lefke Çevre ve Tanıtma Derneği |
| C) Halk Sanatları Vakfı | İtfaiye Teşkilatı |
| D) Milli Eğitim ve Kültür Bakanlığı | Sivil Savunma Teşkilatı |

Soru 7. Aşağıda konuşan Pembe Hanım hangisinin seçimine aday olabilir?



38 Yaşında, KKTC vatandaşı, lise mezunu, işletme sahibi bir kadıyım. Uzun yıllar yurt dışında yaşadıkdan sonra ölkeme döndüm. 6 yıldan beridir KKTC'de yaşamaktayım.
Bu seçimde _____ adayayım. Sevgili halkım, sizden destek bekliyorum!

- A) Başbakan
- B) Milletvekili
- C) Cumhurbaşkanı
- D) Yargıç

Soru 8. "Demokratik ölkelerde suçlu ile suçsuzu ayırt etme sorumluluğu verilmiş mahkemeler, suç işleyen kişi veya kurumları cezalandırırlar."

Buna göre mahkemelerce verilen cezalar neye göre belirlenir?

- A) Yasalara göre
- B) Cinsiyete göre
- C) Eğitim düzeyine göre
- D) Yaşadığı ilçeye göre

Soru 9. Aşağıda verilen bilgilerden kaç tanesi demokratik toplumlar için geçerli bir bilgidir?

- I. Demokrasilerde insanlar arasında ayırım yapılmaz.
- II. Demokratik toplumlarda yöneticileri halk seçer.
- III. Demokrasi ile yönetilen toplumlarda kimse başkasının özgürlüğünü kısıtlayamaz.
- IV. Demokrasi ile yönetilen toplumlarda sadece erkekler bakan olur.

- A) 1
- B) 2
- C) 3
- D) 4

Soru 10. Aşağıda KKTC'nin kuruluşundan itibaren görev yapan cumhurbaşkanlarının isimleri verilmiştir. **Cumhurbaşkanlarını görev sırasına göre sıralayacak olursak, hangisi KKTC'nin ilk cumhurbaşkanıdır?**

Mehmet Ali TALAT Dr. Derviş EROĞLU Rauf Raif Denктаş Mustafa AKINCI

- A) Mehmet Ali TALAT
- B) Dr. Derviş EROĞLU
- C) Rauf Raif DENKTAŞ
- D) Mustafa AKINCI

**SOSYAL BİLGİLER TESTİNİZ VE SINAVINIZIN I. OTURUMU BİTMİŞTİR.
YANITLARINIZI KONTROL EDİNİZ.**