



A

MİLLÎ EĞİTİM BAKANLIĞI

KOLEJLERE GİRİŞ SINAVI-2 (KGS-2)

9 MAYIS 2015 CUMARTESİ

İsim/Soy İsim:.....

Aday No:.....

1. OTURUM SORU KİTAPÇIĞI

TÜRKÇE - FEN VE TEKNOLOJİ - SOSYAL BİLGİLER

GENEL AÇIKLAMA

1. Bu kitapçık Türkçe, Fen ve Teknoloji ve Sosyal Bilgiler testlerini içermektedir. Kitapçık 22 sayfadan oluşmaktadır. Sizlere bu üç testi cevaplayacağınız bir de TEST CEVAP KAĞIDI verilmiştir. Soru kitapçıklarının dağıtılmasının ardından salon başkanının gözetiminde kitapçığınızı kontrol ediniz. Hatalı olan kitapçıklar sınav başlamadan önce mutlaka değiştirilecektir.
2. Size dağıtılan Cevap Kağıdının üzerine adınız, soyadınız ve aday numaranız bilgisayar tarafından yazılmış ve kodlanmıştır. Cevap Kağıdının size ait olup olmadığını ve aday numaranızın doğru kodlanmış olup olmadığını kontrol ediniz.
3. Bu test 27 Türkçe, 14 Fen ve Teknoloji ve 10 Sosyal Bilgiler sorusundan ibarettir. Tüm soruları cevaplandırmanız için sizlere toplam **90 dakikalık** süre verilecektir.
4. Her soru için dört farklı seçenek verilmiştir. Bu seçeneklerden sadece bir tanesi doğru yanıt olup diğerleri yanlıştır.
5. Cevap kağıdında her sorunun karşısında bulunan şıklardan doğru yanıt olan dairenin içini koyu siyah ve yumuşak bir kurşun kalemle iyice karalayınız. **Kurşun kalem dışında başka çeşit kalem kullanmayınız.** Yanlış karalamalarınızı düzeltirken iz bırakmayacak şekilde dairenin içini yumuşak bir silgiyle iyice siliniz.
6. Soru kitapçığı üzerindeki boş yerleri işlem yapmak için kullanabilirsiniz.
7. Cevap kağıdınızı buruşturmayınız ve üzerine gereksiz işaret koymayınız.
8. Bilmediğiniz soruların üzerinde fazla zaman kaybetmeden diğer sorulara geçiniz. Zamanınız kalırsa yapmadıklarınızı yeniden gözden geçirirsiniz.

Şimdi aşağıdaki örnek sorunun nasıl cevaplandırılacağını beraberce inceleyelim.

ÖRNEK SORU: “Temiz” sözcüğünün (zıt) anlamlısı hangisidir?

A) Saf

B) Kirli

C) Yıkanmış

D) Pak

Bu sorunun doğru cevabı “Kirli” dir. Doğru olan bu cevap B seçeneğidir. Onun için, cevap kağıdındaki bu soruya ait seçeneklerde B dairesinin içi karalanmıştır. Hepinize başarılar dileriz.

(A)

(B)

(C)

(D)

Soru 1. “Uçak” sözcüğünün yapısıyla ilgili olarak aşağıda verilenlerden hangisi doğrudur?

- A) Fiilden isim yapan bir yapım ekiyle türemiştir.
- B) İsimden isim yapan bir yapım ekiyle türemiştir.
- C) İsimden fiil yapan bir yapım ekiyle türemiştir.
- D) Fiilden isim yapan bir çekim ekiyle türemiştir.

Soru 2. “Geziye giden öğrenciler, çilek bahçelerinden çilek de topladılar.” cümlesinin öznesi hangisidir?

- A) Çilek
- B) Öğrenciler
- C) Çilek bahçelerinden
- D) Geziye giden öğrenciler

Soru 3. “Bir saat yürüdüktan sonra bir ağacın altına oturup dinlendik.” cümlesinde geçen “bir” sözcüklerinin türleri hangi seçenekte sırasıyla ve doğru olarak verilmiştir?

- A) Belgisiz sıfat – asıl sayı sıfatı
- B) Asıl sayı sıfatı – belgisiz sıfat
- C) Belgisiz sıfat – belgisiz sıfat
- D) Asıl sayı sıfatı – asıl sayı sıfatı

Soru 4. Aşağıdakilerden hangisi kök ve eklerine tam olarak doğru ayrılmamıştır?

A) Yazılılarda ⇒ Yazı – ılı – lar – da
İsim – Yapım – Çoğul – Hal
kök – Eki – Eki – Eki

B) Yolculuklarda ⇒ Yol – cu – luk – lar – da
İsim – Yapım – Yapım – Çoğul – Hal
kök – Eki – Eki – Eki – Eki

C) Süpürgenizi ⇒ süpür – ge – niz – i
Fiil – Yapım – İyelik – Hal
kök – Eki – Eki – Eki

D) Yürümemişler ⇒ Yürü – me – miş – ler
Fiil – Olumsuzluk – Zaman – Çoğul
kök – Eki – Eki – Eki

(5 ve 6. soruları aşağıdaki metne göre cevaplayınız.)

TIRTILDAN KELEBEĞE

Kelebekler belki de en sevilen hayvanlardan biri. İlkbaharın habercisi olan bu hayvanların ömürlerinin kısa olduğu düşünülüyor. Bu, yalnızca bazı türler için doğrudur; ancak bazı kelebekler bir hafta, bazıları da bir yıla yakın yaşar.

Kelebeklerin yaşam döngüsü yumurta evresiyle başlar. Kelebekler, kışa yakın bir zamanda yumurtalarını bitkilerin üzerine bırakırlar. Yumurtalar, güçlü bir yapıştırıcıya benzeyen bir salgıyla yaprağa yapışır. Ayrıca yumurtaların üzerini kaplayan bir koruyucu tabaka da bulunur. Bu sayede sıcaktan ya da soğuktan kendilerini korurlar. Yumurta evresi çoğunlukla birkaç hafta sürer.

Yumurtadan tırtıllar çıkar ve neredeyse hiç durmadan yaprak yerler. Tırtıllar birçok hayvanın besin kaynağıdır; ancak onların, korunmalarını sağlayan bazı ilginç özellikleri vardır. Örneğin, bazıları başlarını şişirir ve yılan gibi görünür. Bazılarının bedenlerinin uç kısmında göze benzer şekiller vardır. Böylece büyük bir hayvanmış izlenimi verirler. Bazıları da kötü bir koku salgılar. Bu, onları kuşlara ve böceklere av olmaktan korur.

İlkbaharda güneş kendini iyice hissettirmeye başladığı zaman tırtıllar uygun bir yer bulur ve buraya yapışırlar. Koza oluşturduktan sonra "BAŞKALAŞIM" geçirirler. Kanatları oluşur ve ergin bir kelebek haline dönüşmeye başlarlar.

Başkalaşım tamamlandığında koza açılır ve önce kanatlarını dışarı çıkarırlar. Henüz buruşuk ve ıslak olan kanatları tam olarak açılana kadar uçamazlar. Kanatları kuruyunca uçmaya başlarlar. Kozadan çıkış birkaç saat sürer.

Artık kelebeklerin uçuş zamanı! Çiçek çiçek dolaşarak beslenmeye başlayabilirler. Bazı kelebekler bal özünün yanı sıra çiçek tozu, bitki öz suyu, çürümüş meyveler ve toprakta çözülmüş mineralleri de yerler. Bu sayede gereksinim duydukları su, enerji, sodyum ve diğer mineralleri sağlarlar. Bazı türler bal özünden elde ettikleri sodyumdan daha fazlasına gereksinim duyar. Bunu da topraktan veya insan derisinden sağlarlar. Hatta bazı kelebek türlerini çürümüş bitki ya da hayvanların üzerine konmuş halde görebilirsiniz.

Bu mevsimde boyalı hanım, atalanta, lahana kelebekleri, kaplan, kırlangıç kuyruğu, yırtık pırtık ve tavus kelebeklerini görebilirsiniz.

Burcu Meltem ARIK

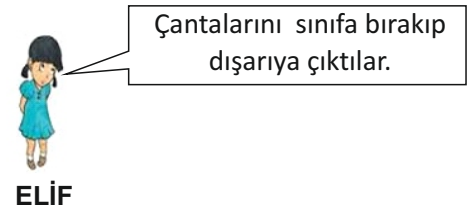
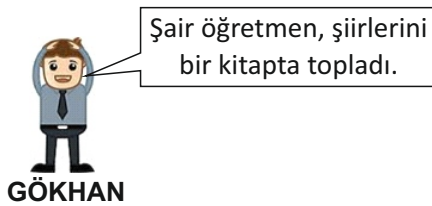
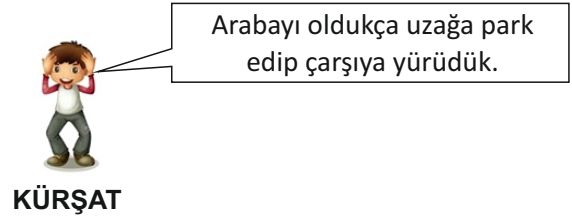
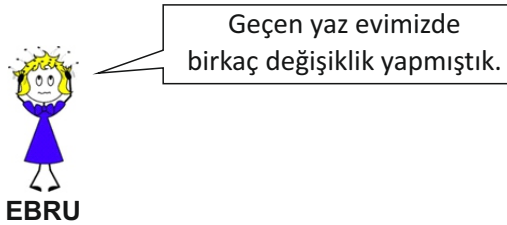
Soru 5. Metnin konusu aşağıdakilerden hangisidir?

- A) Kelebek tırtıllarının başkalaşımı
- B) Kelebeklerin beslenmesi
- C) Tırtılların ilginç korunma özellikleri
- D) Kelebeklerin yaşam döngüsü

Soru 6. Metinden, aşağıdaki sonuçların hangisi çıkarılamaz?

- A) Kelebekler, başkalaşım geçiren hayvanlardır.
- B) Kelebekler, yumurtlayarak nesillerini devam ettirir.
- C) Kelebekler, kutuplar dışında dünyanın her yerinde yaşayabilir.
- D) Kelebeklerin yiyeceklerinden bazıları balözü, çiçek tozu, bitki öz suyu çürümüş meyveler ve toprakta çözülmüş minerallerdir.

Soru 7. Öğretmenin, “İçinde iyelik eki almış sözcük bulunan birer cümle kurunuz.” şeklindeki isteğine uygun olarak cümle kuran ve söyleyen öğrencilerden hangisinin cümlesi doğru değildir?



- A) Ebru
- B) Kürşat
- C) Gökhan
- D) Elif

(8. soruyu aşağıdaki şiire göre cevaplandırınız.)

MEMLEKET İSTERİM

Memleket isterim
Gök mavi, dal yeşil, tarla sarı olsun;
Kuşların çiçeklerin diyarı olsun.

Memleket isterim
Ne başta dert, ne gönülde hasret olsun;
Kardeş kavgasına bir nihayet olsun.

Memleket isterim
Ne zengin fakir, ne sen ben farkı olsun;
Kış günü herkesin evi barkı olsun.

Memleket isterim
Yaşamak, sevmek gibi gönülden olsun;
Olursa bir şikâyet ölümden olsun.

Cahit Sıtkı TARANCI

Soru 8. Şairin memleketiyle ilgili istekleri arasında olmayan hangisidir?

- A) Kirletilmemiş bir doğanın kucağında hayvanların, bitkilerin tatlı uyumu arasında huzurla yaşayabileceği bir memleket istiyor.
- B) Sevgi-saygı bağı ile kenetlenmiş, mutlu insanların yaşadığı kavgasız gürültüsüz bir memleket istiyor.
- C) İnsanları arasında ayırımın olmadığı, adil paylaşımın olduğu, herkesin temel ihtiyaçlarının karşılandığı bir ülke istiyor.
- D) Bazı huzursuzluklar, çatışmalar, evsiz barksız insanlar olsa da zenginlik ve lüks içinde yaşama olanağı bulabileceği bir ülke istiyor.

Soru 9. Aşağıdaki cümlelerden hangisinin yüklemi olumsuz bir fiil değildir?

- A) Çocukların sevdiği uğraşlardan biri de yapboz kurmadır.
- B) Babam, işleri nedeniyle saat altıdan önce eve gelmez.
- C) Arkadaşlarım oynasa da ben yolda oyun oynamam.
- D) Dört kardeştirler; ama yaşlı annelerine bakmıyorlar.

Soru 10. Aşağıdaki metinde, sayı sıfatlarından hangisine örnek yoktur?

“Bir anne ve üç çocuğu birlikte mutlu mesut yaşıyorlarmış. Anne, bir sabah kahvaltıda yemeleri için çocuklarına yumurta haşlamış; ama evde üç yumurta varmış. Anne:

– Bu sabah size evde son kalan üç yumurtayı haşladım. Birer yumurta yiyeceksiniz, demiş.

Çocuklar annelerinin yumurta yiyemeyecek olmasına üzülmüşler. Bunun üzerine anneleri:

– Üzülmeyin, herkes yumurtasından yarım yumurta da bana keserse ben de yemiş olurum, demiş.

Çocuklar seve seve yarımşar yumurta kesip annelerine vermişler. Böylece hep birlikte güzel bir kahvaltı yapıp keyifle güne başlamışlar.”

- A) Kesir sayı sıfatı
- B) Sıra sayı sıfatı
- C) Asıl sayı sıfatı
- D) Üleştirme sayı sıfatı

Soru 11. Aşağıdaki numaralandırılmış cümlelerde geçen altı çizili sesteş sözcüklerden hangileri isim köktür?

1. Kurallarına uygun olarak yüz ki yarışı kazanma şansın olsun.
2. O gün yüz hatlarından çok sevinçli olduğunu anlamıştık.
3. Kasap Amca koyunu dikkatle yüz ki postu zarar görmesin.
4. Yüz, üç basamaklı sayıların en küçüğüdür.

- A) 1 - 3
- B) 1 - 4
- C) 2 - 4
- D) 2 - 3

Soru 12. Aynı sınıfta okuyan Yazgı, Gülçin, Özge ve Yaman yandaki kelime ağacından topladıkları sözcükleri yapılarına göre uygun kutulara yerleştirmişlerdir. Öğrencilerden hangisi ağaçtan topladığı sözcüklerin tümünü de doğru kutulara yerleştirmiştir?



- A) Yazgı
- | | | |
|--------------------|---------------------|----------------------------|
| Basit | Bileşik | Türemiş |
| kanepe
portakal | kaybol
pazartesi | çalışkan
ölçüm
sargı |
- B) Gülçin
- | | | |
|---------------------------------|--------------------|----------------|
| Basit | Bileşik | Türemiş |
| pazartesi
portakal
kanepe | kaybol
çalışkan | ölçüm
sargı |
- C) Özge
- | | | |
|--------------------|-----------------------|--------------------------|
| Basit | Bileşik | Türemiş |
| kanepe
portakal | çalışkan
pazartesi | kaybol
ölçüm
sargı |
- D) Yaman
- | | | |
|--------------------|------------------------------|-------------------|
| Basit | Bileşik | Türemiş |
| kanepe
portakal | sargı
kaybol
pazartesi | çalışkan
ölçüm |

Soru 13. Aşağıda verilen parçaya göre, uçurtma görmek yazara neyi hatırlatıyor?

“Baktım çocuklar uçurtma uçuruyor. Her yıl, bahar aylarında, uçurtmayı gördüm mü, bir üzüntü duyarım içimde, ağlamaklı olurum. Ben uçurtma uçurmadım ki! Çocukluğumda pek isterdim uçurtma uçurmayı... O renk renk kağıtlardan yapılmış uçurtmaların havalanmasına içimi çekerek bakardım. Annem bırakmazdı beni uçurtma uçurmaya. Soğuk alır hastalanırmışım...”

Nurullah ATAÇ

- A) Uçurtma uçurduktan sonra soğuk alıp hastalandığı günleri hatırlatıyor.
- B) Çocukluğunda çok istediği halde uçurtma uçurmaya annesinin izin vermeyişini hatırlatıyor.
- C) Renk renk kağıtlardan yaptığı uçurtmalarının hiç havalanmadığını hatırlatıyor.
- D) Bahar aylarında çocukluk arkadaşlarıyla uçurtma uçurdukları günleri hatırlatıyor.

Soru 14. Aşağıdaki cümlelerin hangisinde öge dizilişi “tümleç – özne – tümleç – yüklem” sıralamasındadır?

- A) Busenur ailesiyle birlikte dün sabah uçakla İstanbul'a gitti.
- B) Yaz akşamları komşu çocuklarla mahallede saklambaç oynardık.
- C) Aysel'in doğum günü partisine ablam yeni elbiselerini giyip gitti.
- D) Sebze meyveyi mahallemize kurulan pazardan annem aldı.

Soru 15. Aşağıdaki numaralandırılmış cümlelerin hangilerinde hem niteleme hem belirtme sıfatı almış bir isim vardır?

- I. Şu iki çocuk bizim sınıftandır.
- II. Kalın beyaz çizgiler basketbol sahasının sınırlarıdır.
- III. Gördüğün o kırmızı araba dedemden bize hatıradır.
- IV. Hangi yaramaz çocuğun camı kırdığını öğrenemedik.

- A) I. ve II.
- B) III. ve IV.
- C) II. ve III.
- D) I. ve IV.

Soru 16. Aşağıdaki cümlelerin hangisinde ilgi zamiri kullanılmıştır?

- A) Öyle çok yorulmuştu ki televizyon seyrederken uyuyakaldı.
- B) Öğretmenimiz, yarınki sınavda sorumlu olacağımız konuları söyledi.
- C) Seninkinin şarjı tükenmişse benim telefonumu kullanabilirsin.
- D) İlbaharın gelişyle birlikte bahçedeki çiçekler renk renk açtı.

Soru 17. Aşağıdaki metinde geçen sıfatlar hangi seçenekte doğru sıralanmıştır?

Doğum günüydü. Babası ona doğum günü hediyesi olarak kafesin içinde iki kuş hediye etmişti. Hediye verirken de "Bu kuşlar artık senin. Onlara artık sen bakacak, sen besleyeceksin." demişti. Çok sevinmişti.

Kuşlar, kanaryaydı. Güzel sesleriyle ötüp duruyorlardı. Onları hangi yemlerle besleyeceğini bilmiyordu. Araştırdı, öğrendi. Her sabah kafesi temizler, yemlerini koyar, sularını doldururdu. Tüyleri etrafa uçmasını diye kafese tül giydirmişti.

- A) Asıl sayı sıfatı – işaret sıfatı – niteleme sıfatı – soru sıfatı – belgisiz sıfat
- B) Sıra sayı sıfatı – işaret sıfatı – belirtme sıfatı – belgisiz sıfat – belgisiz sıfat
- C) Kesir sayı sıfatı – işaret sıfatı – niteleme sıfatı – soru sıfatı – kesir sayı sıfatı
- D) Asıl sayı sıfatı – niteleme sıfatı – işaret sıfatı – soru sıfatı – belgisiz sıfat

Soru 18. Aşağıdaki cümlelerde yer alan altı çizili sözcüklerden hangisinde hem yapım hem de çekim eki vardır?

- A) Vatandaşlık hak ve ödevlerimize sahip çıkmalıyız.
- B) Ağacın dalları arasında küçük bir yuva vardı.
- C) Balıkçılık yaparak ekmeğini denizden çıkarıyor.
- D) Kirli masa örtüsü temiz olanla değiştirildi.

(19. soruyu aşağıdaki şiire göre cevaplayınız.)

A	A	A	Sönük ocakları yandıran,A
A	A	A	Soğuk kucakları ısıtanA
A			Senin güneşin çocuk.A
A	A	A	Keşertir ruhumuzun kırlarını,A
A	A	A	Erirtir içimizin karlarınıA
A	A	A	Bir gülüşün çocuk.A
A	A	A	
A	A	A	El atsan yakalarsın Ay'ı,A
A	A	A	Yıkar, yaparsın dünyayı,A
A	A	A	Ne büyük işin çocuk!A

Soru 19. Şiirden hareketle, çocuklarla ilgili düşüncelerden hangisine ulaşamaz?

- A) Çocuklar evlerin, ailelerin, toplumların mutluluk kaynağıdır.
- B) Çocuklar arasında dil, din, ırk, milliyet ayrımı yapılamaz.
- C) Çocukların olduğu yerlerde mutsuzluk ve karamsarlık olmaz.
- D) Çocuklar geleceği kuracak bireylerdir, güvendir, umuttur.

Soru 20. “Koşmak” fiilinin geniş zamanda tüm şahıslara (kişilere) göre çekimlenmiş doğru ve sıralı hali hangisidir?

- A) Koşarım – koşarsınız – koşar – koşarlar – koşarsın – koşarsınız
- B) Koşuyorum – koşuyorsun – koşuyor – koşuyoruz – koşuyorsunuz – koşuyorlar
- C) Koşarım – koşarsın – koşar – koşarsınız – koşarsınız – koşarlar
- D) Koşuyoruz – koşuyorsunuz – koşuyorlar – koşuyorum – koşuyorsun – koşuyor

Soru 21. Aşağıdaki cümlelerin hangisinde küçültme sıfatı yoktur?

- A) Bebek minicik elleriyle annesinin saçlarını okşuyordu.
- B) Şişmanca vücuduyla yarışı tamamlamayı başardı.
- C) Marketten aldığımız elmaların ekşimsi bir tadı vardı.
- D) Sürekli açmak zorunda kaldığım için kalemim ufacık kaldı.

Soru 22. Aşağıdaki cümlelerden hangisinin yüklemi fiildir?

- A) Bu, benim üzerinde ders çalıştığım masadır.
- B) Baharın müjdesini veren göçmen kuş, kırlangıçtır.
- C) Yaz tatilinde yurt dışına geziye gitmeyi düşünüyoruz.
- D) Şu dağın zirvesinde beliren ışık topu, dolunaydır.

Soru 23. Aşağıda numaralandırılmış olarak verilen atasözlerinin hangilerinde “ki” sıfat türeten bir ek olarak kullanılmıştır?

- I. Evdeki hesap çarşıya uymaz.
- II. Tencere dibin kara, seninki benden kara.
- III. Milletın ağızı torba değil ki büzesin.
- IV. Yerdeki yüze kimse basmaz.

- A) II. ve III. atasözlerinde
- B) I. ve IV. atasözlerinde
- C) III. ve IV. atasözlerinde
- D) I. ve II. atasözlerinde

Soru 24. Aşağıdaki cümlelerin hangisinde pekiştirme sıfatı yoktur?

- A) Yemyeşil ekinler doğamıza ayrı bir güzellik kattı.
- B) Arkadaşım, elinde büyük büyük kitaplar taşıyordu.
- C) Köyün dışında güzel mi güzel bir evleri vardı.
- D) Öğretmenimiz gelmediği halde sınıfta sakın sakın oturduk.

Soru 25. “Öğrenciler çizgi filmdeki benekli köpeğe çok güldüler.” cümlesinde yüklemın zaman ve kişisi hangi seçenekte doğru verilmiştir?

- A) Di'li geçmiş zaman – III. çoğul kişi
- B) Geniş zaman – II. çoğul kişi
- C) Di'li geçmiş zaman – III. tekil kişi
- D) Şimdiki zaman – III. tekil kişi

Soru 26. “Evlerinin önünde rengarenk güller, karanfiller açmıştı.” cümlesindeki sıfat tamlamasıyla ilgili aşağıdakilerden hangisi söylenebilir?

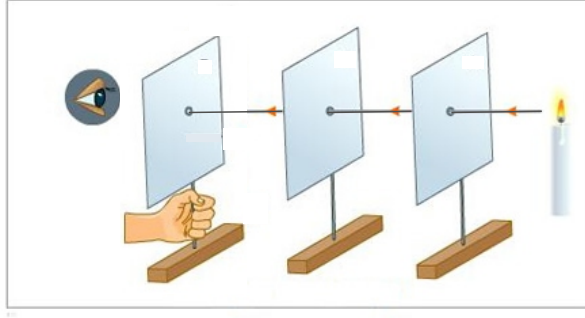
- A) Birden çok sıfat bir ismi nitelemiştir.
- B) Bir sıfat birden çok ismi nitelemiştir.
- C) Bir sıfat bir ismi nitelemiştir.
- D) Bir ismi bir sıfat nitelemiştir.

Soru 27. Aşağıdaki cümlelerin hangisinde “mi” sözcüğü soru eki olarak kullanılmıştır?

- A) Hava soğuk mu soğuktu; ama inşaattaki işçiler çalışıyordu
- B) Hava sıcak oldu mu açık renk ve ince giysiler giyeriz
- C) Okul dendi mi aklıma öğrenciliğim, arkadaşlarım gelir
- D) Yarınki tiyatro oyununu izlemeye o da mı geliyor

**TÜRKÇE TESTİNİZ BİTMİŞTİR.
YANITLARINIZI KONTROL EDEREK
FEN VE TEKNOLOJİ TESTİNE GEÇİNİZ.**

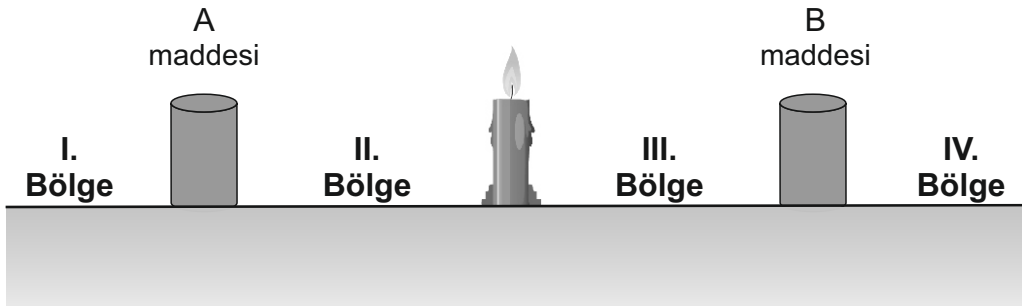
Soru 1. Fen Bilimleri dersinde öğretmenimiz laboratuvarında mum ve ortası delikli karton kullanarak aşağıdaki düzeneği hazırlıyor.



Öğretmenimiz bu deney düzeneğini hangi amaçla hazırlamıştır?

- A) Mumun aydınlatmadaki gücünü gösterme
- B) Işık ışınlarının yayılış şeklini gösterme
- C) Ay ve Güneş tutulması olayını anlatma
- D) Gölge oluşumunu gösterme

Soru 2. Aşağıdaki şekilde A maddesi ile B maddesinin ortasına yanan bir mum yerleştirilmiştir. **Buna göre, maddelerin gölge oluşumuyla ilgili olarak verilenlerden hangisi doğrudur?**



- A) A maddesinin gölgesi III. bölgede oluşur.
- B) B maddesinin gölgesi I. bölgede oluşur.
- C) B maddesinin gölgesi IV. bölgede oluşur.
- D) A maddesinin gölgesi II. bölgede oluşur.

Soru 3.



K



L



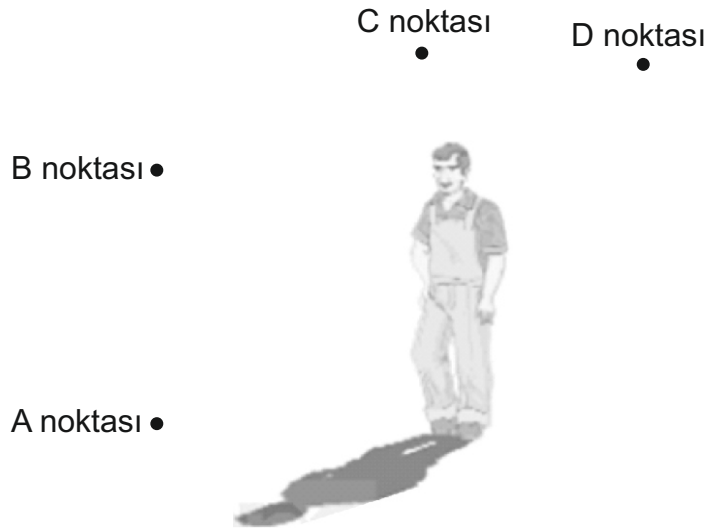
Ayşe, K ve L maddesi arkasından baktığında topu görememektedir. L maddesi kaldırıldığı zaman ise topu **net olarak** görmektedir. **Buna göre, K ve L maddelerinin ışığı geçirme durumları aşağıdakilerden hangisinde doğru olarak verilmiştir?**

K maddesiL maddesi

- | | |
|----------------------|-------------------|
| A) Yarı saydam madde | Yarı saydam madde |
| B) Opak madde | Saydam madde |
| C) Saydam madde | Yarı saydam madde |
| D) Saydam madde | Opak madde |

Soru 4. Aşağıdaki şekilde güneşli bir günde yolda yürüyen bir adam ve önünde oluşan tam gölgesi görülmektedir.

Buna göre, resimdeki tam gölgenin oluşması için Güneş hangi noktada bulunmalıdır?



- A) A noktasında
 B) B noktasında
 C) C noktasında
 D) D noktasında

Soru 5. Ayşe, Ece ile vakit geçirmek için Ece'nin evine gitmiş ve eliyle kapıya vurarak, evin içerisinde bulunan Ece'ye kapıda olduğunu duyurmuştur.

Yukarıdaki olayda Ayşe'nin ahşap kapıya vurarak oluşturduğu ses hangi ortamlardan yayılarak Ece'nin kulağına ulaşmıştır?

- A) Katı - Sıvı
- B) Gaz - Katı - Gaz
- C) Katı - Gaz
- D) Katı - Gaz - Sıvı

Soru 6. Ali ile Ayşe, tren yolunun kenarında yürümektedirler. Ali, eğilerek kulağını raylara dayar. Böylece uzaktan gelen trenin sesini duymaya başlar. Ayşe ise trenin sesini daha sonra duyar.

Ali'nin, trenin sesini Ayşe'den önce duymasının sebebi aşağıdakilerden hangisidir?

- A) Ses en hızlı katılarda yayılır.
- B) Ses, dalgalar halinde yayılır.
- C) Ses, her yöne yayılır.
- D) Ses, en iyi havada yayılır.

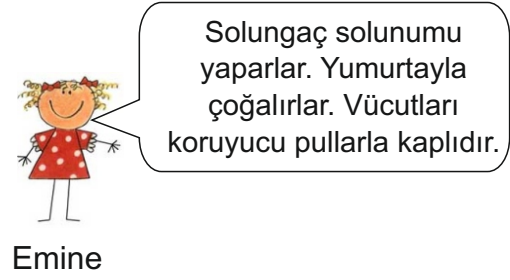
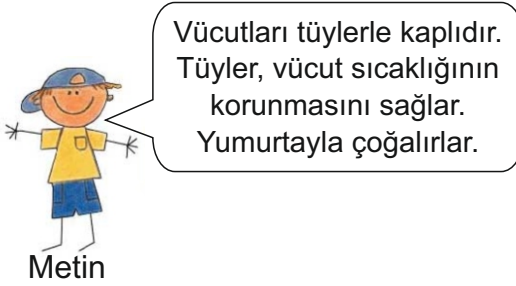
Soru 7. Gitar, davul, flüt gibi farklı müzik aletlerini görmeden, bu aletlerden çıkan seslerin hangi müzik aletine ait olduğunu rahatlıkla söyleyebiliriz.



Bu durumun nedeni, aşağıda verilen sesle ilgili özelliklerden hangisiyle açıklanmaktadır?

- A) Sesin tüm ortamlarda yayılması
- B) Sesin titreşimler sonucunda oluşması
- C) Farklı ses kaynaklarından üretilen seslerin farklı olması
- D) Aynı sesin farklı ortamlarda farklı duyulması

Soru 8. Aşağıdaki çocuklar, evde besledikleri hayvanlarla ilgili özellikleri sıralamışlardır. Buna göre **Metin ve Emine'nin besledikleri hayvanlar hangi seçenekte doğru olarak verilmiştir?**



<u>Metin</u>	<u>Emine</u>
A) Kuş	Balık
B) Köpek	Örümcek
C) Balık	Kurbağa
D) Kaplumbağa	Balık

Soru 9. Aşağıdaki tabloda verilen mantar çeşitleri ile açıklamaları hangi seçenekte doğru olarak eşleştirilmiştir?

Mantar Çeşitleri	Açıklamalar
1- Şapkalı mantar	A- Canlı kalıntıları çürüterek yaşar.
2- Küf mantarı	B- Besinlerini, toprağa tutunarak veya başka canlılardan alır.
3- Maya mantarı	C- Şekerli ılık su içerisinde hızla çoğalır.

- A) 1 - A, 2 - B, 3 - C
 B) 1 - C, 2 - B, 3 - A
 C) 1 - B, 2 - A, 3 - C
 D) 1 - C, 2 - A, 3 - B

Soru 10. Ali, yaptığı gözlemede topraktan bir bitkinin kökünü çıkarmış, büyüteçle incelemektedir. Bu sırada kökün uç kısmında ince uzantılar görür. **Bu ince uzantılarla ilgili aşağıda verilen bilgilerden hangileri doğrudur?**

- I. Bu uzantılara "Emici tüyler" adı verilir.
- II. Kökün topraktaki suyu ve çözünmüş mineralleri almasını sağlar.
- III. Bitkinin dik durmasını sağlar.

- A) Yalnız II
- B) II ve III
- C) I, II ve III
- D) I ve II

Soru 11. Yeni kurulan bir fabrika, bacasından çıkan zehirli dumanı havaya, atık sularını da yakınında bulunan göle bırakmaktadır.

Buna göre aşağıda verilenlerden hangileri bu fabrikanın çevreye yaptığı olumsuz etkilerdendir?

- I. Bazı canlıların yok olması
- II. Hava ve su kirliliğine neden olması
- III. Birçok canlının yaşam alanlarının zarar görmesi

- A) I, II ve III
- B) II ve III
- C) I ve II
- D) I ve III

Soru 12. Kurulan basit bir elektrik devresinde ampul ışık vermemektedir. Bunun nedeni:

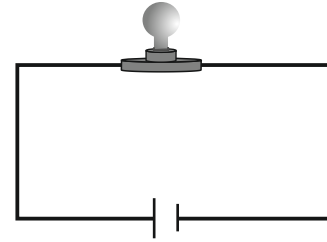
- I. Bağlantının kopması
- II. Pil ömrünün tamamlanmış olması
- III. Ampulün içindeki telin kopmuş olması
- IV. Pile doğru bağlantının yapılmamış olması

Seçeneklerinden hangileri olabilir?

- A) I ve II
- B) I, II, III ve IV
- C) III ve IV
- D) II, III ve IV

Soru 13. Verilen basit elektrik devresinde, aşağıdaki işlemler yapılıyor.


- I. Pil sayısı değiştirilmeden lamba sayısı artırılıyor.
- II. Lamba sayısı değiştirilmeden pil sayısı artırılıyor.



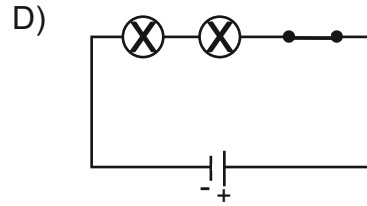
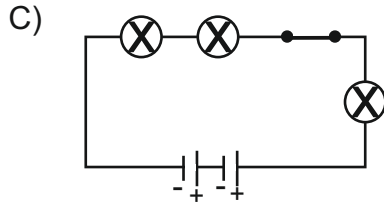
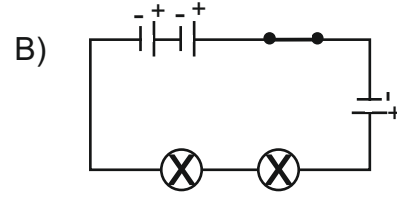
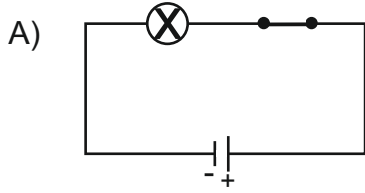
Yapılan işlemler lambanın parlaklığını nasıl etkiler?

- | <u>I</u> | <u>II</u> |
|-------------|-----------|
| A) Değişmez | Artar |
| B) Azalır | Artar |
| C) Artar | Değişmez |
| D) Değişmez | Azalır |

Soru 14.




Tahtaya çizmiş olduğum basit elektrik devresinin şema olarak gösterimi aşağıdakilerden hangisidir?



**FEN VE TEKNOLOJİ TESTİNİZ BİTMİŞTİR.
YANITLARINIZI KONTROL EDEREK SOSYAL BİLGİLER TESTİNE GEÇİNİZ.**

Soru 1.



Geçmişte teknoloji bugünkü kadar ilerlemiş değildi. UlaşımI..... ile sağlanmakta, evler ise tek katlı ve kerpiçten yapılmaktaydı. TarlalarII..... ile sürülür, ekinlerIII..... ile biçilirdi.

Yukarıdaki anlatımda boş bırakılan yerlere sırası ile hangisi gelmelidir?

- | <u>I</u> | <u>II</u> | <u>III</u> |
|----------------|--------------|--------------|
| A) Otomobiller | - Çapa | - Orak |
| B) Eşekler | - Traktör | - Biçerdöver |
| C) Eşekler | - Kara saban | - Orak |
| D) Otomobiller | - Kara saban | - Biçerdöver |

Soru 2. Bilim ve teknoloji yoluyla, farklı enerji kaynakları ile çalışabilen ulaşım araçları icat edilmesi için çalışmalar sürdürülmektedir. Bu durumun en önemli nedeni, ulaşım araçlarında yaygın olarak kullanılan enerji kaynağının giderek azalmasıdır. **Azalan bu enerji kaynağı aşağıdakilerden hangisidir?**

- A) Petrol
- B) Güneş
- C) Rüzgar
- D) Kömür

Soru 3. Okul müdürü, öğrencilerin okula gelirken karşılaştığı güvenli ulaşım ve bisiklet kullanımıyla ilgili sorunların giderilmesi için aşağıda verilen kurumlardan hangisiyle iletişime geçmelidir?

- A) Tüketiciler Birliği
- B) Kansere Mücadele Derneği
- C) Hayvanları Koruma Derneği
- D) Trafik Kazalarını Önleme Derneği

Soru 4. Aşağıda verilen özellikler ile tanımladıkları haberleşme araçları hangi seçenekte doğru olarak eşleştirilmiştir?

Özellikler	Haberleşme Araçları
A- Kişilere karşılıklı konuşma veya mesaj gönderme imkanı veren haberleşme aracıdır.	1- TELGRAF
B- Mesajın teller aracılığı ile gönderildiği haberleşme aracıdır.	2- CEP TELEFONU
C- Sözlü ve görüntülü olarak haber almamızı sağlayan araçtır.	3- GAZETE
D- Çeşitli konularda haber ve bilgi veren her gün ya da belirli sürelerle çıkan yayın aracıdır.	4- TELEVİZYON

- A) A - 4, B - 3, C - 1, D - 2
 B) A - 2, B - 1, C - 4, D - 3
 C) A - 1, B - 4, C - 3, D - 2
 D) A - 3, B - 2, C - 4, D - 1

Soru 5. Aşağıdakilerden hangisi bilimsel bir ifadedir?

- A) Anneme göre süt içmek boy uzaması için önemlidir.
 B) Bir üniversitenin yaptığı araştırmada, günde iki bardak süt içmenin, kemik gelişimi için gerekli olduğu sonucuna ulaşılmıştır.
 C) Ninemin söylediğine göre, süt içen çocuklar daha açık tenli ve zeki olur.
 D) Bence, yalnızca süt içmek gelişimimiz için yeterli değildir. Bunun yanında diğer besinleri de dilediğimiz kadar tüketmeliyiz.

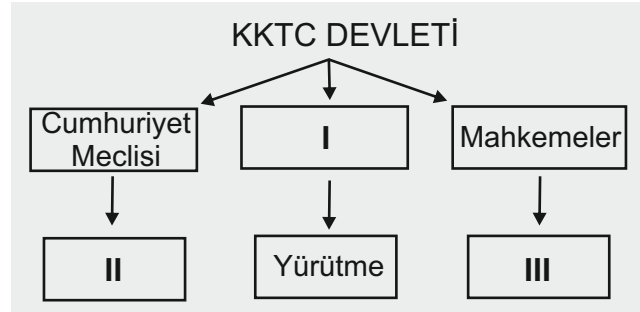
Soru 6.

Bir toplumda devlet kurumları yanında, halkın kurduğu çeşitli kurum ve kuruluşlar da bulunur.

Yukarıdaki açıklamaya göre aşağıdakilerden hangisi halkın kurduğu kuruluşlardan biridir?

- A) İtfaiye teşkilatı
- B) Polis örgütü
- C) Bedensel Engelliler Derneği
- D) Milli Eğitim Bakanlığı

Soru 7.



Verilen kavram haritasında numaralandırılmış yerlere sırasıyla aşağıdaki seçeneklerden hangisi gelirse tablo doğru olarak tamamlanmış olur?

- | <u>I</u> | <u>II</u> | <u>III</u> |
|--------------------|-----------|-------------------|
| A) Bakanlar Kurulu | - Yasama | - Yargı |
| B) Bakanlar Kurulu | - Yargı | - Yasama |
| C) Cumhurbaşkanı | - Yasama | - Yargı |
| D) Yasama | - Yargı | - Bakanlar Kurulu |

Soru 8.

Biz son yapılan seçimde halk tarafından meclise gönderilen 50 milletvekiliyiz. Görevimizin ikinci yılına başladığımız şu günlerde bir milletvekili görevinden istifa ederek aramızdan ayrıldı.

İstifa eden milletvekilinin yeri nasıl doldurulacak?

- A) Seçilemeyen diğer kişiler arasında en yüksek oyu alan kişi milletvekili olacak.
- B) Tümünü istifa edip genel seçime gidilecek.
- C) Başbakan yeni bir kişi atayacak.
- D) Boşalan yeri doldurmak için ara seçim yapılacak.

Soru 9.

Selin Hanım 34 yaşındadır.

Emine Hanım 40 yaşındadır.

Kayhan Bey 28 yaşındadır.

Bora Bey 60 yaşındadır.

Yukarıda yaşları verilmiş dört kişiden hangileri ülkemizde cumhurbaşkanı seçilebilir?

- A) Selin Hanım ve Kayhan Bey
- B) Emine Hanım ve Bora Bey
- C) Kayhan Bey ve Selin Hanım
- D) Emine Hanım, Bora Bey ve Selin Hanım

Soru 10.

- Halkın kendi kendiniI..... demokrasi denir.
- Demokrasilerde insanlar arasında hiçbirII..... gözetilmez.
- Demokrasilerde insanlar kararlarınıIII..... olarak verir.
- Demokrasilerde insanların davranışlarıIV..... uygun olmalıdır.

Yukarıda verilen ifadelerde boş yerler, sırasıyla hangi kavramlarla tamamlanmalıdır?

- | <u>I</u> | | <u>II</u> | | <u>III</u> | | <u>IV</u> |
|----------------|---|-----------|---|------------|---|---------------|
| A) savunmasına | – | denge | – | gizli | – | düşüncelerine |
| B) savunmasına | – | ayrım | – | gizli | – | yasalara |
| C) yönetmesine | – | ayrım | – | özgür | – | yasalara |
| D) yönetmesine | – | denge | – | özgür | – | düşüncelerine |

**SOSYAL BİLGİLER TESTİNİZ VE SINAVINIZIN I. OTURUMU BİTMİŞTİR.
YANITLARINIZI KONTROL EDİNİZ.**