



KKTC MİLLÎ EĞİTİM BAKANLIĞI

KOLEJLERE GİRİŞ SINAVI-1 (KGS-1)

23 OCAK 2016 CUMARTESİ

İsim/Soy isim:.....

Aday No:.....

1. OTURUM SORU KİTAPÇIĞI

TÜRKÇE - FEN VE TEKNOLOJİ - SOSYAL BİLGİLER

GENEL AÇIKLAMA

1. Bu kitapçık, Türkçe, Fen ve Teknoloji ve Sosyal Bilgiler testlerini içermektedir. Kitapçık, 23 sayfadan oluşmaktadır. Sizlere bu üç testi cevaplayacağınız bir de TEST CEVAP KAĞIDI verilmiştir. Soru kitapçıklarının dağıtılmasının ardından salon başkanının gözetiminde kitapçığınızı kontrol ediniz. Hatalı olan kitapçıklar sınav başlamadan önce mutlaka değiştirilecektir.
2. Size dağıtılan Cevap Kağıdının üzerine adınız, soyadınız ve aday numaranız bilgisayar tarafından yazılmış ve kodlanmıştır. Cevap Kağıdının size ait olup olmadığını ve aday numaranızın doğru kodlanmış olup olmadığını kontrol ediniz.
3. Bu test 27 Türkçe, 14 Fen ve Teknoloji ile 10 Sosyal Bilgiler sorusundan oluşmaktadır. Tüm soruları cevaplandırmanız için sizlere toplam **90 dakikalık** süre verilecektir.
4. Her soru için dört farklı seçenek verilmiştir. Bu seçeneklerden sadece bir tanesi doğru yanıt olup diğerleri yanlıştır.
5. Cevap kağıdında her sorunun karşısında bulunan şıklardan doğru yanıt olan dairenin içini koyu siyah ve yumuşak bir kurşun kalemle iyice karalayınız. **Kurşun kalem dışında başka çeşit kalem kullanmayınız.** Yanlış karalamalarınızı düzeltirken iz bırakmayacak şekilde dairenin içini yumuşak bir silgiyle iyice siliniz.
6. Soru kitapçığı üzerindeki boş yerleri işlem yapmak için kullanabilirsiniz.
7. Cevap kağıdınızı buruşturmayınız ve üzerine gereksiz işaret koymayınız.
8. Bilmediğiniz soruların üzerinde fazla zaman kaybetmeden diğer sorulara geçiniz. Zamanınız kalırsa yapmadıklarınızı yeniden gözden geçirirsiniz.

Şimdi aşağıdaki örnek sorunun nasıl cevaplandırılacağını beraberce inceleyelim.

ÖRNEK SORU: “Temiz” sözcüğünün (zıt) anlamlısı hangisidir?

A) Saf

B) Kirli

C) Yıkanmış

D) Pak

Bu sorunun doğru cevabı “Kirli” dir. Doğru olan bu cevap B seçeneğidir. Onun için, cevap kağıdındaki bu soruya ait seçeneklerde B dairesinin içi karalanmıştır. Hepinize başarılar dileriz.

(A)

(B)

(C)

(D)

Soru 1. Aşağıdaki sözcüklerin sonuna sesli (ünlü) harfle başlayan bir ek getirildiği zaman kaç tanesinin sonundaki ses yumuşar?

durak – yoğurt – balık – Recep – cumhuriyet – kireç – şurup – saç

- A) 3
- B) 4
- C) 5
- D) 6

Soru 2. “SAMAN” sözcüğü içinde bulunan alfabemizin 16. harfi, alfabemizin 20. harfi ile değiştirilirse hangi sözcük elde edilir?

- A) YAMAN
- B) SAHAN
- C) ZAMAN
- D) SAPAN

Soru 3. "Kış geceleri nineciğimin etrafına oturur, anlattığı masalları dinlerdik." cümlesinde geçen altı çizili sözcükteki “ – cik ” eki, sözcüğe aşağıdaki anlamlardan hangisini yüklemiştir?

- A) Acıma
- B) Sevgi
- C) Küçültme
- D) Yaşlılık

Soru 4. “ Söylenen söz yalan ise durum çok geçmeden anlaşılır.” cümlesi aşağıdaki atasözlerinden hangisini açıklar?

- A) Yalancının evi yanmış, kimse inanmamış.
- B) Ardıcın közü olmaz, yalancının sözü olmaz.
- C) Yalancının mumu yatsıya kadar yanar.
- D) Çok söz yalansız, çok para haramsız olmaz.

(5. ve 6. soruları aşağıdaki metne göre cevaplayınız.)

TATLI DİL

Mağaza vitrinlerindeki mankenleri bilirsiniz. Hepsi güler yüzlüdür. İçlerinde pek de güzelleri vardır; fakat dilleri olmadığı için soğukturlar. Oysa gerçek insanları farklı kılan, sıcak yapan dilleridir; ancak her dil değil. Dilin de tatlısı olmalı. Bir insanın her şeyi tatlı; ama dili acı konuşuyor ise ne yapsa kar etmez. Öylesinin sevimli, cana yakın olmasına imkan yoktur. Çünkü o dil ağzın içinde her dönüşünde can yakar, kalp kırar, gönül devirir. Üstelik acı dilin zararı yalnız karşısındakine değildir; kendi sahibini de dünya güzeli olsa çirkinleştirir. Nice güzel insanlar vardır ki dilleri yüzünden sevilmezler.

Tatlı dil öyle mi ya? Yılanı deliğinden çıkarır, derler. Yılan pek insan dilinden anlamaz; ama tatlı dilin neler yapmaya yettiğini anlatmak için herhalde böyle demişler. Ne kadar öfkeli olursanız olun tatlı dil sizi yatıştırır. En yapmayacağınız işleri size tatlı dille, güler yüzle yaptırır. “Haydi şekerim şunu yapar mısınız?” demek başka, “Kalk şunu yap!” demek başkadır. “Kalk şunu yap!” dedikleri zaman “Ne etsem de yapmasam?” diye düşünürsünüz. “Ne diye yapacaktım? Mecbur muyum? Başkası yapsın! Hep bize mi yükleniyorlar? Yapmayacağım işte!” dersiniz. Ortada hiç bir sebep olmasa bile yapmamanın yollarını ararsınız; eninde sonunda yapmaya mecbur olsanız dahi daha iyi yapmaz, baştan savarsınız. Çünkü bu emir size dilin tatlı tarafından gelmemiştir. Bir de: “Haydi şekerim, ne olur, şunu yapar mısınız?” dediklerini düşünün. İşleriniz biraz ters gitmiş, eve yorgun gelip koltuğa henüz sırtınızı dayamış bile olsanız, bu tatlı dil sizi yerinizden kaldırır. İşleriniz ters gitmişse “Bunda evdekilerin ne suçu var?” diye düşünürsünüz. Ne kadar yorgun olursanız olun, ufak bir zahmetin sizi daha fazla yormayacağına kendi kendinizi inandırmaya çalışırsınız. İçinizden bir kuvvet, bu tatlı emri yerine getirmeniz için sizi sanki zorlar. Çünkü tatlı dil suratınıza çarpmamış, kalbinize işlemiştir. İnsan kalbi de pek gevrek bir şeydir. Acı dil onu nasıl kırarırse tatlı dil de onarır. Tatlı dilin emrini o keyifsiz halinizle yerine getiriverirsiniz.

“Mademki tatlı dil her kapıyı açan sihirli bir anahtardır, öyle ise ne duruyoruz, dilimizi tatlılaştıralım.” diyen bilmem bulunur mu? Lakin bu, ha deyince olacak işlerden değildir. Gönülleri fetheden tatlı dil, bütün gücünü gönülden alır. İnsanın dilinin tatlı olması için gönlünün tatlı, iyi olması lazımdır. Kötü bir adamın dökeceği tatlı dil, tilkinin kargaya döktüğü tatlı dil gibidir. İnsanı belki kısa bir zaman için aldatır; ama çabucak da foyası meydana çıkar. Hakiki tatlı dil iyi insanda olur. Yüreği merhametle, sevgi ile dolu insanın dili de kendiliğinden tatlılaşır. İnsan bu geçici dünyada gönül yıkmanın, kalp kırmanın boşluğunu sezmeli ki en küçüğünden en büyüğüne kadar herkese tatlı dille, güler yüzle seslenebilsin.

Şevked RADO

Eşref Saati(Kısaltılıp düzenlenmiştir.)

Soru 5. Aşağıdaki vecizelerden (özdeyişlerden) hangisi metnin ana düşüncesini desteklemez?

- A) Dilini kaybeden bir millet, her şeyini kaybetmiş demektir. (Peyami Safa)
- B) Tatlı dil, her kapıyı açan sihirli bir anahtardır. (Montaigne)
- C) Tatlı sözler, şiddetli bir öfkeye karşı en tesirli ilaçtır. (Aiskhylos)
- D) Tatlı dilli olanların dostları her gün biraz daha artar. (Hz. Ali)

Soru 6. Parçanın geneli düşünüldüğünde tatlı dille ilgili aşağıdaki sonuçlardan hangisine ulaşamaz?

- A) Tatlı dil; şiddet ve öfkeyi yumuşatan, sevgi, saygı ve hoşgörüyü kapı açan bir gizemdir.
- B) Tatlı dil; yorgunlukları, kızgınlıkları unutturan, işlerin görevlerin gönülden yapılmasını sağlayan gizli bir güçtür.
- C) Tatlı dil, yüreği sevgi ve merhamet dolu iyi insanların gönüllerinden gelen bir iletişim şeklidir.
- D) Tatlı dil, insanların sadece kötü niyetlerine ulaşmak için kullandıkları etkileme ve aldatma aracıdır.

Soru 7. Aşağıdaki cümlelerin hangisinde “indi” sözcüğünün karşıt anlamlısı “yükseldi” sözcüğü olabilir?

- A) Usta, yemek yemek için çatıdan indi.
- B) Evine gitmek için durakta otobüsten indi.
- C) Doktorun verdiği ilaçları içince sıcaklığı indi.
- D) Evin kenarındaki patikayı takip ederek sahile indi.

Soru 8. “Sert” sözcüğü hangi cümlede “kırıcı” anlamında kullanılmıştır?

- A) Sert esen rüzgar bazı evlerin çatılarını uçurdu.
- B) Oyunu kaybedince söylediği sert sözlerle neşemizi kaçırmıştı.
- C) Askerler, sert adımlarla yürüyerek tören alanından geçti.
- D) Yol açma çalışmaları sırasında sert kayalar makinelerle kırıldı.

Soru 9. Aşağıda verilen Türk Dili ve Türk Alfabeti ile ilgili ifadelerden hangisi doğru değildir?

- A) Türk Alfabeti, 24 Kasım 1928 tarihinde TBMM'nin çıkardığı bir yasa ile kabul edilip kullanılmaya başlanmıştır.
- B) Türkçe, kök halindeki sözcüklerin sonlarına getirilen eklerle yeni sözcüklerin üretildiği bir dil olup bu özelliğinden dolayı sondan eklemeli bir dildir.
- C) Yeryüzündeki diller arasında Türkçenin içine girdiği grup Ural – Altay dilleri grubudur.
- D) Türk Abecesi hazırlanırken, Latin Alfabeti'nin dilimizle uyuşmayan bazı harfleri alınmamış, yerlerine Türk Dili'ne özgü harfler konmuştur.

Soru 10. Aşağıdaki altı çizili sözcüklerden hangisi terim anlamıyla kullanılmıştır?

- A) Mutfağımızın penceresindeki perde çiçek desenlidir.
- B) Soğuk havada içtiğimiz çay içimizi biraz ısıtmıştı.
- C) Doğru sözlü insanlar toplumda her zaman saygı görür.
- D) Doktor, ninemin bileğinden tutarak nabzını ölçtü.

Soru 11. “ Onu üzmemek için sana verdiği çantanın aynısını kendi parasıyla ona da aldı.” cümlesinde ismin yerini tutan altı çizili sözcükler sırasıyla ismin hangi hallerindedir?

- A) İsmi – i hali / ismi – e hali / ismi – i hali / ismi yalın hali
- B) İsmi – i hali / ismi – e hali / ismi yalın hali / ismi – e hali
- C) İsmi yalın hali / ismi yalın hali / ismi – i hali / ismi – e hali
- D) İsmi – i hali / ismi yalın hali / ismi yalın hali / ismi – de hali

Soru 12. Öğretmen, öğrencilerinden tahtada yazılı sözcükler arasında Türkçenin ses yapısına uymayan sözcükleri seçip önlerindeki kağıtlara yazmalarını istemiştir. Hangi öğrenci öğretmenin isteğine uygun sözcüklerin tümünü kağıdına yazmıştır?



A) Ali

ayraç
yorgan
staj
bakkal

B) Oya

dört
bakkal,
direksiyon
aile

C) Yaman

bakkal
aile
direksiyon
staj

D) Deniz

dört
çember
ayraç
direksiyon

Soru 13. Aşağıdaki dördlükle ilgili olarak verilen sonuçlardan hangisi doğru değildir?

Çiçek açmış ağaçlara bak ne güzel
Gel bizim olsun serçelerin neşesi!
Gel seninle kırlara açılalım gel!
Neler vadetmiyor akarsuyun sesi!

- A) Dördlüğün üçüncü dizesinde ulama vardır.
B) Dördlüğün her mısrası on iki heceden oluşmuştur.
C) Şiirin ana duygusunun “yaşama sevinci” olduğu söylenebilir.
D) Büyük Ünlü Uyumu Kuralı'nın aranmayacağı sözcükler vardır.

Soru 14.

1. Öğretmenimizin: “Ülkemizde her zaman kar yağmaz, bahçeye çıkabilirsiniz.” demesiyle kendimizi bahçede bulduk.
2. Çığlık çığlığa kartopu oynadık, kardan adam yaptık, resimler çektik.
3. Ayağa fırladık ve pencerelere koştuk; gerçekten kar yağıyordu.
4. Soğuk ve kapalı bir kış gününde sınıfta Türkçe dersi yapıyorduk.
5. Bahçe karlarla örtülmüş ve lapa lapa kar yağışı da devam ediyordu.
6. Tam derse dalmışken birinin “Kar yağıyor!” bağırisıyla irkildik.

Numaralandırılmış cümlelerin “olayların gerçekleşmesine göre” doğru sıralaması hangi seçenekte verilmiştir?

- A) 4 – 5 – 1 – 6 – 3 – 2
- B) 5 – 3 – 4 – 1 – 6 – 2
- C) 6 – 1 – 3 – 2 – 5 – 4
- D) 4 – 6 – 3 – 1 – 5 – 2

Soru 15. “ Başkalarının düşünce ve önerilerine değer vermeyen, dikkate almayan, kim ne derse desin kendi istediği gibi davranan insanlar vardır.”

Bu cümlede tanıtılan kişiyi, en iyi anlatan deyim aşağıdakilerden hangisidir?

- A) Burnundan kıl aldirmayan
- B) Bildiğini okuyan
- C) Kılı kırk yaran
- D) Tuttuğunu koparan

Soru 16. “Ülkemizin doğası, güneşi, kumsalları, tarihi yerleri, turistler için çok caziptir; gelen turist sayısı beklenen kadar değildir.”

cümlesindeki boşluğa aşağıdakilerden hangisi getirilemez?

- A) ama
- B) lakin
- C) çünkü
- D) fakat

Soru 17. Bora, duvara yazılı numaralanmış sözcükleri bir araya getirip anlamlı bir cümle oluşturmak istiyor.



Bora



Buna göre, sıralama aşağıdakilerin hangisinde doğru verilmiştir?

- A) 3 – 7 – 1 – 2 – 6 – 4 – 5
 B) 5 – 7 – 6 – 1 – 2 – 4 – 3
 C) 1 – 2 – 6 – 4 – 5 – 7 – 3
 D) 6 – 2 – 4 – 1 – 3 – 7 – 5

Soru 18. Aşağıdaki parçada geçen isim (ad) tamlaması çeşitlerinin sayıları tablo üzerindeki hangi seçenekte doğru verilmiştir?

“ırmağın kıyısında dalgın dalgın yürüyordum.

Çamaşır teknesine binmiş çocuğa gözüm ilişti. “Ne yapıyorsun Hasan?” diye sordum. Çocuk, bahçe küreğini, kayık küreği gibi kullanarak:

- “Ben Turgut Reis'im. Preveze Savaşı'na gidiyorum.” diye meydan okuyucu bir nara salladı.”

(Halikarnas Balıkcısı)

	Belirtili İsim Tamlaması	Belirtisiz İsim Tamlaması	Takısız İsim Tamlaması	Zincirleme İsim Tamlaması
A)	1	4	0	0
B)	1	2	1	1
C)	2	1	1	1
D)	0	4	1	0

Soru 19.

“Ağzında bal olan arının, kuyruğunda iğnesi vardır.” (John LYLY)

Bu vecizede (özdeyişte) aşağıdaki ses olaylarından hangisi yoktur?

- A) Sesli (ünlü) düşmesi
- B) Kaynaştırma (kaynaşma)
- C) Sessiz (ünsüz) düşmesi
- D) Ünsüz yumuşaması

Soru 20. Paragrafta geçen altı çizili zamirlerin türleri sırasıyla hangi seçenekte verilmiştir?

“Ben işlerimi zamanında yaparım. Başkalarının da işlerini zamanında yapmalarını isterim ve beklerim. Bazıları işlerini söz verdikleri zamanda tamamlamaz. İşlerimizi, zamanında kim bitirecekse ona yaptırmalıyız.”

- A) Kişi (şahıs) zamiri - belgisiz zamir - belgisiz zamir - soru zamiri - işaret zamiri
- B) Kişi (şahıs) zamiri - belgisiz zamir - belgisiz zamir - soru zamiri - kişi (şahıs) zamiri
- C) İşaret zamiri - belgisiz zamir - belgisiz zamir - soru zamiri - kişi (şahıs) zamiri
- D) Kişi (şahıs) zamiri - işaret zamiri - belgisiz zamir - soru zamiri - işaret zamiri

Soru 21. Aşağıdaki cümlelerde geçen altı çizili sözcüklerden hangisi birden çok varlığı anlatmaktadır?

- A) Meclis tamir edilip yeniden boyanarak açılışa hazırlandı.
- B) Müdür, sınıfın kırık camını taktırıp klimayı da tamir ettirdi.
- C) Okul, sosyal faaliyetler için cumartesi günleri açık olacak.
- D) Ailenin sofraya birlikte oturması adetlerimizdendir.

Soru 22. Aşağıdaki tabloda numaralanmış adlardan hangisinin özelliklerinde yanlış işaretleme yapılmıştır?

		Özel İsim	Cins İsim	Tekil İsim	Çoğul İsim	Topluluk İsmi	Somut İsim	Soyut İsim
I.	Karabaş	X		X			X	
II.	deste		X			X	X	
III.	ses		X	X				X
IV.	düşünceler		X		X			X

- A) I
B) II
C) III
D) IV

(23. soruyu aşağıdaki şiire göre cevaplayınız.)

Yıldızsız Bir Gece

Yıldızsız bir gece rüzgâr kudurmuş
Gökyüzü üstüme çökecek gibi
Karanlıkta biri gizlenip durmuş
Arkamdan tetiği çekecek gibi

İnmiş yere göğün gizli ordusu
Sarılmış her yanım kurulmuş pusu
Gecenin kabaran bu uğultusu
Evin çatısını sökecek gibi

Gökyüzünde şimşek ateş ve alev
Yeryüzünde bir ben bir de kerpiç ev
Sanki soluyup uluyor dışarda bir dev
Bir yumruk ile camları dönecek gibi

Soru 23. Karamsar ve duygu dolu bir gecenin şiirle anlatımında aşağıdakilerden hangisine yer verilmemiştir?

- A) Çok şiddetli ve korku yaratan bir fırtınanın geceye hakim oluşuna,
B) Şiddetli fırtınanın kerpiç eve zarar verebileceği endişesi içinde alınan önlemler ile evin fırtınadan sonraki durumuna,
C) Fırtınanın uğultuları arasında, şimşeklerin gökyüzünde dans ettiği karanlık bir gecenin ürpertisine,
D) Kerpiç evin çatısını her an uçurabilecek, pencerelere, eve zarar verebilecek azgın bir rüzgarın yarattığı endişe ve çaresizliğe,

Soru 24. Türkçe dersinde adıl (zamir) çeşitlerini anlatan öğretmen, konuyu pekiştirmek için öğrencilerinden “içinde kişi adlı (kişi zamiri) bulunan cümleler” kurmalarını istemiştir. Aşağıdaki öğrencilerden hangisi öğretmenin isteğine uygun cümle kurmuştur?



Asım

O, sokakta bulup eve aldığımız kediktir.



Ceren

Onlar, geçen yıl müsamerede giydığımız elbiselerdir.



Tahir

O fidanları bugün ötekileri de yarın sulayacağız.



Aytül

Onlar, okulumuzu ziyarete gelen kardeş okulun öğrencileridir.

- A) Asım
- B) Ceren
- C) Tahir
- D) Aytül

Soru 25.

Söylerken ey fırtına,
Sen dağlara türkünü,
Çekti şubat sırtına
Eski beyaz kürkünü.

Bu dizeler için aşağıdakilerden hangisi söylenemez?

- A) Sözcüklerden birinde Büyük Ünlü Uyumu Kuralı'nı bozabilecek ek bulunmasına rağmen Büyük Ünlü Uyumu Kuralı bozulmamıştır.
- B) “fırtına” sözcüğündeki “n” harfi kaynaştırma görevi yapmaktadır.
- C) Bir sözcükte benzeşme (sertleşme) olayını görebiliriz.
- D) İsmi hallerinden “yalın”, “-i” ve “-e” durumlarına örnek vardır.

Soru 26.

- I. Yeni aldığı oyuncak arabacığın uzaktan komutası vardır.
- II. Kolej sınavlarıyla ilgili her türlü bilgi kılavuz kitapçıkta vardır.
- III. Evlerinin önünde sebze yetiştirdikleri bir bahçecikleri vardır.
- IV. Renkli boncucukları belli bir sıraya göre ipe geçirip bileklik yapıyor.

Yukarıdaki cümlelerin hangilerinde küçültme eki alıp küçülme anlamı kazanan birer isim vardır?

- A) I. – III. – IV.
- B) I. – II.
- C) I. – II. – IV.
- D) II. – III. – IV.

Soru 27. Yandaki resimde gördüğünüz kız şişlerle örgü örmektedir. “şiş” ile “örgü” arasındaki ilişki, aşağıdakilerden hangisinde vardır?



- A) Manzara – resim
- B) Resim – ressam
- C) Fırça – resim
- D) Ressam – fırça

TÜRKÇE TESTİNİZ BİTMİŞTİR

YANITLARINIZI KONTROL EDEREK FEN VE TEKNOLOJİ TESTİNE GEÇİNİZ.

Soru 1. Sıla, bisikletten düşerek sağ kolunu kırar. Sağ kolunun iyileşmesinden yaklaşık iki ay sonra yine bir kazaya uğrar ve bu kez de aynı şekilde sol kolunu kırar. Her iki kaza sonrasında da doktor tarafından uygulanan işlemler aynı olmasına rağmen ilk kazada kırılan sağ kolu 30 günde, ikinci kazada kırılan sol kolu ise 21 günde iyileşir.

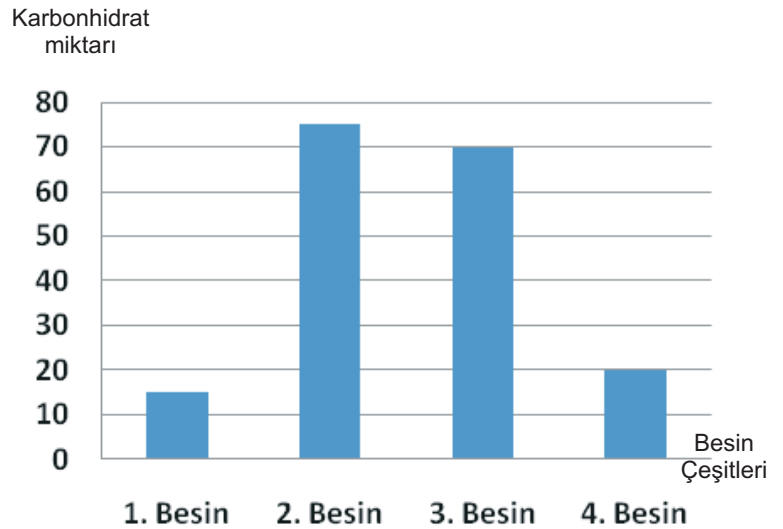
Doktoru, Sıla'nın ikinci kaza sonrasında kırılan sol kolunun daha kısa sürede iyileşmesinin, Sıla'nın beslenmesine bağlı olduğunu söylemiştir.

Buna göre Sıla, geçirdiği ikinci kazadan sonra aşağıda verilen hangi besinleri daha çok tüketmiştir?

- A) Et ürünleri, süt ürünleri ve yumurta
- B) Pirinç pilavı, mısır ve buğday ekmeği
- C) Bulgur pilavı, domates ve elma
- D) Salata, yulafli ekmek ve muz

Soru 2. Yandaki grafik, dört farklı besinin içerdiği karbonhidrat miktarlarını göstermektedir.

Buna göre, grafikteki besinler seçeneklerde verilenlerden hangileri olabilir?



- | <u>1. Besin</u> | <u>2. Besin</u> | <u>3. Besin</u> | <u>4. Besin</u> |
|------------------|-----------------|-----------------|-----------------|
| A) Buğday ekmeği | Yumurta | Balık | Patates |
| B) Patates | Balık | Yumurta | Buğday ekmeği |
| C) Patates | Yumurta | Buğday ekmeği | Balık |
| D) Balık | Buğday ekmeği | Patates | Yumurta |

Soru 3. Aşağıda sindirim sistemini oluşturan bazı yapı ve organlar ile görevleri iki ayrı tabloda verilmiştir. **Verilen yapı ve organlar ile görevleri hangi seçenekte doğru olarak eşleştirilmiştir?**

Yapı ve Organlar

1. Ağız
2. Dişler
3. Yutak
4. Yemek Borusu
5. Mide
6. İnce Bağırsak

Görevler

- A. Besinleri bir süre depolar ve salgılanan sıvılar ile küçük parçalara ayırır.
- B. Besinlerdeki yararlı maddelerin emilerek kana taşınmasını sağlar.
- C. Sindirimin başladığı yerdir.
- D. Besinleri parçalamamızı, kesmemizi ve öğütmemizi sağlar.
- E. Besinlerin ağızdan mideye geçişini sağlar.
- F. Yutkunma yoluyla besinlerin iletilmesini sağlar.

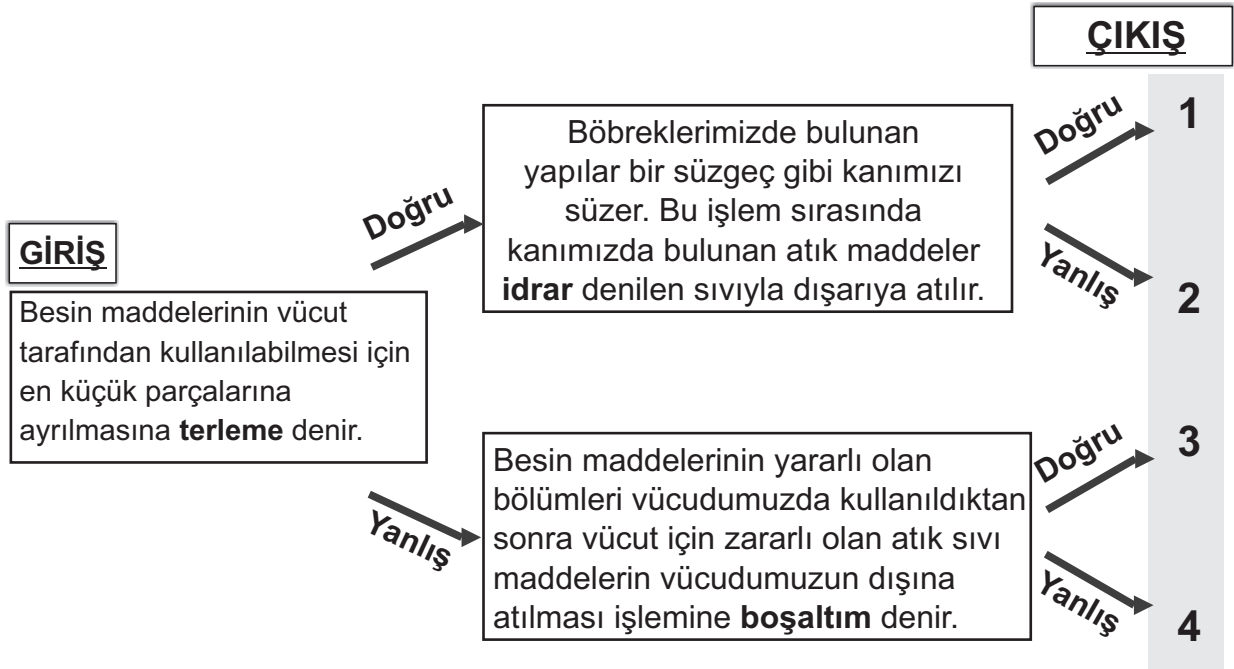
- A) 1 – A 2 – B 3 – C 4 – D 5 – E 6 – F
 B) 1 – C 2 – B 3 – F 4 – D 5 – A 6 – E
 C) 1 – C 2 – D 3 – F 4 – E 5 – A 6 – B
 D) 1 – E 2 – F 3 – C 4 – D 5 – B 6 – A

Soru 4. Recep sarı, mavi ve kırmızı renkte oyun hamurları kullanarak yetişkin ve sağlıklı bir insanın ağızındaki tüm dişleri gösteren bir diş maketi yaptı. Recep, sarı hamurdan 16, mavi hamurdan 8 ve kırmızı hamurdan ise 4 adet diş yaptı.

Buna göre, Recep'in yaptığı diş maketinde kullandığı farklı renklerdeki oyun hamurlarına karşılık gelen dişler hangisinde doğru olarak verilmiştir?

- A) sarı → azı dişleri mavi → köpek dişleri kırmızı → kesici dişler
 B) sarı → azı dişleri mavi → kesici dişler kırmızı → köpek dişleri
 C) sarı → kesici dişler mavi → köpek dişleri kırmızı → azı dişleri
 D) sarı → kesici dişler mavi → azı dişleri kırmızı → köpek dişleri

Soru 5. Aşağıdaki şemada çerçeveler içerisinde bilgiler verilmiştir. Giriş çerçevesinden başlayarak, verilen bilgilerin “doğru” veya “yanlış” olmasına göre, okları izlediğimiz zaman kaç numaralı çıkışa ulaşırız?



- A) 1
B) 2
C) 3
D) 4

Soru 6. Aşağıda boşaltım konusu ile ilgili iki ayrı tablo bulunmaktadır. Bu tablolara göre, verilen ifadelerden hangisi yanlıştır?

Tablo - 1 Normal Koşullarda Vücuttan Günlük Olarak Atılan Ortalama Su Miktarı			Tablo - 2 Normal Koşullarda Vücuda Günlük Olarak Alınan Yaklaşık Su Miktarı		
Deri	Akciğer	Böbrek	İçeceklerden	Besinlerden	Vücutta oluşan sudan
800 mL	400 mL	1750 mL	1850 mL	1150 mL	250 mL

- A) Vücudumuz, sıvılar dışındaki besinlerden su almaz.
B) Vücudumuz, ihtiyaç duyduğu suyun en çoğunu tükettiğimiz içeceklerden alır.
C) Vücudumuzdaki fazla su en çok böbrekler, sonra terleme ve daha sonra solunum yoluyla atılır.
D) Normal koşullarda günlük olarak terleme yolu ile kaybettiğimiz su miktarı solunum yolu ile kaybettiğimizin iki katı kadardır.

Soru 7. Aşağıdaki tabloda verilen görevleri, hangi yapı ve organların gerçekleştirdiğini (✓) işareti koyarak belirttiğimiz zaman nasıl bir görünüm ortaya çıkar?

Görevi	Böbrekler	Akciğerler	Deri	Kalın Bağırsak
Sindirim yoluyla oluşan posayı vücut dışına atar				
Kanı süzerek zararlı maddelerden arındırır				
Terleme yoluyla fazla tuz ve suyu dışarı atar.				
Karbondioksit ve fazla suyu vücuttan uzaklaştırır.				

A)

✓			
	✓		
		✓	
			✓

B)

			✓
		✓	
	✓		
		✓	

C)

			✓
✓			
		✓	
	✓		

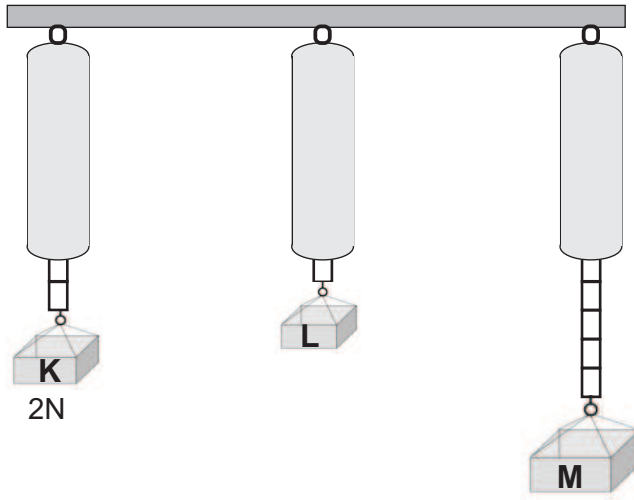
D)

	✓		
		✓	
			✓
✓			

Soru 8. Aşağıda “kuvvet” ile ilgili bazı özellikler verilmiştir. Bu özelliklerden hangisi yanlıştır?

- A) Kuvvet ölçülebilir bir büyüklüktür.
- B) Kuvvetin birimi Newton’dur.
- C) Kuvvetin büyüklüğü dinamometre ile ölçülür.
- D) Dinamometre cisimlerin sertlik özelliğinden yararlanılarak yapılmıştır.

Soru 9.



Yukarıda özdeş dinamometrelerle ölçümler yapılmaktadır. K cismi 2 Newton’u gösterdiğine göre, L ve M cismi kaç Newton’u gösterir?

	<u>L cismi</u>	<u>M cismi</u>
A)	3	10
B)	1	5
C)	4	4
D)	2	1

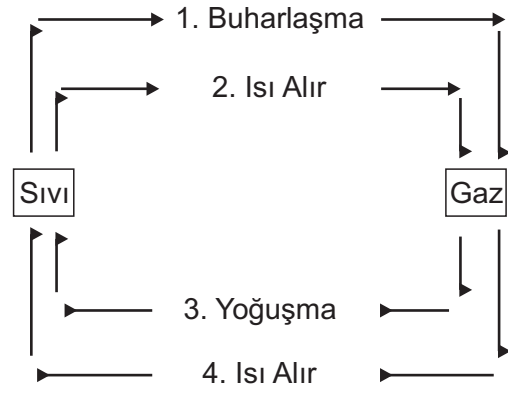
Soru 10. Aşağıdaki olaylardan hangileri sürtünme kuvvetinin etkisiyle gerçekleşmektedir?

1. Oyuncak arabasını iten Ali, bir süre sonra arabanın durduğunu görüyor.
2. Salıncakta sallanan Yasemin’in salıncağı, bir süre sonra hareketsiz kalıyor.
3. İkinci kattan aşağıya bırakılan portakal, bir süre sonra yere çarpıyor.
4. İki odun parçasını birbirine sürten Mehmet, bir süre sonra ateş yakıyor.

- A) 1 ve 3
- B) 1 ve 4
- C) 1, 2 ve 4
- D) 1, 2 ve 3

Soru 11. Yandaki hal değişimi ile ilgili şemada hangi numaralı bilgi doğru değildir?

- A) 4
B) 3
C) 2
D) 1



Soru 12.

Madde	Erime Sıcaklığı ($^{\circ}\text{C}$)	Kaynama Sıcaklığı ($^{\circ}\text{C}$)
A	5	160
B	15	200
C	-5	80
D	-20	70

Yukarıda dört farklı maddenin erime ve kaynama sıcaklıkları verilmiştir. Buna göre, bu maddelerin 0°C ve 100°C de buldukları hal, aşağıdakilerden hangisinde doğru verilmiştir?

	<u>0°C</u>	<u>100°C</u>
A) A maddesi	Sıvı	Sıvı
B) B maddesi	Katı	Gaz
C) C maddesi	Sıvı	Katı
D) D maddesi	Sıvı	Gaz

Soru 13. Aşağıda ısı ve sıcaklık kavramları ile ilgili bilgiler verilmiştir. Bu bilgilerden hangileri doğrudur?

1. Isı bir enerjidir.
2. Madde ısı aldığıında, maddenin sıcaklığı artar.
3. Madde ısı verdiğiinde, maddenin sıcaklığı azalır.
4. Sıcaklık termometre ile ölçülür.

- A) 2 ve 3
B) 1, 2 ve 3
C) 2, 3 ve 4
D) 1, 2, 3 ve 4

Soru 14. Aşağıda farklı boylarda iki metal çubuk verilmiştir. Metal çubukların boylarının eşit olabilmesi için aşağıdakilerden hangisi yapılmalıdır?

 K metal çubuğu

 L metal çubuğu

- A) K metal çubuğu soğutulmalı, L metal çubuğu ısıtılmalıdır.
B) K metal çubuğu ısıtılmalı, L metal çubuğu soğutulmalıdır.
C) Her iki metal çubuk da ısıtılmalıdır.
D) Her iki metal çubuk da soğutulmalıdır.

FEN VE TEKNOLOJİ TESTİNİZ BİTMİŞTİR

YANITLARINIZI KONTROL EDEREK SOSYAL BİLGİLER TESTİNE GEÇİNİZ.

Soru 1. Oya beşinci sınıf öğrencisidir. Okulun izci kulübündedir. Hafta sonu ise belediyenin tiyatro kulübüne devam etmektedir.

Oya'nın yer aldığı gruplardan hangisinde rolü yanlış verilmiştir?

1	Okul	→	Öğrenci
2	Aile	→	Anne
3	İzci kulübü	→	İzci
4	Tiyatro kulübü	→	Oyuncu

- A) 1
- B) 2
- C) 3
- D) 4

Soru 2.



Babamın isteği üzerine, derslerimde daha başarılı olmak için okuldan sonra her gün hiç ara vermeden dört saat boyunca soru çözüyorum. Çok yoruluyorum. Babam, sürekli ders çalışmamı istiyor, oyun oynamama ve arkadaşlarımla katıldığım eğlencelerin hiç birine katılmama izin vermiyor.

Yukarıda anlatılanlara göre, "baba" hangi çocuk hakkını ihlal etmektedir?

- A) Eğitim alma hakkını
- B) Çocuklar ekonomik sömürü için çalıştırılmaz hakkını
- C) Dinlenme, oyun oynama ve yaşına uygun eğlencelere katılma hakkını
- D) Yaşama hakkını

Soru 3. Aşağıda ülkemizin mimari değerlerinden olan bazı yapıların resimleri yer almaktadır. Mimari yapılar isimlendirilirken kaç numaralı görsel **yanlış** isimlendirilmiştir?



- A) 1
- B) 2
- C) 3
- D) 4

Soru 4. Görkem'in annesi misafirlerine geleneksel tatlılarımızdan olan samsı tatlısını yapmak istemektedir. Evde malzeme olmadığından annesi Görkem'i markete gönderir. **Görkem'in samsı tatlısı yapımı için hangi malzeme listesini alması gerekir?**

- A) Pekmez - Un - Yumurta
- B) Buğday - Tavuk - Yağ
- C) Hellim - Un - Pirinç
- D) Un - Badem - Tarçın

Soru 5. Aşağıdaki öğrencilerden hangisinin ifadesi yanlıştır?

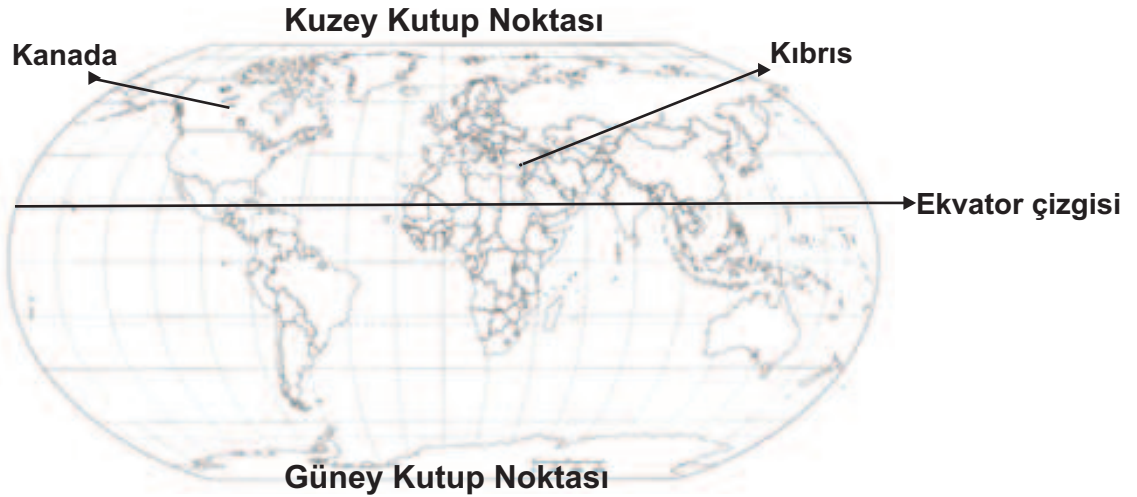
A) Esra Halk dansları genellikle oynandığı çevrenin bazı geleneklerini de yansıtır.

B) Ezgi Makarna ve pizza geleneksel yiyeceklerimizdendir.

C) Halil Ceviz macunu, ekmek kadayıfı geleneksel tatlılarımızdandır.

D) Emre Kıbrıs halk danslarımız geleneksel olarak keman, tef, darbuka gibi müzik aletleri eşliğinde oynanır.

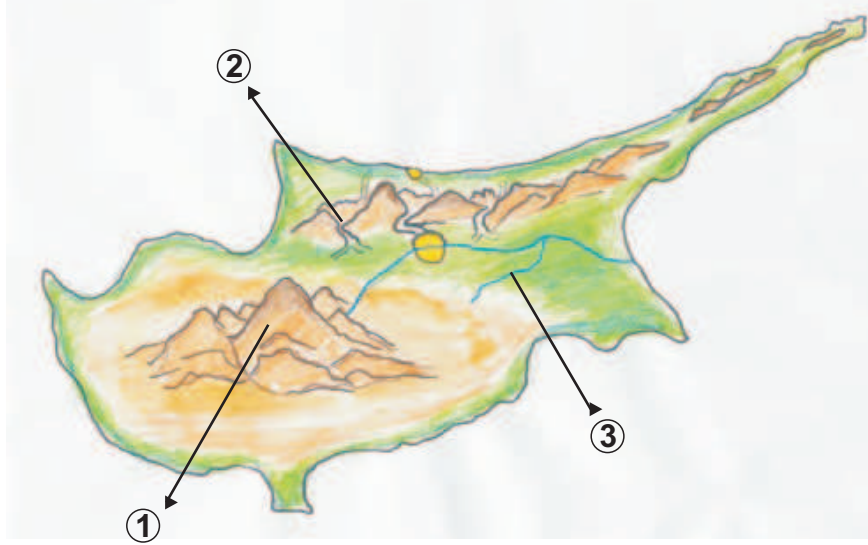
Soru 6.



Haritada verilen bilgilere göre, Kanada ile ilgili yazılanlardan hangisi doğrudur?

- A) Kıbrıs'a göre Kuzey Kutbu'na daha yakın ve daha soğuktur.
- B) Kıbrıs'a göre Kuzey Kutbu'na daha yakın ve daha sıcaktır.
- C) Kıbrıs'a göre Ekvator'a daha yakın ve daha soğuktur.
- D) Kıbrıs'a göre Ekvator'a daha yakın ve daha sıcaktır.

Soru 7. Aşağıdaki Kıbrıs haritasında numaralandırılan yeryüzü şekillerinin isimleri hangi seçenekte doğru olarak verilmiştir?



- | | | |
|-----------------------|---------------------|-----------------|
| A) 1- Lapta Dağları | 2- Girne Boğazı | 3- Çakıllı Dere |
| B) 1- Trodos Dağı | 2- Mersinlik Boğazı | 3- Kanlı Dere |
| C) 1- Trodos Dağı | 2- Geçitköy Boğazı | 3- Çakıllı Dere |
| D) 1- Geçitköy Boğazı | 2- Trodos Dağı | 3- Kanlı Dere |

Soru 8. Aşağıda verilen ifade ve kavramlar hangi seçenekte doğru eşleştirilmiştir?

1	Selvili Tepe
2	İklim
3	Yeryüzü şekilleri

a	Geniş bir bölgede, uzun yıllar boyunca devam eden, atmosfer olaylarının ortalamasıdır.
b	Kuzey Kıbrıs'ın en yüksek yeridir.
c	Bir ülkenin dağ, ova, akarsu ve vadiler gibi unsurlarıdır.

- | | | |
|----------|-------|-------|
| A) 1 → a | 2 → b | 3 → c |
| B) 1 → b | 2 → a | 3 → c |
| C) 1 → c | 2 → a | 3 → b |
| D) 1 → b | 2 → c | 3 → a |

Soru 9. Aşağıda verilen ifadelerden doğru olanların karşısına (D), yanlış olanların karşısına ise (Y) koyduğumuzda nasıl bir görüntü oluşur?

I. Girne bölgesinde zeytin üretimi gelişmiştir.	<input type="checkbox"/>
II. Girne ve Mağusa'da turizm gelişmiştir.	<input type="checkbox"/>
III. Ülkemizde en fazla narenciye üretimi Lefkoşa'da yapılmaktadır.	<input type="checkbox"/>
IV. Lefkoşa'da en çok yetiştirilen ürün çaydır.	<input type="checkbox"/>

A)

D
D
Y
Y

B)

Y
D
Y
D

C)

Y
Y
D
D

D)

D
Y
D
Y

Soru 10. Aşağıdaki tabloda ülkemizin bazı bölgeleri verilmiş, bu bölgelerde yetiştirilen tarım ürünleri ise numaralandırılarak gösterilmiştir.

Bölge	Yeşilköy	Lefke	Yeşilirmak	Girne
Tarım Ürünü	1	2	3	4

Buna göre, 1, 2, 3 ve 4 numaralı alanlara sırasıyla hangi tarım ürünleri gelmelidir?

<u>1</u>	<u>2</u>	<u>3</u>	<u>4</u>
A) Kiraz	Portakal	Pamuk	Arpa-Buğday
B) Hurma	Pamuk	Portakal	Harup
C) Kolakas	Pamuk	Çilek	Patates
D) Kolakas	Hurma	Çilek	Harup

**SOSYAL BİLGİLER TESTİYLE BİRLİKTE
I. OTURUM BİTMİŞTİR
YANITLARINIZI KONTROL EDİNİZ**