



KKTC M İ L L İ E Ğ İ T İ M BAKANLI Ğ I

KOLEJLERE G İ R İ Ş SINAVI -1 (KGS-1)

24 OCAK 2015 CUMARTES

Sim/Soy isim:

Aday No:

1. OTURUM SORU K TAPÇI Ğ I

TÜRKÇE - FEN VE TEKNOLOJİ - SOSYAL B İ LG İ LER

GENEL AÇIKLAMA

1. Bu kitapçık Türkçe, Fen ve Teknoloji ve Sosyal Bilgiler testlerini içermektedir. Kitapçık, 23 sayfadan oluşmaktadır. Sizlere bu üç testi cevaplayacağınız bir de TEST CEVAP KA RDI verilmiştir. Soru kitapçıklarının dağıtılmasının ardından salon başkanının gözetiminde kitapçığınızı kontrol ediniz. Hatalı olan kitapçıklar sınav başlamadan önce mutlaka değiştirilecektir.
2. Size dağıtılan Cevap Ka rının üzerine adınız, soyadınız ve aday numaranız bilgisayar tarafından yazılmış ve kodlanmıştır. Cevap Ka rının size ait olup olmadığını ve aday numaranızın doğru kodlanmış olup olmadığını kontrol ediniz.
3. Bu test 27 Türkçe, 14 Fen ve Teknoloji ile 10 Sosyal Bilgiler sorusundan oluşmaktadır. Tüm soruları cevaplandırmanız için sizlere toplam **90 dakikalık** süre verilecektir.
4. Her soru için dört farklı seçenek verilmiştir. Bu seçeneklerden sadece bir tanesi doğru yanıt olup diğerleri yanlıştır.
5. Cevap ka rında her sorunun kar şısında bulunan seçeneklerden doğru yanıt olan dairenin içini koyu siyah ve yumuşak bir kur un kalemle iyice karalayınız. **Kur un kalem dı nda ba ka çe it kalem kullanmayınız.** Yanlı karalamalarınızı düzeltirken iz bırakmayacak şekilde dairenin içini yumuşak bir silgiyle iyice siliniz.
6. Soru kitapçığı üzerindeki boş yerleri temizlemek için kullanabilirsiniz.
7. Cevap ka rınızı buruşturmayınız ve üzerine gereksiz işaret koymayınız.
8. Bilmediğiniz soruların üzerinde fazla zaman kaybetmeden diğer sorulara geçiniz. Zamanınız kalırsa yapmadıklarınızı yeniden gözden geçirirsiniz.

İmdi aşağıdaki örnek sorunun nasıl cevaplandırılacağını beraberce inceleyelim.

ÖRNEK SORU: “Temiz” sözcüğünün (zıt) anlamlısı hangisidir?

A) Saf

B) Kirli

C) Yıkanmış

D) Pak

Bu sorunun doğru cevabı “Kirli” dir. Doğru olan bu cevap B seçeneğidir. Onun için, cevap ka rındaki bu soruya ait seçeneklerde B dairesinin içi karalanmıştır. Hepinize başarılar dileriz.

(A)

(B)

(C)

(D)

Soru 1. A a ıdaki sözcükleri alfabetik sıralamaya koyup altlarındaki dairelerin içine sıra numaralarını yazarsak hangi sıralamayı elde ederiz?

kaktüs
○

kafes
○

kalem
○

kahve
○

- A) 1 - 3 - 2 - 4
B) 2 - 1 - 3 - 4
C) 3 - 1 - 4 - 2
D) 3 - 4 - 1 - 2

Soru 2. “Çiçekten çiçe e dola an arı, topladı ı balı kovana ta ıdı.” cümlesinde ismin hallerinden (durumlarından) hangisine örnek yoktur?

- A) Yalın hal
B) – i hali
C) – den hali
D) – de hali

Soru 3. “Annem, kendi ördü ü sele içinde sana, bana ve onlara çörek ikram etti.” cümlesinde kaç tane ki i (ahıs) zamiri vardır?

- A) 5
B) 4
C) 3
D) 2

Soru 4. A a ıdaki cümlelerin hangisinde küçültme eki almı isim yoktur?

- A) Çobanın sırtına astı ı da arcık, yiyecek doluydu.
B) u dereci in suyu ile köyün portakal bahçeleri sulanır.
C) Dü ünde da ıtılan kutucukların içinde badem ekeri vardı.
D) Pazarda yüksek sesle ba ıran adam, heykelcik satıyordu.

(5. ve 6. soruları a a ıdaki metne göre cevaplayınız.)

GED KL ANNE

Bir pazar sabahı tek ba ıma çıktım bahçeye. Bazılarının tomurcukları sürmü bazılarıysa çiçek açmı tı. Küçük bir erik a acından bir dal kopardım. Bu bembeyaz çiçekli dalı anneme vermek istiyordum.

Tam bizim evin arka bahçe kapısına yakla ırken Gedikli Anne'yle kar ıla tım. Saçlarımı ok ayarak,

- Annene çiçek mi kopardın? diye sordu.
- Evet Gedikli Anne! dedim.
- Say bakayım üstünde kaç çiçek var?

Buna bir anlam veremedim ama saydım. Sanıyorum yirmi be otuz tane kadar vardı.

- Otuz tane Gedikli Anne! dedim.
- Desene bu yıl otuz erik az yiyece iz! dedi.

Ba ka hiçbir ey söylemedi.

Ben öyle kalakaldım. Bu çiçeklerin bir zaman sonra meyve olaca ını nasıl bilebilirdim.

Hem üzüldüm hem utandım. Gerçi fen ve teknoloji dersinde çiçekleri, taç yaprakları, tozla mayı, di i ve erkek organları okumu tuk ama bilgi olarak bilmek ba ka, gerçekte onu ya amak ba ka. O bilgilerle bu ili kiyi kuramamı olmamın aptallı ını ya adım bir süre. Gedikli Anne'nin hiç azarlamayan, uzun uzun ders vermeyen, o sevecen sesiyle söylediklerini unutamıyordum.

- Desene bu yıl otuz erik az yiyece iz!

Uzun bir süre kendimi çok aptal hissettim. E er Gedikli Anne beni azarlasaydı bu utancı hiçbir zaman ya ayamazdım.

Meral ÇELEN

Soru 5. Gedikli Anne'nin ki ili iyle hangisi uyu maz?

- A) Sevecen, güvenilir, saygın, özlü dersler veren bir ki idir.
- B) Yanlı lar kar ısında kendi do rularını zorla kabul ettiren biridir.
- C) Söz ve davranı larıyla insanları do ruya yöneltten bilgili bir kadındır.
- D) Etkili sohbetlerle sorun çözme becerisi olan bilge bir insandır.

Soru 6. Yazarın üzülüp utanmasının asıl nedeni nedir?

- A) Kesti i dalın üzerindeki çiçeklerin bir süre sonra meyve olaca ını dü ünememesi
- B) Derslerde meyvelerin olu umunu ö renmesine ra men çiçekli bir meyve dalını koparmasının Gedikli Anne tarafından görülmesi
- C) Gedikli Anne'nin kendisini tatlı bir dille azarlayarak, uzun uzun ö ütte bulunması
- D) Gedikli Anne'nin azarlamadan, az ve öz konu arak, sevecen sesiyle yaptı ının yanlı lı ını fark ettirmesi

Soru 7.

- I – Törende iir okuyabilir konu ma yapabilirsin.
- II – Beni yanlı anladıben ona yardım etmek istedim.
- III – Arkada ınla oynayabilirsin en geç be te evde olmalısın.
- IV – Bu sabah yürüyü yapamadı; hava çok ya murluydu.

- a) ama
- b) çünkü
- c) oysa
- d) veya

Yukarıdaki cümlelerde bo bırakılan yerler, yandaki küçük harflerle isimlendirilen sözcüklerin uygun olanları ile doldurulacaktır. Buna göre hangi cümlenin hangi sözcükle doldurulması do ru olur ?

- A) I – a II – b III – c IV – d
- B) I – b II – c III – d IV – a
- C) I – d II – c III – a IV – b
- D) I – c II – b III – a IV – d

(8. soruyu a a ıdaki iire göre cevaplayınız.)

Ben,
Akdeniz çocu uyum.
Avuçlarımda portakal kokusu,
Saçlarımda limon çiçekleri...

Barı ı severim.
Kocaman güne imle
Zeytin dalları yüre imde bir çelenk
Turuncular durur dal uçlarında...

Ben,
Akdeniz çocu uyum.
Geçmi im dü llerde dinlenir.
Yaseminlerim, gece tütenlerim...
Ya murunda ıslanır
Sevgi denizlerim...

Ay e TURAL







Soru 8. air, a a ıdaki soruların hangisine iirde cevap vermemi tir?

- A) Ya amaktan gurur duydu u ülke neresidir?
- B) Ya adı ı bölgede hangi a aç ve çiçekler yeti ir?
- C) Hangi çiçeklerden be eni ile söz etmektedir?
- D) airin geçmi i nerede dinlenmektedir?

Soru 9.

“Sütten a zı yanan yo urdu üfleyerek yer.”

Bu atasözünde a a ıdaki ses olaylarından hangisi yoktur?

- A) Ünsüz yumu aması
- B) Sert sessizlerin benze mesi (sertle mesi)
- C) Hece (ünlü) dü mesi
- D) Ünsüz dü mesi

Soru 10.

Do ru, dengeli, çe itli, yeterli beslenmeye ve düzenli egzersiz yapmaya çocukluk ya larından itibaren ba lanmalıdır. Aksi halde azalan aktiviteler, ev dı ndaki sa lıksız ve kilo yapıcı besinlerin sık alınması, televizyon ve bilgisayarın kar ısında daha çok vakit geçirme çocuk ve gençlerde obeziteye sebep olabilmektedir. Kahvaltının mutlaka yapılması, mümkün oldukça aile ile birlikte evde yemek yenmesi, fiziksel aktivitelerin artırılması sa lıklı olmak için dikkat edilmesi gereken konulardır.

Yukarıda verilen paragraftan hangi sonucu çıkarabiliriz?

- A) Televizyon ve bilgisayar kar ısında çok zaman geçirmenin sa lı ımızı olumsuz etkileyece i dü ünülemez.
- B) Sa lıklı olmak için dengeli beslenmeye ve düzenli spor yapmaya yeti kinlik döneminde ba lanmalıdır.
- C) Sa lıklı bir ya am, dengeli beslenme ve fiziksel aktivitelerle sa lanabilir.
- D) Günde üç ö ün yemek yemek önemlidir; ama ak am yeme i en önemli olanıdır.

Soru 11.

Bahçenin birinde bir kiraz a acı var mı . Kiraz a acının kapısı konuklara her zaman açık mı . O, hiç yalnız kalmaz mı . Kiraz a acının bodrum katında köstebekler, solucanlar oturur mu . A acın gövdesinde ise karıncalar, böcekler bulunur mu . Üst kattaki konuklar ise çiçeklere gelen arılar, dallara konan ku larmı .

Yukarıdaki paragrafta hangi tamlama çe idinin örne i yoktur?

- A) Belirtisiz isim tamlaması
- B) Takısız isim tamlaması
- C) Belirtili isim tamlaması
- D) Zincirleme isim tamlaması

Soru 12.

Okula, ö retmeni ziyarete gitmi tim.Teneffüs saatiydi. Çocukların bazıları çı lık çı lı a oyun oynuyor ötekiler ise geziniyordu. Bahçe kapısında duran çocu un, birini bekledi ini farkettim. Ona, kimi bekliyorsun? diye sordum. Bana, annesini bekledi ini söyledi.

Yukarıdaki paragrafta geçen altı çizili zamirlerin çe idi sırasıyla hangisidir?

- A) Belgisiz zamir – i aret zamiri – soru zamiri – ki i (ahıs) zamiri
- B) aret zamiri – belgisiz zamir – soru zamiri – ki i (ahıs) zamiri
- C) Belgisiz zamir – belgisiz zamir – ki i zamiri – ki i (ahıs) zamiri
- D) aret zamiri – i aret zamiri – belgisiz zamir – ki i (ahıs) zamiri

Soru 13. A a ıdaki cümlelerin hangisinde “be enme ve a ma” söz konusudur?

- A) O, her zaman yerinde konu an örnek bir ö rencidir.
- B) Bu kadar nefis bir yemek yapaca ını hiç dü ünmemi tim.
- C) Yeni yıl balosunda giydi i elbise ona çok yakı mı tı.
- D) Gazima usa'daki cümbez a acının o kadar ya lı oldu una inanamadım.

Soru 14.

1. Evin önünden geçen elektrik teline kondu, bekledi.
2. Günlerce çamur ta ıdı, yapı tırdı; yuvasını yaptı.
3. Kırlangıç, gagasına aldı ı mercimek büyüklü ündeki çamurla uçtu.
4. Kim bilir bu yuvada belki üç, belki be yavru besleyerek neslini devam ettirecekti.
5. Gagasındaki çamuru ustalıkla balkonun kö esine yapı tırdı.
6. Kendini güvende hissedince uçarak balkona daldı.

Yukarıdaki numaralandırılmı cümlelerle olu turulacak paragrafın cümle sıralaması hangisinde do rudur?

- A) 5 – 1 – 2 – 6 – 3 – 4
- B) 6 – 5 – 2 – 1 – 3 – 4
- C) 3 – 6 – 5 – 2 – 4 – 1
- D) 3 – 1 – 6 – 5 – 2 – 4

Soru 15.

“ Okulun izci öğrencilerinden. Ubat tatilinde Kantara Zici Kampı'na gideceklerdi. Ocak ayı sonunda güzel notlarla bezenmiş karnesini aldı. Sabırsızlıkla bekledi bir gün de gelmişti. Yola çıktılar; arkadaşlarıyla, türkülerle kampa vardılar. Kamp yeri çok güzeldi. Günler, arkadaşlarıyla birlikte, çok keyifli ve keyifli geçiyordu. Günler güzel geçiyordu; ama o yalnızlıktan sıkılmaya başlamıştı. Zici kampı hiç bitmese diye içinden dua ediyordu. “

Yukarıdaki paragrafı anlam yönünden tutarsız yapan cümle, hangi seçenekte verilmiştir?

- A) Sabırsızlıkla bekledi bir gün de gelmişti.
- B) Zici kampı hiç bitmese diye içinden dua ediyordu.
- C) Günler güzel geçiyordu; ama o, yalnızlıktan sıkılmaya başlamıştı.
- D) Ubat tatilinde Kantara Zici Kampı'na gideceklerdi.

Soru 16. “ Annesi, sıcaklığını bakmak için alnına dokundu.” **cümlesindeki “dokunmak” sözcüğü aşağıdaki seçeneklerden hangisiyle aynı anlamda kullanılmıştır?**

- A) Yemekte içtiği gazoz, midesine dokundu.
- B) Merak ettiği için kaplumbağanın kabuğuna dokundu.
- C) Anlattığı acıklı hayat hikayesi, bana dokundu.
- D) O güzel halı, köyün genç kızları tarafından dokundu.

Soru 17. **Aşağıdaki cümlelerin hangisinde, Büyük Ünlü Uyumu Kuralı'nı bozabilecek ek aldığı halde, Büyük Ünlü Uyumu Kuralı bozulmayan bir sözcük vardır?**

- A) Ağaçtan koparıp yediğim yeşil erik, ekim traktı.
- B) Dün akşamki yemek menümüzde pirzola et de vardı.
- C) Amcam, bizimle birlikte oturan ninemi ziyarete geliyor.
- D) Ağaçların altında gezinirken çalıkların arasında mantar bulduk.

Soru 18.

Oyunun ilk perdesi tamamlandı ında çok etkilenmi lerdı. Gülünç sözlere çok gülmü ler; ancak çok üzüldükleri de gözlerindeki ya lardan belli oluyordu. Oyundaki çocu un ya ı pek büyük de ildi; ama çok yetenekliydi. Bütün komik sözleri de o söylemi ti.

Yukarıdaki paragraftaki kelimelerin anlam veya anlam ili kileri incelendi inde seçeneklerin hangisine örnek bulunamaz?

- A) Zıt (kar ıt) anlamlı sözcükler
- B) E anlamlı (anlamda) sözcükler
- C) E sesli (seste) sözcükler
- D) Terim anlamlı sözcük

Soru 19.

Ben bir bahçıvanım.
Sayısız bahçelerin birinde elimde tohumların
En nadidesi: Çocuklarım.
Saçıyorum bahçeye onları,
Bilgilerimle suluyor,
Sevgilerimle büyütüyorum.

Gülbehan Berk

İire göre a a ıdaki benzetmelerden hangisi do ru de ildir?

- A) ö retmen → bahçıvan
- B) okul → bahçe
- C) çocuk → çiçek
- D) bilgi → su

Soru 20. A a ıdaki seçeneklerin hangisinde "o" sözcü ü farklı türden bir zamirdir?

- A) Defterim biraz önce masanın üzerindeydi; onu nereye koydunuz?
- B) Çocuk, arkada ına yava ça yakla tı ve onu kolundan tuttu.
- C) Ay e kedisini çok sever, onu kuca ına alır ok ar, korurdu.
- D) Fidanlıktan zeytin fidanı almı tınız; onu nereye diktiniz?

Soru 21. Yanda verilen numaralandırılmış sözcüklerle anlamlı bir cümle oluşturmak için doğru sıralama nasıl olmalıdır?

- A) 4 – 6 – 5 – 7 – 2 – 1 – 3
 B) 6 – 4 – 5 – 1 – 7 – 2 – 3
 C) 1 – 2 – 4 – 6 – 7 – 5 – 3
 D) 5 – 1 – 7 – 2 – 4 – 6 – 3

1. arabayı
 2. durdurup
 3. cevapladı
 4. çalan
 5. oför
 6. telefonunu
 7. kenarda

Soru 22.

(1) İnsan ömrü uzadı, yaşam standardı geçmi yüzyıla göre çok yükseldi. (2) Fakat geçmi yüzyıllarda bilinmeyen bir kavram, “stres” kavramı günlük yaşamımızda çok kullandığımız kelimelerden biri oldu. (3) Çocuklar bile “stres atmak”tan bahsediyorlar. (4) Modern hayat, yaşam standardını yükseltti; insanlar daha zengin, daha bilgili; ama daha rahat değil. (5) Bu rahatsızlık da insanları birbirinden uzaklaştırdı.

Yukarıdaki metin açıklanan düşünceler bakımından iki paragrafa ayrılmak istendiğinde, ikinci paragraf kaç numaralı cümle ile başlar?

- A) 2
 B) 3
 C) 4
 D) 5

Soru 23. Aşağıdaki cümlelerde geçen altı çizili sözcüklerden hangisi Türkçenin ses yapısına uygundur?

- A) Yemek için kestiğim o güzel elmanın içinden kurt çıktı.
 B) Köy kadın kursuna katılan teyzem güzel bir abajur yaptı.
 C) Masaya çarpınca üzerindeki cam kavanoz düştü kırıldı.
 D) Mesut,ubat tatilini ailesi ile birlikte köyde geçirecekmi .

Soru 24. sim oyunu oynayan dört arkada , kendi seçtikleri bir harfle ba layan kelimeler bularak ellerindeki tabloları doldurmu lardır. Yapılan kontrolde tabloyu hatalı dolduran bir ö renci puan alamamı tır. Puan alamayan ö renci hangisidir?

A) Ozan

Özel sim	Cins sim	Tekil sim	Ço ul sim	Topluluk smi	Soyut sim	Somut sim
Suriye	sandalye	saksı	seleler	sürü	sevgi	sis

B) Aysel

Özel sim	Cins sim	Tekil sim	Ço ul sim	Topluluk smi	Soyut sim	Somut sim
Alayköy	ayna	askı	armutlar	aile	akıl	ate

C) Tarık

Özel sim	Cins sim	Tekil sim	Ço ul sim	Topluluk smi	Soyut sim	Somut sim
Hasibe	horoz	heykel	hurmalar	halk	hava	hayal

D) Gülce

Özel sim	Cins sim	Tekil sim	Ço ul sim	Topluluk smi	Soyut sim	Somut sim
Dervi	dergi	deve	davullar	demet	dü ünçe	duman

Soru 25.

1	Küpünü doldurmak	Çok öfkelenmek
2	Yata a dü mek	Çok acı duymak
3	Küplere binmek	Çok uykusu gelmek
4	Canı yanmak	Eline fırsat geçmi ken çokça para biriktirmek

Yukarıdaki kutularda verilen deyimler ve anlamları e le tirildi inde kaç numaralı deyim gerçek anlamını bulmaz?

- A) 1
- B) 2
- C) 3
- D) 4

Soru 26.

“Bir serçecik varmı
Ufacık
Gö sü kınalı
Kınayı sanki o yaratmı .
Boyalı kanatları
Kaygılara dü ermi
Gök gürlese serçecik.
Kaplarsa do ayı
im ekli kara sancı.”

iire göre a a ıdaki sonuçlardan hangisi do ru de ildir?

- A) Aldı ı ekle sevimlilik ve acıma anlamı kazanmı en az bir sözcük vardır.
- B) iirin bir sözcü ünde ünsüz dü mesi oldu unu söyleyebiliriz.
- C) ki sözcükte “y” harfi ile olu mu kayna tırma olayını görebiliriz.
- D) iirin bütün sözcükleri Büyük Ünlü Uyumu Kuralı'na uymaktadır.

Soru 27.

Ev, mal, mülk
Yı ınla tunç, altın
Yarasına merhem olmaz
Ruhunda, vücudunda
Dert olan adamın.
Eldeki nimetleri tadabilmesi için
Keyfi yerinde olmalı insanın.
Horatius

Bu şiirle anlatılmak istenen düşünce, hangi atasözümüzle özetlenebilir?

- A) Sa ılıktan büyük zenginlik yoktur.
- B) Güne girmeyen eve doktor girer.
- C) Derdini söylemeyen derman bulamaz.
- D) Hekimden sorma çekenden sor.

TÜRKÇE TEST N Z B T M T R

YANITLARINIZI KONTROL EDEREK FEN VE TEKNOLOJİ TESTİNE GEÇİNİZ.

Soru 1. Karbonhidrat içeren besinlere iyot çözeltisi damlatıldığında bu besinlerin mavi – mor bir renge döndüğü gözlenir.

Buna göre, aşağıda verilen besinlerden hangileri, üzerlerine iyot çözeltisi damlatıldığında, mavi-mor renge döner?

TAVUK ETİ	PİRİNÇ	PATATES	ELMA	ZEYTİN	BULGUR
--------------	--------	---------	------	--------	--------

- A) Pirinç - Patates - Bulgur
B) Tavuk eti - Patates - Bulgur
C) Elma - Pirinç - Zeytin
D) Tavuk eti - Elma - Zeytin

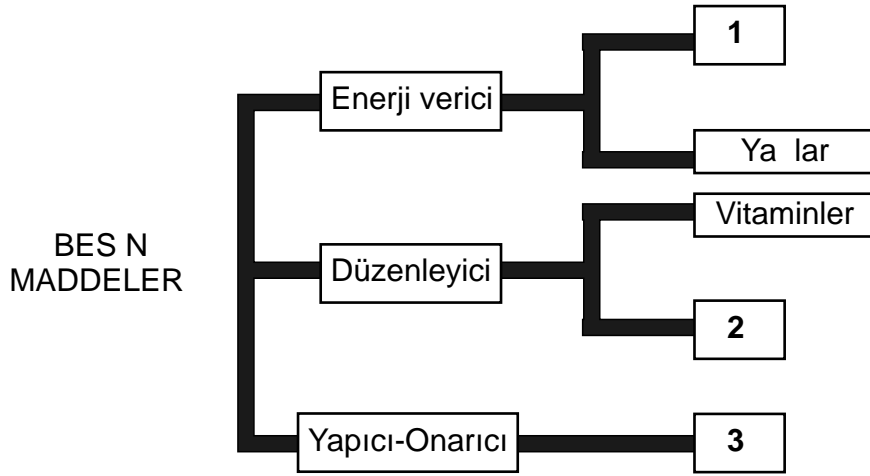
Soru 2. Öretmenimiz bizden tüm sınıf olarak “Sigaranın olumsuz etkileri” konulu bir afi hazırlamamızı istedi.

Buna göre, aşağıdaki bilgilerden hangilerini afiimize koymalıyız?

- I. Sigara vücudumuzda birçok organımıza zarar verir.
II. Sigaradaki nikotin bağımlılık yapar.
III. Çevre kirliliğine ve yangınlara da yol açar.

- A) I ve II
B) I ve III
C) II ve III
D) I, II ve III

Soru 3. Aşağıdaki kavram haritasında besin maddelerinin vücudumuzda öncelikli görevleri gösterilmiştir.

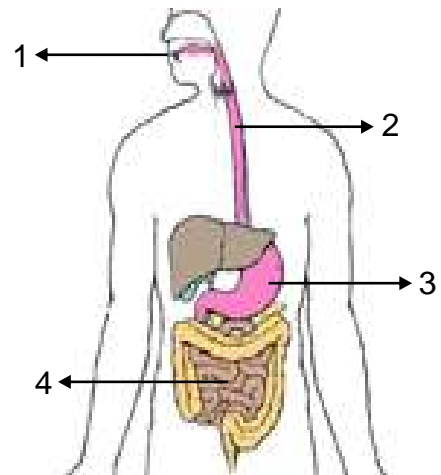


Buna göre sayılarla gösterilen alanlara hangileri yazılmalıdır?

- | <u>1</u> | <u>2</u> | <u>3</u> |
|--------------------|------------|------------|
| A) Karbonhidratlar | Yağlar | Mineraller |
| B) Su | Mineraller | Proteinler |
| C) Karbonhidratlar | Mineraller | Proteinler |
| D) Su | Mineraller | Vitaminler |

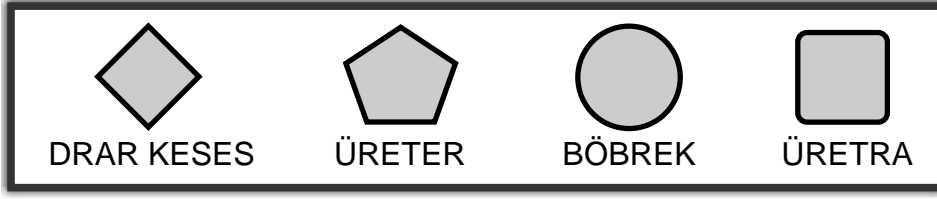
Soru 4. Yandaki eklede sindirimde görev alan bazı yapı ve organlar verilmiştir.

Buna göre, numaralandırılmış yapı ve organlardan hangisinde besinler herhangi bir değişiklik uğramadan ilerlemektedir?



















- A) 1
B) 2
C) 3
D) 4

Soru 5.



Yukarıdaki şekiller hangi sıra ile dizilirse boş altımın izlediği yolda görev alan organlar doğru olarak sıralanmış olur?

- A)    
- B)    
- C)    
- D)    

Soru 6. Aşağıda verilen olayların hangisinde kuvvetin etkisi vardır?

- I. Odanın penceresini açmak.
- II. Oyun hamuru ile şekiller yapmak.
- III. Televizyon izlemek.
- IV. Kavanozun kapaklarını açmak.

- A) I ve III
 B) II, III ve IV
 C) I, II ve IV
 D) I, II ve III

Soru 7. Aşağıda, dinamometreler ve bu dinamometrelerin ölçebilecekleri maksimum büyüklükteki kuvvetler verilmiştir. Buna göre, 200 N'lık bir cismi, hangisinin ucuna takarsak dinamometre esnekliğini kaybeder?

A - Dinamometresi

100N

B - Dinamometresi

300N

C - Dinamometresi

250N

D - Dinamometresi

400N

- A) A - Dinamometresi
- B) B - Dinamometresi
- C) C - Dinamometresi
- D) D - Dinamometresi

Soru 8. Karayolları Dairesi, fren arızalarından kaynaklanan ölümlü kazaların önüne geçebilmek için otoyolların uygun bölümlerine kaçış rampaları yapmaktadır. Kaçış rampaları kum, çakıl ve mıcır havuzlarından oluşmaktadır.

Buna göre kaçış rampalarının kum, çakıl ve mıcırdan oluşmasının nedeni ne olabilir?

- A) Sürtünmeyi azaltması
- B) Sürtünmeyi artırması
- C) Hava direncini artırması
- D) Hava direncini azaltması

Soru 9. A a ıda verilen olaylarla ilgili olarak bo bırakılan yerlere, buharla maya ait olanlar için (B), Yo u maya ait olanlar içinse (Y) yazıldı ında ortadaki alanda nasıl bir görünüm olu ur?

Telde asılı çama ırların kuruması		Kaynayan suyun tencere kapa ında su damlacı ı olu turması
Banyo yaparken aynanın bu ulanması		Elimize döktü ümüz kolonyanın bir süre sonra kaybolması
Denizden çıktıktan kısa bir süre sonra tenimizin kuruması		Isıtılan sıvının üzerinde görülen dumanlanma

A)

B	Y
Y	B
B	Y

B)

B	Y
B	B
B	B

C)

B	Y
Y	B
B	B

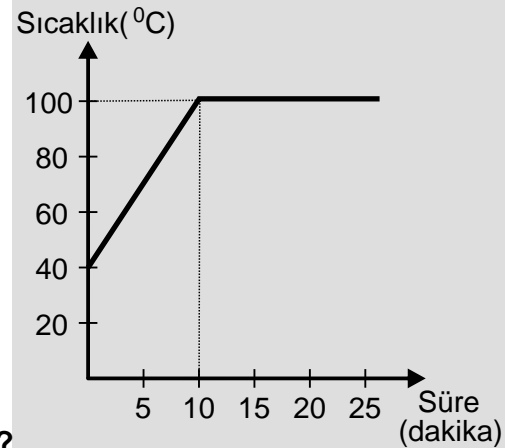
D)

B	B
Y	B
B	B

Soru 10. Yandaki grafik, ısıtılan bir miktar sıvının sıcaklı ındaki de i imi, zamana ba lı olarak göstermektedir.

Buna göre,

- | |
|---|
| <p>I. Sıvının kaynama sıcaklı ı belli de ildir.
 II. Sıvının ilk sıcaklı ı 40°C dir.
 III. Kaynama 10. dakikada ba lamaktadır.</p> |
|---|



ifadeleri için a a ıdakilerden hangisi do rudur?

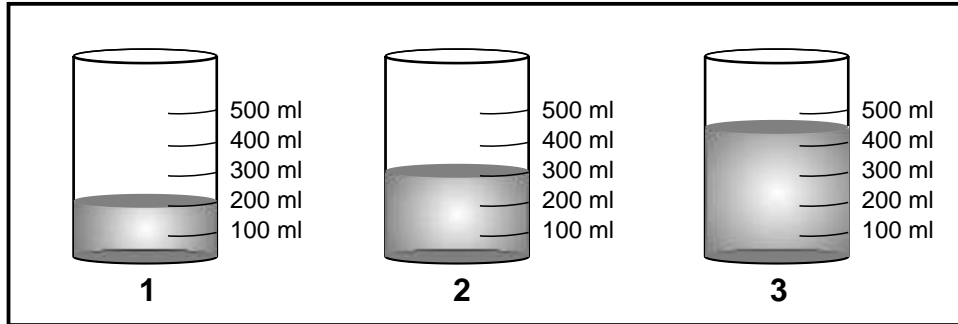
- A) I ve II
B) I ve III
C) I, II ve III
D) II ve III

Soru 11. Aşağıdaki tabloya göre hangi maddeler 350 °C de katı halde bulunmaya devam eder?

Saf Madde	Erime Noktası °C
Tuz	801
Kabartma tozu	300
Demir	1535
Etil alkol	-117

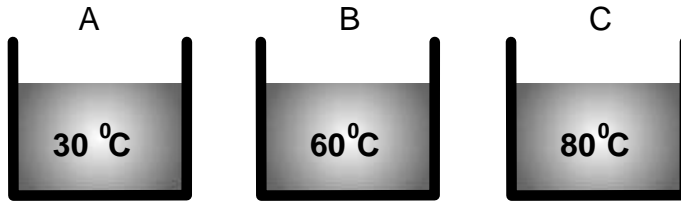
- A) Tuz – Kabartma tozu
 B) Tuz ve Demir
 C) Etil alkol – Kabartma tozu
 D) Demir

Soru 12. Aşağıda içi farklı miktarlarda su ile dolu üç kap bulunmaktadır. Bunlar, aynı ortamda ve özde ısıtıcılarla ısıtıldıklarında, kaynamaya başladıkları andaki sıcaklıkları ile ilgili hangi seçenek doğrudur?



- A) 1 numaralı kaptakinin kaynama sıcaklığı en yüksektir.
 B) 2 numaralı kaptakinin kaynama sıcaklığı en yüksektir.
 C) 3 numaralı kaptakinin kaynama sıcaklığı en yüksektir.
 D) Her üç kaptakinin de kaynama sıcaklığı aynıdır.

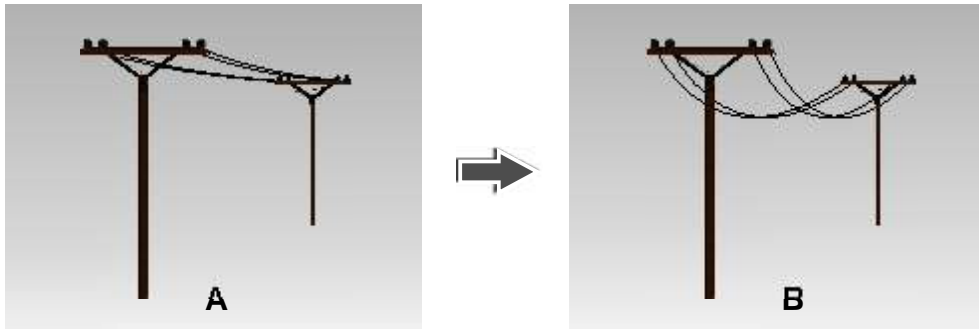
Soru 13. A a ıda su miktarları birbirine e it üç kap bulunmaktadır. Bu kapların her birine sıcaklı ı 60°C olan aynı miktarda su ilave ediliyor.



Buna göre, a a ıdakilerden hangisi, kaplardaki toplam su miktarındaki sıcaklı ın son durumu ile ilgili do ru bir bilgi olur?

- A) B kabındaki toplam su miktarının sıcaklı ı de i ir.
- B) A kabındaki toplam su miktarının sıcaklı ı di erlerinden az olur.
- C) C kabındaki toplam su miktarının sıcaklı ı artar.
- D) A kabındaki toplam su miktarının sıcaklı ı azalır.

Soru 14. Yaz aylarında elektrik tellerinin A seviyesinden B seviyesine gelmesine **genle me** denir.



Yukarıdaki ifadeye göre a a ıdakilerden hangisi genle me ile ilgili do ru bir ifade olur?

- A) Genle me, maddenin ısı almasıyla olur.
- B) Genle me sonucunda maddenin hacmi de i mez.
- C) Genle me, donma olayının tersidir.
- D) Genle me, maddenin ısı vermesiyle olur.

Soru 1.

.....I..... hakkım sayesinde okula para vermeden gidebiliyorum.

.....II..... hakkım sayesinde ya ıyorum.

.....III..... veIV..... hakkım sayesinde uygun e lencelere serbestçe katılabiliyorum.

En iyiV..... artlarına sahip olma hakkım sayesinde sa ıklıyorum.

Yukarıda numaralanmı bo luklara sırasıyla a a ıda verilen sözcüklerden hangileri gelmelidir?

- | <u>I</u> | <u>II</u> | <u>III</u> | <u>IV</u> | <u>V</u> |
|-----------|-----------|------------|-----------|----------|
| A) Sa lık | Dinlenme | E itim | Ya ama | Oynama |
| B) E itim | Ya ama | Dinlenme | Oynama | Sa lık |
| C) Oynama | Dinlenme | Sa lık | E itim | Ya ama |
| D) E itim | Oynama | Ya ama | Sa lık | Dinlenme |

Soru 2. A a ıda verilen ifade ve kavramlar, hangi seçenekte do ru olarak e le tirilmi tir?

a	Ahmet Bey'in evinde baba, okulda ö retmen olması
b	Tutku'nun evinde odasını toplayarak annesine yardımcı olması
c	Hayatı tehlike altında olan Berk'in mahkeme kararıyla korunma altına alınması

1	Hak
2	Sorumluluk
3	Rol

- A) a - 1 b - 2 c - 3
 B) a - 2 b - 1 c - 3
 C) a - 3 b - 2 c - 1
 D) a - 2 b - 3 c - 1

Soru 3.

Mehmet, ailesinin ikinci çocu u olup 10 ya ındadır. İkokul 5. Sınıf ö rencisidir. Okulun futbol takımında kaleci olarak görev yapar. Haftanın bir günü okul sonrası tiyatro kulübünde çalı malara katılır. Ödevlerini yaptıktan sonra mahalle arkada larıyla oyun oynamaktadır.

Yukarıda verilen bilgilere göre Mehmet kaç de i ik grup içerisinde yer almaktadır?

- A) 2
- B) 3
- C) 4
- D) 5

Soru 4. Tarihsel süreç içerisinde Kıbrıs Adasını yöneten medeniyetlerden bir bölümü a a ıda verilmi tir. Bu medeniyetlerin Kıbrıs Adasını yönetme sırası hangisinde do ru olarak verilmi tir?

- A) Venedikliler → Lüzinyanlar → Osmanlılar
- B) Lüzinyanlar → Venedikliler → Osmanlılar
- C) Osmanlılar → Venedikliler → Lüzinyanlar
- D) Osmanlılar → Lüzinyanlar → Venedikliler

Soru 5. Yanda, ö retmenin anlattı ı konuya göre Lefko a ve Ma usa kentlerinin ortak olan özelli i hangisidir?

- A) Bu kentlerin surlarla çevrili olması
- B) Aynı ekonomik faaliyetlerin yapılması
- C) Aynı co rafi özelliklere sahip olması
- D) Bu kentlerde kalelerin olması



Soru 6. Kültürel yemeklerimizi ve tatlılarımızı dü ündü ümüzde “ Bu yiyecekler yerine neden ba ka yiyecekler yapılmamı tır?” sorusuna a a ıdakilerden hangisi en iyi yanıt olur?

- A) Ba ka yiyecek yapacak bilgileri olmaması
 B) Bu yiyeceklerden büyük gelir elde edilmesi
 C) Ülkemizde yeti en ürünlere uygun yiyeceklerin yapılması
 D) Di er yiyeceklerin yapılmasının ustalık istemesi

Soru 7. A a ıda verilen ifadelerden do ru olanlarına (D), yanlı olanlarına (Y) koydu umuzda nasıl bir görüntü olu ur?

- I. Ekvator Bölgesinde hava sıcaklı ı, kutup noktalarına göre daha fazladır.
 II. Tüm ülkelerin iklim, hava sıcaklı ı, ya ı ekli, bitki örtüsü birbirine benzer.
 III. Denizler hava sıcaklı ını etkiler.
 IV. Akdeniz iklimi sadece ülkemize özgü bir iklimdir.

A)

D
D
D
D

B)

D
Y
D
Y

C)

D
Y
D
D

D)

Y
Y
D
D

Soru 8. A a ıdaki tabloda ülkemizin bazı bölgeleri verilmi , bu bölgelere ait ekonomik faaliyetleri gösteren alanlar ise numaralandırılarak bo bırakılmı tır.

Bölge	GÜZELYURT	MESARYA	LEFKO A	G RNE
Ekonomik faaliyet	I	II	III	IV

Buna göre I, II, III ve IV numaralı alanlara sırasıyla hangi ekonomik faaliyetler gelmelidir?

- I II III IV
 A) Çiftçilik Balıkçılık Narenciye Turizm
 B) Turizm Çiftçilik Balıkçılık Sanayi
 C) Narenciye Balıkçılık Çiftçilik Sanayi
 D) Narenciye Çiftçilik Sanayi Turizm

Soru 9. Ülkemizde, önceki yıllarda bolca yeti tirilen pamuk, günümüzde ekonomik de er olarak önemini kaybetmi bir üründür.

Yukarıda adı geçen ürünümüzün üretimi yaygın olarak hangi bölgede yapılmaktaydı?

- A) Karpaz Bölgesi
- B) Güzelyurt Ovası
- C) Mesarya Ovası
- D) Girne Bölgesi

Soru 10. Hakan Bey, i letme fakültesini bitirdikten sonra ülkemizde üretilen ürünleri kullanarak bir imalathane kurmaya karar verir. Buna göre Hakan Bey, hangi tesisi kurmayı dü ünmemelidir?

- A) Zeytin i leme tesisi
- B) Patates i leme tesisi
- C) Çay i leme tesisi
- D) Portakal i leme tesisi

**SOSYAL B LG LER TEST YLE B RL KTE
I. OTURUM B TM T R
YANITLARINIZI KONTROL ED N Z**