



KKTC
MİLLÎ EĞİTİM BAKANLIĞI

Talim ve Terbiye Dairesi Müdürlüğü Sınav Merkezi

**KOLEJLERE GİRİŞ SINAVI
(KGS-2)**

6 HAZİRAN 2026 CUMARTESİ

1. OTURUM SORU KİTAPÇIĞI

Ders Adı	Soru Sayısı	Sayfa	Sınav Süresi
Türkçe	27	1-10	90 dk
Fen ve Teknoloji	14	11-16	
Sosyal Bilgiler	10	17-20	

Ad-Soyad:.....

Aday No :.....

ÖĞRENCİLERİN DİKKATİNE!

1. Bu soru kitapçığı **20 sayfadan** oluşmaktadır.
2. Bu kitapçık; **27 Türkçe, 14 Fen ve Teknoloji ve 10 Sosyal Bilgiler** sorusu içermektedir.
3. Cevap kâğıdının üzerinde adınız, soyadınız ve aday numaranız bilgisayar tarafından yazılmış ve kodlanmıştır.
4. Cevap kâğıdı üzerindeki tüm işaretlemeleri kurşun kalemle yapınız.
5. Cevap kâğıdınızı buruşturmayınız ve üzerine gereksiz işaret koymayınız.
6. Her soru için dört farklı seçenek verilmiştir. Bu seçeneklerden sadece bir tanesi doğru yanıt olup diğerleri yanlıştır.
7. Soru kitapçığı üzerindeki boş yerleri işlem yapmak için kullanabilirsiniz.
8. Sınav sonuçlarına www.mebnet.net adresinden ulaşabilirsiniz.

**SALON BAŞKANI SINAVINIZ BAŞLAMIŞTIR UYARISINDA BULUNMADAN
SORU KİTAPÇIĞINI AÇMAYINIZ.**

- 1) Bir sanatsever, müzede gördüğü her heykel karşısında büyük bir hayranlık duyuyordu. Eserleri I yapan sanatçıların ne kadar emek verdiğini düşünüyor, onların yaratıcılık ve sabrına hayran II kalıyordu. Ona göre bir heykel, sadece taş ya da mermer değil, aynı zamanda düşüncenin ve duygunun ifadesiydi. Bununla birlikte sanatsever, sanat sevgisinin insanların manevi III erdemlerini geliştirdiğine ve insan hayatını güzelleştirdiğine inanıyordu. IV

Parçada numaralandırılmış sözcüklerden üçünün anlamı aşağıda verilmiştir:

- ◆ Taş, tunç, bakır vb. maddelerden yontularak, kalıba dökülerek veya yoğrulup pişirilerek biçimlendirilen eser.
- ◆ Ahlakın övdüğü iyi olma, alçak gönüllülük, doğruluk vb. niteliklerin genel adı.
- ◆ Sanatla iç içe olmaktan zevk alan, sanatı koruyan ve yaşatan kimse.

Buna göre kaç numaralı sözcüğün anlamı verilmemiştir?

- A) I
B) II
C) III
D) IV
- 2) Karpaz'da bulunan Altinkum Plajı, akşam saatlerinde ziyaretçilerine büyüleyici bir manzara sunar. Gün batımıyla birlikte sahil altın gibi parıldarken, deniz de bu ışığı yansıtarak göz alıcı bir güzelliğe bürünür. Gökyüzü kimi zaman ufka kadar uzanan bir kızıllıkla kaplanır, kimi zaman ise bembeyaz kumsal ay ışığının altında gümüş gibi parlar. Bu eşsiz sahilde yürüyen insanlar, kendilerini bir masal dünyasındaymış gibi hissederler. Ortaya çıkan bu olağanüstü güzellik karşısında insan gözlerine inanmakta zorlanır; çünkü insan gözlerini kapatsa bile o renkler ve ışıltılar zihninde canlı kalmaya devam eder. İşte bu yüzden Altinkum Plajı, onu ziyaret eden herkesin hafızasında unutulmaz bir iz bırakır.

Bu parçanın konusu aşağıdakilerden hangisidir?

- A) Altinkum Plajı'nın akşam saatlerinde sunduğu eşsiz manzara
B) Altinkum Plajı ve Karpaz sahillerindeki kumsallar
C) Doğal güzelliklerin insan psikolojisi üzerindeki olumlu etkileri
D) Altinkum Plajı'nın günün farklı saatlerinde uğradığı değişimler

- 3) Gülümsemek, insanın duygularını dışa vurma şeklidir. Küçük bir gülümseme, hem bizi hem de etrafımızdakileri mutlu eder. Zor bir gün geçirirken bile gülümsemek, insanın moralini yükseltir ve insana umut verir. İnsanlar birbirlerine gülümsediğinde, aralarındaki bağ güçlenir ve çevreye pozitif bir enerji yayılır. Bu nedenle gülümsemek, hayatı güzelleştiren küçük ama etkili bir davranıştır.

Bu parça için en uygun başlık aşağıdakilerden hangisidir?

- A) Dışa Vurulan Duygular
- B) İletişimi Güçlendirmek Üzerine
- C) Gülümseme ve Mutluluk
- D) Gülümsemenin Hayatı Güzelleştiren Gücü

- 4) (I) İnsanlarla konuşurken kullandığımız dilin, iletişimimizi nasıl etkilediğini fark ediyorum. (II) Söze “sen” diye başladığımızda konuştuğumuz kişinin savunmaya geçmesine neden oluruz. (III) “Ben Dili” kullanmak, karşı tarafı suçlamadan kendi duygularımızı anlatmamızı ve daha sağlıklı iletişim kurmamızı sağlar. (IV) Ben dili kullandığımızda ise karşıımızdaki kişilerin daha az savunmaya geçtiğini görürüz.

Yukarıda karışık olarak verilen cümlelerden hangisi oluşacak paragrafın ana düşüncesini vermektedir?

- A) I
- B) II
- C) III
- D) IV

- 5) “Kısa film yarışmasının yapıldığı kenti ziyaret etmeyi düşünüyordum fakat o tarihte tatilde olacağımızı hatırladım.”

Bu parçadaki altı çizili söz grubunun anlamı aşağıdakilerden hangisinde verilmiştir?

- A) Başvurmak
- B) Görmeye gitmek
- C) İncelemek
- D) Kısa süre kalmak

6) Aşağıdaki altı çizili sözcüklerden hangisi, sözcüğün anlamını değiştiren bir ek almamıştır?

- A) Artık gözlük kullanmam gerekiyor.
 B) Evden çıktığım gibi tenise gittim.
 C) Arkadaşlarıma saygı duymam gerektiğini öğrendim.
 D) Okul gezisine gideceğimiz için tüm sınıf çok mutlu.

7) Bir sabah Engin, evinin oradaki parkta oynarken yerde bir kâğıt parçası buldu. Üzerinde garip işaretler vardı.

– “Bu ne acaba?” dedi Engin kendi kendine.

Kâğıdı eline aldı ve salıncakta sallanan arkadaşının yanına koştu.

– “Bak Cem, yerde bir şey buldum! Sence bu kâğıttaki çizimler ne anlatmak istiyor?”



Cem kâğıda baktı ve gülümsedi:

– “Bence bu bir hazine haritası olabilir! Hadi haritadaki işaretleri takip edelim!”

İkisi, işaretleri takip ederek büyük bir maceraya atıldılar. Yol boyunca birbirlerine yardım ettiler, zorlandıkları anlarda birbirlerine cesaret verdiler. Sonunda, haritanın gösterdiği yere geldiklerinde, yerde eski bir kutu buldular. Kutuyu açtıklarında içinde renkli taşlar ve bir not vardı:

– “Gerçek hazine, birlikte çalışmak ve dostluk kurmaktır.”

Görsellerden hangisinin parçada gerçekleşen olaylardan birini yansıttığı söylenemez?



- 8) Atatürk, sanata çok önem veren bir liderdi. Ona göre sanat, bir milletin gelişmesinde ve ilerlemesinde büyük rol oynardı. Atatürk, insanların güzel düşünmesini, estetik duygular kazanmasını ve kendilerini doğru ifade etmesini sanat sayesinde mümkün görüyordu. Bu yüzden tiyatro, müzik, resim, heykel gibi sanat dallarının gelişmesini desteklemiştir. Atatürk'ün "Sanatsız kalan bir milletin hayat damarlarından biri kopmuş demektir." sözü de sanatın ne kadar önemli olduğunu anlatır.

Bu parçadaki altı çizili sözle anlatılmak istenen aşağıdakilerden hangisidir?

- A) Sanatın, bir milletin gelişmesi ve yaşaması için çok önemli olduğu.
 B) Sanatın, bir toplumun duygularını ifade etmesine yardımcı olduğu.
 C) Sanatsal çalışmaların toplumun kültürünü zenginleştirdiği.
 D) Sanatın yalnızca belli alanlarla sınırlı kalması gerektiği.

- 9) Verilen cümlelerdeki hikâye unsurları bulunarak tablo doldurulacaktır.

	Olay	Yer	Zaman	Kişi
1	Kemal, akşamüzeri odasında sınavlarına çalışıyordu.			
2	Seda, sabah erkenden bahçede gülleri kokladı.			
3	Hüseyin, kütüphanede ödevini yapıyordu.			
4	Ayşe, her akşam telefonla oynuyordu.			

Buna göre tablonun hangi satırında "Yer" unsuru boş bırakılacaktır?

- A) 1
 B) 2
 C) 3
 D) 4

- 10) **Aşağıdaki cümlelerin hangisinde ünsüz yumuşaması olmamıştır?**

- A) Yalnızlığımlı anlatacak kelime yok.
 B) Sırtımda ağrı vardı.
 C) Bu ayakkabı ayağıma büyük geldi.
 D) Hastayken şurubumu annem içirdi.

- 11) Tansel'den aşağıda yazılan her doğru ifade için ilgili kutucuğa “✓” işareti, her yanlış ifade için de ilgili kutucuğa “X” işareti koyması isteniyor.

1. “Bütün hatalarımı gökyüzü gizliyor.” mısrasında kişileştirme (teşhis) sanatı vardır.
2. “Ateşi sönmüş küllere döndüm.” mısrasında kişileştirme (teşhis) sanatı vardır.
3. “Kelimeler dans eder önümde.” mısrasında benzetme (teşbih) sanatı vardır.
4. “Vakitsiz açan çiçeklere döndüm.” mısrasında benzetme (teşbih) sanatı vardır.
5. “Kulağının dibinde haykırdı rüzgâr.” mısrasında kişileştirme (teşhis) sanatı vardır.
6. “Begonvil çiçekleri bakmayın yüzüme dik dik.” mısrasında benzetme (teşbih) sanatı vardır.

Tansel işaretlemeyi doğru yaptığına göre aşağıdakilerden hangisi Tansel'in yaptığı şekil olabilir?

A)

1	✓
2	X
3	X
4	✓
5	✓
6	X

B)

1	✓
2	X
3	✓
4	X
5	X
6	X

C)

1	X
2	✓
3	✓
4	X
5	X
6	✓

D)

1	X
2	✓
3	X
4	✓
5	✓
6	X

- 12) Aşağıdaki cümlelerin hangisinde ünlü düşmesi yoktur?

- A) Resimlerine baktıkça ufkum genişliyor.
- B) Karnımda kelebekler uçuşuyordu sanki.
- C) Ekranı bakmaktan boynum tutulmuş.
- D) Annemin aldığı elbisenin omuzlarını çok beğendim.

(13 ve 14. soruları aşağıdaki şiire göre yanıtlayınız.)

Yaşamak gerekiyorsa eğer
Bir çocuk oyunu kadar renkli olsun.
Dünyayı kardeşlik çiçekleriyle
Uçan kuşlar doldursun.

Sen dargınlık ağacı, barış ve yemiş ver.
Birleşsin bütün dünya çocukları,
Kalp kırılmadıkça sürer gider oyun.
Yorulunca bir dost sesiyle uyuyun.

Tanrım yorgunluktan kuru bu ayakları,
Bu küçük ayaklar böyle hep beraber
Oraya, o kardeş bayramına gitsin,
Kucaklaşsın bütün dünya çocukları.



13) Bu şiirin ana duygusu aşağıdakilerden hangisidir?

- A) Dost sesinin verdiği huzur
- B) Mutluluk ve neşe
- C) Barış ve kardeşlik arzusu
- D) Umut ve dayanışma bilinci

14) Bu dördüklerle ilgili aşağıdakilerden hangisi söylenemez?

- A) Şiirde 3 kıta vardır.
- B) Çocukların birliği ve mutluluğu anlatılmıştır.
- C) Şiir, on dört mısradan oluşmuştur.
- D) "Dünya Çocukları" şiir için uygun bir başlık olabilir.

15) "Yaz-" sözcüğü, aşağıdakilerden hangisinin eklenmesiyle " duygu ve düşüncelerini yazı yoluyla ortaya koyan ve eserin sahibi olan kimse" anlamı kazanır?

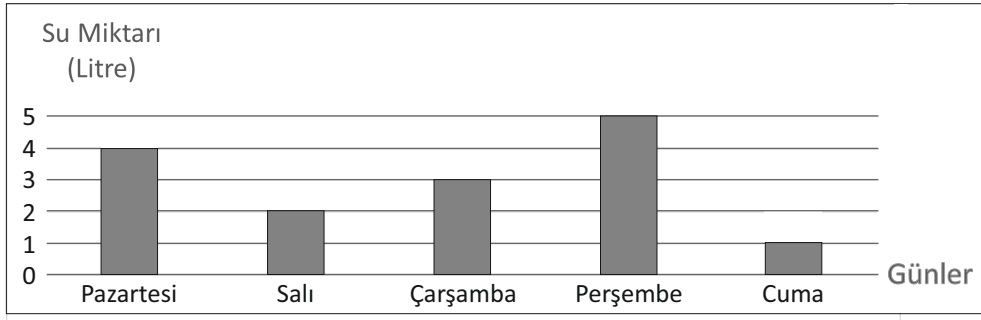
- A) -gı
- B) -ar
- C) -lık
- D) -ı

- 16) I. Karpaz'daki doğal çevrenin tarihi ve kültürel değerleriyle beraber korunması gerekir.
 II. Bölgenin kültürünü yansıtan sepet örücülüğü, Karpaz eşekleri, eski kiliseler, manastırlar ve camiler turistlerin ilgisini çekmektedir.
 III. Karpaz, doğaya saygılı yaşam biçimiyle turistler tarafından çok fazla tercih edilen, olağanüstü güzelliklere sahip bir doğal çevredir.
 IV. Bunun için bölge, gelecek nesillere aktarılmak ve korunmak amacıyla "Karpaz Millî Parkı" kapsamına alınmıştır.

Numaralanmış bu cümlelerden anlamlı bir paragraf oluşturulursa hangisi en sonda yer alır?

- A) I
 B) II
 C) III
 D) IV

- 17) Aşağıdaki grafikte Tarık'ın beş gün boyunca içtiği su miktarı verilmiştir.



Buna göre aşağıdakilerden hangisi yanlıştır?

- A) Tarık, en az suyu Cuma günü içmiştir.
 B) Perşembe günü içtiği su miktarı, çarşamba günü içtiği su miktarından azdır.
 C) Pazartesi içtiği su miktarı, çarşamba günü içtiği su miktarından fazladır.
 D) Cuma ve salı günleri içtiği su miktarının toplamı çarşamba günü içtiği su miktarına eşittir.

- 18)

Ve ben bütün yapraklarımı döküyorken şimdi,
 Eylül diyorsun sen.
 Tam da orada başlıyor ayrılık.

Ahmet Telli

Yukarıdaki şiirde altı çizili sözcüklerdeki ses olayı aşağıdakilerden hangisidir?

- A) Ünlü daralması
 B) Ünsüz yumuşaması
 C) Ünlü düşmesi
 D) Ünsüz türemesi

19) Seçeneklerden hangisinde akıllı işaretin anlamı yanlıştır?



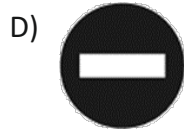
Şiddet/Korku



Çocuk Kitleleri İçin



7 Yaş ve
Üzeri İçin



Olumsuz Örnek
Oluşturabilecek Davranışlar

20) Aşağıda verilen altı çizili kelimelerin hangisinde ünsüz türemesi yoktur?

- A) Hakkımı kimseye vermem.
B) Bazen bir bakış bile pek çok şey hissettirir.
C) Dersini dikkatli dinlersen sınıfı geçersin.
D) Tıbbın en güzel yanı insanlara yardım etmektir.

21) Ülkemizin geçmişten gelen değerlerinden biri olan Hüseyin Köroğlu, başarısının sırrını çok çalışmaya bağlıyordu hayatta en çok annesinden destek aldığını belirten Köroğlu, Avrupa'da tiyatro oynamak istediğini de sözlerine ekledi.

Bu cümledeki numaralanmış kelimelerle ilgili aşağıdakilerden hangisi söylenemez?

- A) 1 numaralı kelimedede, ünlü düşmesi vardır.
B) 2 numaralı kelimedede, ünsüz türemesi vardır.
C) 3 numaralı kelimedede, ünlü daralması vardır.
D) 4 numaralı kelimedede, ünsüz yumuşaması vardır.

22) Kelimelerin kendi anlamlarıyla ilgili en küçük parçalarına **kök** denir.

Buna göre aşağıdakilerden hangisinde altı çizili kelimenin kökü yanlış gösterilmiştir?

- A) Uçakların gökyüzünde ilerleyişi beni hep heyecanlandırır.
B) Balıkçı bugün çok şanslıydı.
C) Kar yağınca kayak yapmayı çok severim.
D) Okula bayramda büyük bir bayrak asacağız.

- 23) Bir resim yarışmasında Eylül, Ece, Osman, Burak ve Gizem finale kalmışlardır. Yarışmanın son durumu ile ilgili şunlar bilinmektedir:

- ◆ Yarışmada birinci olan kişi Ece ya da Osman değildir.
- ◆ Eylül, Gizem'den daha iyi bir derece yapmıştır.
- ◆ Burak, yarışmada beşinci olmuştur.
- ◆ Yarışma sonucuna göre Ece ikinci, Osman dördüncü olmuştur.

Bu bilgilerden hareketle aşağıdakilerden hangisine ulaşamaz?

- A) Eylül ve Gizem arasında bir kişi vardır.
- B) Osman, Gizem'den daha başarılı olmuştur.
- C) Gizem üçüncü olmuştur.
- D) Yarışmada birinci olan kişi Eylül'dür.

24)

GAZETE



DÜNYANIN EN BÜYÜK KARINCASI
Dev Karınca

Genellikle ağaç ve toprakta yaşayan “Dev Karınca” dünyanın pek çok bölgesinde bulunmaktadır. Bu karınca türü, 5 cm uzunluğunda olup normal karıncalardan 30 kat daha ağırdır.

Kırmızımsı kahverengi bir renge sahiptir. Ayrıca vücudunda sarı şeritler görülür. Diğer karıncaların çoğundan yaklaşık 7 yıl daha uzun süre yaşayabilir.

Bir haber sitesinden alınan bu haber metninde, dev karıncalarla ilgili aşağıdakilerden hangisine ilişkin bilgi verilmemiştir?

- A) Diğer türlere göre yaşam süresine
- B) Yaşadığı yere
- C) Nasıl beslendiğine
- D) Vücutlarındaki renklere

25) Yanda numaralanmış sözcükler sözlük sırasına göre sıralandığında son sıradaki sözcük kaç numaralı sözcük olur?

- A) I
- B) II
- C) III
- D) IV

- I. Balon
- II. Barış
- III. Balık
- IV. Barut

26) Aşağıda bir dergiyi düzenli olarak her ay alan dört çocuğun bu dergiye gönderdiği mektuplardan bazı bölümler verilmiştir:

Ahmet: Her ay yenisini aldığımız bu dergi, ilkokul ve ortaokul öğrencilerini ilgilendiren konularıyla gerçekten çok iyi.

Gül: Bu dergi, "Türkçeyi doğru kullanmanın" önemini bize öğreten en önemli iletişim araçlarından.

Hakan: Dergide yer alan, çocuklara özel sanatsal etkinlikler, bizlere sanat zevki aşıladı.

Alya: Bu dergi, bilime olan ilgimi ve yeteneğimi keşfetmemi sağladı.

Bu mektuplardan hareketle söz konusu dergiyle ilgili aşağıdakilerden hangisi söylenemez?

- A) Öğrenciler için eğitici ve öğretici içerikler sunmaktadır.
- B) Türkçeyi doğru kullanmayı teşvik etmektedir.
- C) Öğrencilerin sanatsal etkinliklere karşı ilgisini artırmaktadır.
- D) Yalnızca eğlence amaçlı hazırlanmıştır.

27) Suna Kan, dünyanın en ünlü keman sanatçılarından biridir. Küçük yaşta keman çalmaya başlayan Suna Kan, kemanını çalarken yay (arşe) kullanır ve yayına sürdüğü reçine sayesinde daha güzel sesler elde eder. Bir eseri çalmadan önce kemanını doğru ses verecek şekilde akort eder. Suna Kan sadece keman değil, gitar, bağlama ve ud gibi farklı çalgıları da çalabilmektedir. Suna Kan, çaldığı her ezgi ile dinleyenleri etkileyen, başarılı ve örnek bir sanatçıdır.

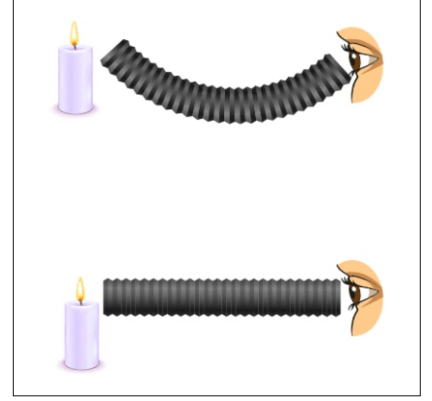
Metindeki hangi kelime "müzik" ile ilgili bir terimdir?

- A) Akort
- B) Ünlü
- C) Reçine
- D) Örnek

TÜRKÇE TESTİ BİTMİŞTİR.

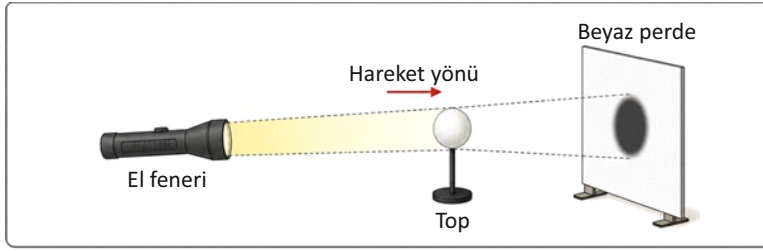
- 1) Öğretmen, sınıfa getirdiği bir mumu ve kıvrılabilir karton hortumu kullanarak ışığın yayılması ile ilgili bir deney yapar. Deneyde yanan muma; önce karton hortum kıvrılarak bakılır, ardından hortum düz bir hale getirilerek tekrar bakılır ve aşağıdaki gözlemler not edilir:

- Kıvrılan hortumla bakıldığında mum ışığı görülmedi.
- Düz hortumla bakıldığında mum ışığı görüldü.



Yapılan deney sonuçlarına göre, hangi yorum doğru olur?

- A) Işık boşlukta yayılmaz.
 B) Işık doğrusal yolla yayılır.
 C) Işık sadece saydam ortamlardan geçer.
 D) Işığın nasıl yayıldığı onu görmek için kullandığımız malzemeye bağlıdır.
- 2) Şekildeki düzenekte görüldüğü gibi el fenerinin önüne konan saydam olmayan topun gölgesi beyaz perde üzerinde görülüyor.



Top, perdeye doğru ok yönünde hareket ettirilirse perdedeki gölgede nasıl bir değişim olur?

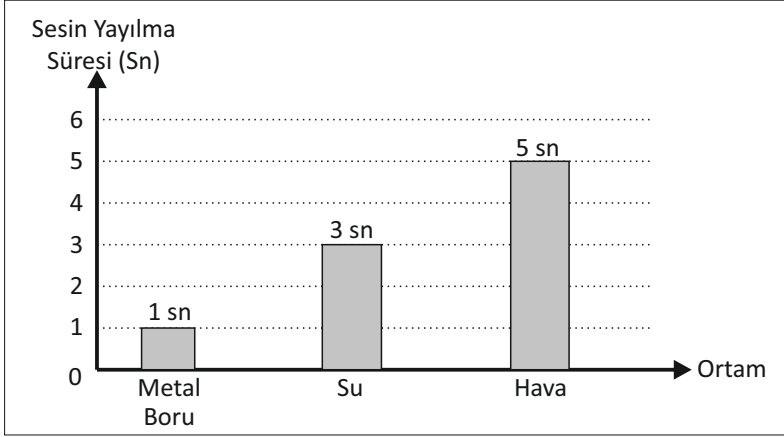
- A) Hiçbir değişiklik olmaz.
 B) Gölge kaybolur çünkü ışık topun arkasına geçer.
 C) Gölge büyür çünkü top perdeye yaklaşmıştır.
 D) Gölge küçülür çünkü top ışık kaynağından uzaklaşmıştır.
- 3) Bir televizyon kanalında şöyle bir haber okundu:

“Dünya’nın ülkemizin de içinde bulunduğu bir kısmında, bugün öğle saatlerinde kısa süreli bir karanlık yaşandı. Bilim insanları bu olayın Ay’ın, Dünya ile Güneş arasına girmesinden dolayı meydana geldiğini belirtiyorlar.

Haberde anlatılan olayla ilgili aşağıda verilenlerden hangisi yanlıştır?

- A) Bu olaya Güneş Tutulması denir.
 B) Bu olay gerçekleştiğinde Güneş, Ay ve Dünya aynı doğrultuda bulunur.
 C) Bu olay Güneş ışığının Ay’ın üzerinden yansımadır.
 D) Bu olayda, Ay’ın gölgesi Dünya’nın üzerine düşmüştür.


- 4) Aşağıdaki grafik sesin metal boruda, suda ve havadaki yayılma hızı ile ilgili yapılan bir deney sonucunda elde edilen verilerden oluşturulmuştur.



Grafikteki verilere göre sesin yayılma hızı ile ilgili hangisi söylenebilir?

- A) Ses tüm ortamlarda aynı hızla yayılır.
 B) Ses yalnızca gazlarda yayılır.
 C) Sesin yayılma hızı ortama göre değişir.
 D) Ses en hızlı boşlukta yayılır.
- 5) Bir okul müdürü, okulun yanındaki inşaatın gelen sesler nedeniyle derslerde dikkat dağınıklığı yaşandığını fark etmiş ve öğrencilerin gürültüden daha az etkilenmesi için sınıf pencerelerini değiştirme kararı almıştır.

Sınıf pencerelerinde hangi değişimi yapmak ses yalıtımı için en iyi çözüm olur?



- A) Çift camlı pencereler kullanmak.
 B) Daha ince cam kullanmak.
 C) Buzlu cam uygulamasına geçmek.
 D) Renkli camlar kullanmak.

- 6) Hayvanlar en genel sınıflandırmada omurgalı ve omurgasızlar olmak üzere iki gruba ayrılır. Omurgalıların vücudunda kemik veya kıkırdaktan oluşan bir iç iskelet bulunmaktadır. Vücudunda herhangi bir iskelet olmayan canlılara ise **omurgasızlar** denir. Omurgasızların karada veya suda yaşayan türleri bulunmaktadır.

Buna göre, yanda verilen canlılar incelendiğinde hangi seçenekteki bilgi doğru olur?

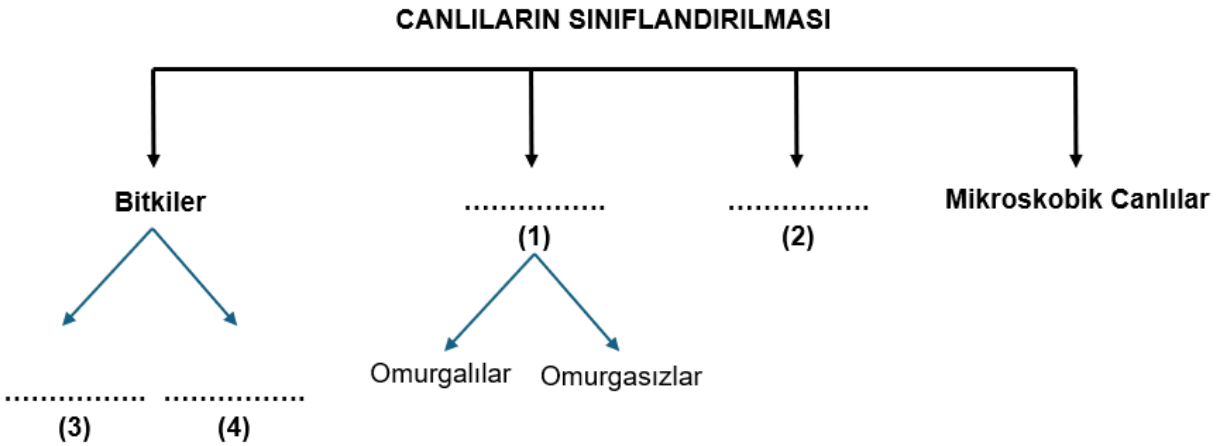
- Güvercin
- Balık
- Kelebek
- Kurbağa
- Yılan

- A) Hepsi omurgalıdır.
 B) Hepsi omurgasızdır.
 C) Kurbağa ve yılan omurgasız hayvanlar grubundadır.
 D) Kelebek hariç, geri kalanlar omurgalı hayvanlar grubundadır.

- 7) Bilim insanları, sadece mikroskopla görülebilecek kadar küçük olan canlılara mikroskobik canlılar adını vermiştir. **Mikroskobik canlıların yaşam ortamlarıyla ilgili verilen bilgilerden hangisi doğrudur?**

- A) Havada ve suda yaşayamaz, sadece toprakta yaşayabilirler.
 B) Havada yaşayamazlar, kirli sularda ve toprakta yaşayabilirler.
 C) Sadece canlıların vücudunda yaşarlar.
 D) Suda, havada, toprakta ve canlıların vücutlarında yaşayabilirler.

- 8) **Canlıların sınıflandırılmasını gösteren aşağıdaki diyagramda numaralandırılarak boş bırakılan yerlere yazılması gerekenler hangi seçenekte doğru olarak verilmiştir?**



- | (1) | (2) | (3) | (4) |
|---------------------|-------------------|-------------------|-------------------|
| A) Hayvanlar | Mantarlar | Çiçekli Bitkiler | Çiçeksiz Bitkiler |
| B) Çiçekli Bitkiler | Çiçeksiz Bitkiler | Hayvanlar | Mantarlar |
| C) Hayvanlar | Çiçekli Bitkiler | Çiçeksiz Bitkiler | Mantarlar |
| D) Çiçekli Bitkiler | Mantarlar | Hayvanlar | Çiçeksiz Bitkiler |

9) Aşağıdaki görselde de belirtildiği gibi insanların bilinçsizce çevreye attıkları plastik atıklar sonucunda:

- Sahillerdeki plastik atıkların miktarı artmış,
- Bazı balık türlerinin sayısı azalmış,
- Kıyılarda kötü kokular oluşmuştur.



Aşağıdakilerin hangisi bu sorunun çözümüne doğrudan katkı sağlar?

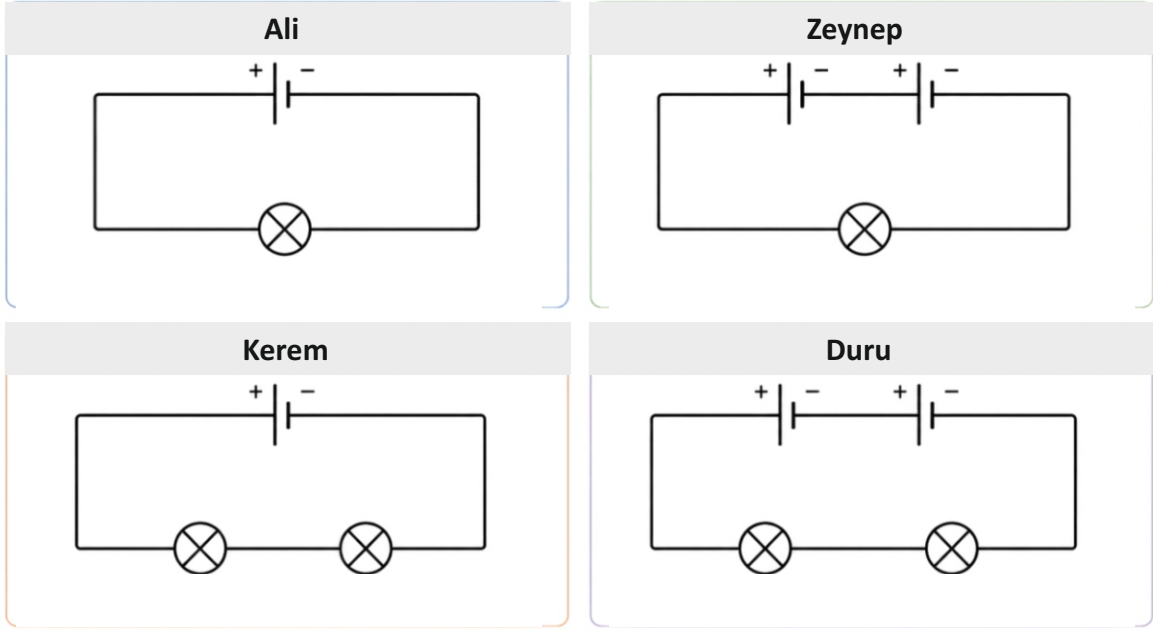
- Balıkların yaşam alanlarını küçültmek.
- Plastik kullanımını azaltmak, geri dönüşümü artırmak.
- Kıyılarda balık avlamayı teşvik etmek.
- Plastik atıkları kıyılardaki kum çukurlarına gömmek.

10) Ece, bahçesindeki badem ağacını incelerken; toprağın altında kökü, kalın bir gövdesi, yaprakları ve renkli çiçekleri olduğunu gözlemliyor. Bir süre sonra ağacın üzerinde bademler oluştuğunu fark ediyor.

Buna göre bu bitkiyle ilgili aşağıdakilerden hangisi doğrudur?

- Mantarlar sınıfındadır.
- Tohum oluşturamaz.
- Çiçekli bitkidir.
- Meyvesi yoktur.

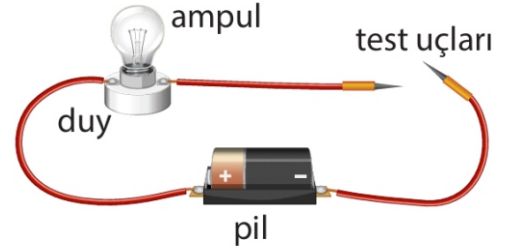
- 11) Ali, Zeynep, Kerem ve Duru birbiriyle tamamen aynı (özdeş) olan pil ve ampuller kullanarak aşağıdaki devreleri kurmuşlardır:



Buna göre en parlak ışık veren ampul, hangi öğrencinin kurduğu devrededir?

- A) Ali
 B) Zeynep
 C) Kerem
 D) Duru
- 12) Öğretmen bazı maddelerin iletken ya da yalıtkan olduğunu belirlemek için yapacağı deneyde yandaki devreden yararlanmıştır. Deneyde;

- Metal kaşık
- Plastik tarak
- Tahta çubuk
- Alüminyum folyo



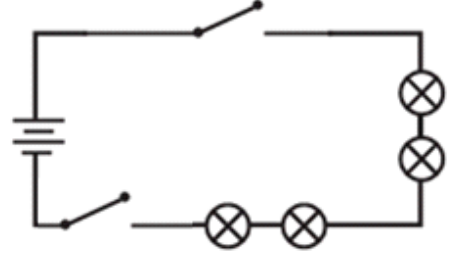
maddelerini tek tek devredeki test uçlarına temas ettirmiş ve ampulün ışık verip vermediğini gözlemlemiştir.

Buna göre hangi maddeler ampulün ışık vermesini sağlamıştır?

- A) Metal kaşık – alüminyum folyo
 B) Plastik tarak – metal kaşık
 C) Plastik tarak – alüminyum folyo
 D) Tahta çubuk – plastik tarak

13) Yanda şeması verilen elektrik devresinde, devre elemanlarının sayısı hangi seçenekte doğru olarak verilmiştir?

- A) 1 anahtar, 4 lamba, 1 pil
- B) 1 anahtar, 4 lamba, 4 pil
- C) 2 anahtar, 2 lamba, 2 pil
- D) 2 anahtar, 4 lamba, 2 pil



14) Burak, evde anne ve babasının elektrikle ilgili aşağıdaki davranışlarını gözlemlemiştir:

- I. Elektrikli aletleri ıslak ve nemli yerlerde kullanıyorlar.
- II. Kablosu yıpranmış elektrikli aletleri kullanmıyorlar.
- III. Elektrik prizlerine bazen başka cisimler sokuyorlar.
- IV. Elektrikli aletleri kullanma kılavuzlarındaki talimatlara uygun şekilde kullanmaya özen gösteriyorlar.

Bu davranışlardan hangileri elektrik güvenliği açısından doğrudur?

- A) I ve III
- B) II ve III
- C) II ve IV
- D) III ve IV

FEN VE TEKNOLOJİ TESTİ
BİTMİŞTİR.

- 1) Dünya üzerindeki büyük kara parçalarına (1) denir. Bu kara parçaları arasında bulunan çok büyük su kütlelerine ise (2) denir.

Yukarıdaki paragrafta numaralandırılarak boş bırakılan yerlere gelmesi gerekenler hangi seçenekte doğru olarak verilmiştir?

- | <u>(1)</u> | <u>(2)</u> |
|------------|------------|
| A) Ada | Göl |
| B) Ülke | Deniz |
| C) Ülke | Okyanus |
| D) Kıta | Okyanus |

- 2) Öğretmenleri Ayşe Hanım, 5. sınıf öğrencilerinden yaşadıkları çevreyi daha iyi tanımaları için bir etkinlik yapmalarını ister. Öğrencilerden Kerem, okulunun bulunduğu mahalleyi gösteren bir plan hazırlar. Planın ölçeği **1 : 500** olarak verilmiştir.

Kerem'in hazırladığı planda **okul ile park arasındaki uzaklık 6 cm** olarak ölçülmüştür.

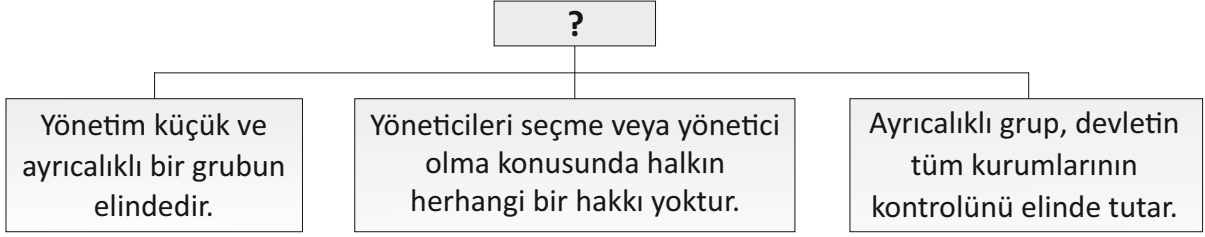
Buna göre okul ile park arasındaki gerçek uzaklık aşağıdakilerden hangisidir?

- A) 30 m
B) 60 m
C) 300 m
D) 3 000 m

- 3) **Kıbrıs'ın göreceli konumunu** anlatan cümle aşağıdakilerden hangisidir?

- A) Kıbrıs, Ekvator'un kuzeyinde yer alır.
B) Kıbrıs'ın üzerinden 33° ve 34° doğu meridyenleri geçer.
C) Kıbrıs, Doğu Akdeniz'de bulunan bir adadır.
D) Kıbrıs başlangıç meridyeninin doğusunda bulunur.

4)



Şemada “?” ile gösterilen yere aşağıdakilerden hangisi gelmelidir?

- A) Monarşi
- B) Oligarşi
- C) Demokrasi
- D) Federasyon

5)

- I. Yönetimde dini kurallar geçerlidir.
- II. Herkes eşit haklara sahiptir.
- III. Yönetimde daima ayrıcalıklı bir grup bulunur.
- IV. Halkın egemenliğine dayalı bir yönetimdir.
- V. Temsilciler, halktan aldığı yetkiyi belirli bir süre kullanırlar.

Yukarıda verilenlerden hangileri, yönetim şekli “demokrasi” olan bir ülkeye ait özelliklerdir?

- A) I ve II
- B) II, III ve IV
- C) II, IV ve V
- D) III, IV ve V

6) Tabloda KKTC ile ilgili bazı bilgiler numaralandırılarak verilmiştir. Verilen bilgiler doğru ise “D”, yanlış ise “Y” olarak işaretlendiğinde doğru sıralama hangisi olur?

Bilgi	D/Y
1- Cumhurbaşkanı 5 yıllık süre için halk tarafından seçilir.	
2- Cumhuriyet Meclisi, 50 milletvekilinden oluşur.	
3- Milletvekilleri halkın oylarıyla seçilir.	
4- KKTC'deki yönetim şekline monarşi denir.	

- A) 1 ⇒ D , 2 ⇒ Y , 3 ⇒ D , 4 ⇒ Y
- B) 1 ⇒ D , 2 ⇒ D , 3 ⇒ D , 4 ⇒ Y
- C) 1 ⇒ Y , 2 ⇒ D , 3 ⇒ Y , 4 ⇒ D
- D) 1 ⇒ Y , 2 ⇒ Y , 3 ⇒ D , 4 ⇒ D

7) Ülkemizdeki yerleşim yerlerinde, o bölgede yetişen ürünlere yönelik bir tesis kurulması planlanıyorsa, aşağıdaki tesislerden hangisinin kurulmasını önermek doğru olmaz?

- A) Yeşilirmak'ta Çilek Paketleme Fabrikası
- B) Güzelyurt'ta Narenciye Suyu Şişeleme Fabrikası
- C) Mehmetçik'te Üzüm Sıkma Tesisi
- D) Girne'de Kiraz Depolama Tesisi

8) Bir yerdeki ekonomik faaliyetleri o bölgenin coğrafi özellikleri belirler. Yer şekilleri, iklim, yer altı ve yer üstü zenginlikleri, ulaşım kolaylığı gibi özellikler o bölgedeki ekonomik faaliyetleri etkilemektedir.

Tablo 1

Coğrafi Özellikler
1- Verimli topraklar, uygun iklim koşulları ve sulama imkanlarının bulunduğu yerler
2- Nüfusu ve konut sayısı fazla olan, çeşitli ulaşım olanaklarının bulunduğu yerler.
3- Yaz mevsiminin uzun sürdüğü, kıyısı, doğal güzellikleri ve tarihi zenginlikleri olan yerler

Tablo 2

Ekonomik Faaliyetler
• Hayvancılık
• Tarım
• Madencilik
• Turizm
• Eğitim
• Sanayi

Buna göre tablo 1'de verilen coğrafi özelliklerin, tablo 2'de belirtilen hangi ekonomik faaliyetle eşleştirilmesi doğru olur?

- A) 1 ⇒ Tarım 2 ⇒ Eğitim 3 ⇒ Turizm
- B) 1 ⇒ Hayvancılık 2 ⇒ Madencilik 3 ⇒ Eğitim
- C) 1 ⇒ Tarım 2 ⇒ Madencilik 3 ⇒ Turizm
- D) 1 ⇒ Madencilik 2 ⇒ Sanayi 3 ⇒ Tarım

9) Seçeneklerden hangisi, "Turizm, ülkelerin ekonomisine ve kültürel ilişkilerine katkı sağlar." görüşünü desteklemez?

- A) Gelen turistlerin bıraktıkları döviz sayesinde ekonomi canlanır.
- B) Ülkeler arası kültürel ilişkilerin gelişmesine katkıda bulunur.
- C) Ortak miras eserlerin tanınmasına katkıda bulunur.
- D) Ülkeler arası siyasi ilişkilerin zayıflamasına yol açar.

- 10) Bir televizyon kanalında yayınlanan haber bülteninde şu bilgilere yer verilmiştir:

“Kuzey Kıbrıs'ta son yıllarda narenciye, üzüm ve zeytin üretimi artış göstermiştir. Ayrıca birçok bölgede seracılık faaliyetleri yaygınlaşmaktadır. Uzmanlar bu ürünlerin yetişmesinde Akdeniz ikliminin sağladığı uygun koşulların etkili olduğunu belirtmektedir.”



Habere göre bu tarım faaliyetlerinin yapılmasında en önemli etken aşağıdakilerden hangisidir?

- A) Yeryüzü şekilleri
- B) Ulaşım olanakları
- C) İklim koşulları
- D) Nüfus yoğunluğu

SOSYAL BİLGİLER TESTİ İLE BİRLİKTE
I. OTURUM BİTMİŞTİR.