



**KKTC
MİLLÎ EĞİTİM BAKANLIĞI**

**KOLEJLERE GİRİŞ SINAVI
(KGS-1)**

27 OCAK 2024 CUMARTESİ

2. OTURUM SORU KİTAPÇIĞI
İNGİLİZCE - MATEMATİK

Ad-Soyad:.....

Aday No :.....

ÖĞRENCİLERİN DİKKATİNE!

1. Bu soru kitapçığı **16 sayfadan** oluşmaktadır.
2. Bu kitapçık; **22** İngilizce ve **27** Matematik sorusu içermektedir.
3. Cevap kâğıdının üzerinde adınız, soyadınız ve aday numaranız bilgisayar tarafından yazılmış ve kodlanmıştır.
4. Cevap kâğıdı üzerindeki tüm işaretlemeleri kurşun kalemle yapınız.
5. Cevap kâğıdınızı buruşturmayınız ve üzerine gereksiz işaret koymayınız.
6. Her soru için dört farklı seçenek verilmiştir. Bu seçeneklerden sadece bir tanesi doğru yanıt olup diğerleri yanlıştır.
7. Soru kitapçığı üzerindeki boş yerleri işlem yapmak için kullanabilirsiniz.
8. Sınav sonuçlarına www.mebnet.net adresinden ulaşabilirsiniz.

**SALON BAŞKANI SINAVINIZ BAŞLAMIŞTIR UYARISINDA BULUNMADAN
SORU KİTAPÇIĞINI AÇMAYINIZ.**

CHOOSE THE CORRECT ANSWER 1-14.

1) My dad has a really cool sister and her son is my favourite _____ in the family.

- A) cousin
- B) uncle
- C) brother
- D) aunt

2) Luke is my brother. When we play, he always _____ my toys. I can't see them anywhere.

- A) finds
- B) hides
- C) plays
- D) saves

3) **Leo:** _____ we have pizza for dinner tonight, please?

Mum: Sure! What kind?

- A) Would
- B) Do
- C) Are
- D) Can

4) **Ellen:** What _____ Sue's mother do?

Tom: She's a chef and she works in a big hotel.

- A) is
- B) do
- C) does
- D) are

5) I always have jam _____ breakfast but I never eat it _____ night.

- A) in / for
- B) for / at
- C) with / in
- D) at / for

6) **Teacher:** "We are _____ to the zoo by bus. Everyone has to be ready at school at 8.15. Please don't be late."

- A) travelling
- B) visiting
- C) meeting
- D) leaving

7) **Sam:** Are you an artist?

Zoe: No, but Tom _____ and he can paint very well.

- A) can
- B) can't
- C) is
- D) isn't

8) Mark isn't feeling well today. He has a cough and a _____, so he has to stay in bed.

- A) bruise
- B) cut
- C) ill
- D) temperature

9) **Teacher:** This animal lives in water. It can swim and walk and has a lot of _____.

Student: It's a crocodile!

Teacher: That's right!

- A) teeth
- B) legs
- C) feet
- D) mouth

10) My brother works really hard _____ he is very tired.

- A) because
- B) but
- C) or
- D) so

11) **Matthew:** Do you have any pets?

Amy: Yes, I have a cat and it is really friendly.

Matthew: _____

Amy: Cool! What's its name?

- A) Oh, I see. I like cats.
- B) That sounds nice! I have a fish at home.
- C) Oh dear! Can it do tricks?
- D) Wow! Do you like animals?

12) **Andy:** _____?

Ross: No, I don't. My mum does it for me. I do the dishes.

- A) Do you always clean your room
- B) Does your mum do the dishes
- C) Do you like doing the dishes
- D) Does your mum do housework

13) **Read the text and fill in the blanks with the correct sentences.**

Susan: Alice, is it time to go to school?

Alice: _____

Susan: Do you always walk to school?

Alice: _____

Susan: When do you come home?

Alice: _____

Susan: Do you study at home?

Alice: _____

1. Oh, yes! I am late.
2. At ten to three.
3. Not every day. I sometimes go by bus.
4. Of course! In the afternoon.

- A) 1-3-4-2
- B) 4-1-2-3
- C) 1-3-2-4
- D) 4-1-3-2

14) Which sentence (A – D) completes the paragraph correctly?

Manuel is a waiter and he works in a restaurant. He wears a nice jacket and black shoes. When you go to a restaurant, he shows you a table to sit and he gives you a menu. He asks what you want to eat or drink and writes it down. _____ . When it is ready, Manuel takes the food to your table.



- A) He gives it to the chef and the chef makes the food
- B) He starts work in the afternoon
- C) He goes to the kitchen and he does the dishes
- D) He makes tea and coffee for the people in the restaurant

READ AND CHOOSE THE CORRECT ANSWER 15-18.



Watching TV or playing games on your telephone (0) help you to stay healthy. Exercise is a good way to keep fit. How (15) exercise? For example, you can walk or ride to school if it is not far from your home. Go swimming in the summer or try running (16) the park if you don't like basketball or football. Exercise gives you energy. Fruit and vegetables help you to get the vitamins you need and grow (17). Your body also needs calcium for healthy bones, so make sure to drink a glass of milk or eat cheese. Finally, sleep is very important for everyone, so make sure to get to bed at an early time (18) school days.

- 0) A) aren't B) don't **C) can't** D) haven't
- 15) A) do you often B) do often you C) often do you D) you do often
- 16) A) from B) with C) on D) in
- 17) A) clean B) clever C) strong D) strange
- 18) A) on B) in C) at D) to

READ AND CHOOSE THE CORRECT ANSWER 19-22.

WORKING HARD



Parents work very hard to earn money, take care of their houses and help their kids grow in a happy and healthy home all around the world. I am Meghan and I have a lovely family. My parents are called Thomas and Lizzy and they work hard, too.

We live in the south part of London and we have got a house with a garden. My father, Thomas, is a mechanic and he works in central London. He goes to work with his friend on the same bus. They have to wake up early because the bus leaves at ten to seven. He finishes his breakfast at half past six and walks to the bus stop. My mum doesn't wake up early. She is a part-time cashier at the supermarket and her work starts at twelve thirty. She works for five hours and finishes at five thirty.

My sisters and I come back from school at four. When we come home, I always take out the rubbish, walk our dog Tory and help my sisters with their homework. I am sixteen and my twin sisters are ten years old. I help both my sisters and my parents when I am at home. When my parents are at home, my father cooks and my mother does the dishes.

In my friends' houses, parents have to do different chores. For example, my friend does the dishes and his father cooks the dinner. His mother has to take care of his baby sister. So, families work together and they work hard. You can be a nurse, doctor, cashier or architect but when you are parents the first thing you have to do is to help your family grow happily.

19) What time does Thomas take the bus to work?

- A) 7:50
- B) 7:10
- C) 6:50
- D) 6:30

20) Lizzy _____.

- A) has a twin sister
- B) finishes work before six
- C) gets help at work
- D) wakes up at the same time with Thomas

21) Which one is **CORRECT (√)** about the text?

- A) Lizzy starts work early in the morning.
- B) Thomas eats his breakfast at work.
- C) Meghan's friend takes care of the baby.
- D) Lizzy and Thomas have got three daughters.

22) Meghan doesn't _____.

- A) take Tory out for a walk
- B) cook dinner for family
- C) help her sisters with homework
- D) take out the rubbish

İNGİLİZCE TESTİ BİTMİŞTİR

1) 627 032 altı basamaklı doğal sayısının onlar ve binler basamağındaki rakamlar kendi aralarında yer değiştirdiğinde elde edilecek sayının, ilk sayıya göre değişimi ne olur?

- A) 4960 artar
- B) 3960 artar
- C) 3960 azalır
- D) 4960 azalır

2)

Cebimdeki 3000 TL ile yandaki ürünlerden birer tane almak istiyorum.



Tarık



Seçeneklerde verilenlerden hangisi Tarık'ın yapmak istediği bu alışverişte karşılaşacağı durumla ilgilidir?

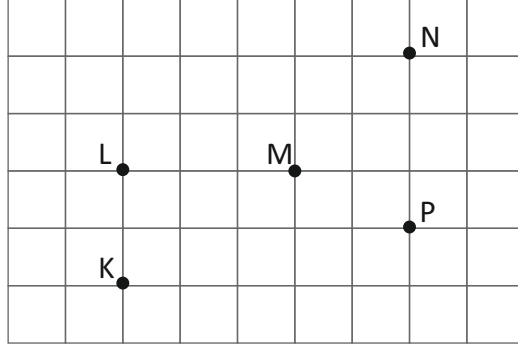
- A) 180 TL eksilecektir.
- B) 80 TL eksilecektir.
- C) Cebinde 20 TL kalacaktır.
- D) Cebinde 120 TL kalacaktır.

3) Nazım Bey, saat 15:00'te kalkacak uçağa yetişecektir. Yolcuların uçağın kalkış saatinden 2 saat önce havaalanında olması gerekmektedir.

Evi, havaalanına 1 saat 30 dakikalık mesafede olan Nazım Bey, en geç saat kaçta evinden çıkmalıdır?

- A) 12:30
- B) 11:30
- C) 11:00
- D) 10:30

- 4) Şekildeki kareli formda verilen K, L, M, N ve P noktalarından hangi üçü, köşe oluşturacak şekilde, doğru parçaları ile birleştirildiğinde **bir ikizkenar üçgen oluşur?**

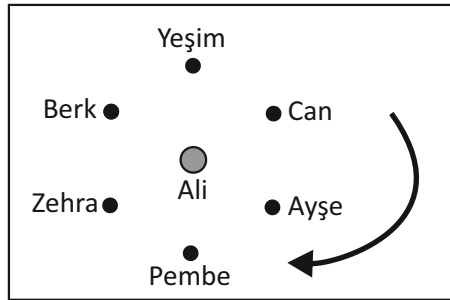


- A) K, L, M
 B) M, N, P
 C) L, M, N
 D) K, L, P
- 5) 142 metre uzunluğundaki bir ip, biri diğerinden 6 metre daha uzun olacak biçimde iki parçaya ayrılıyor.

Buna göre uzun olan ip parçası, kaç metredir?

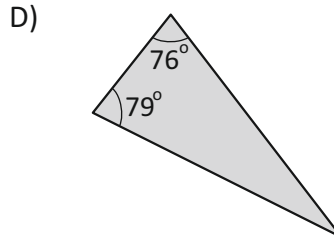
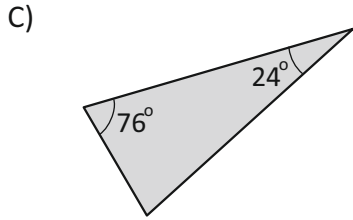
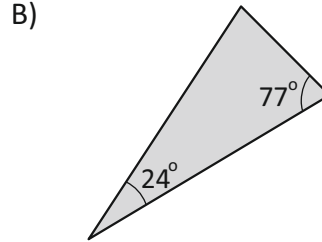
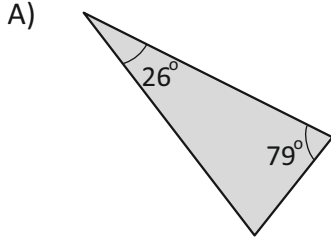
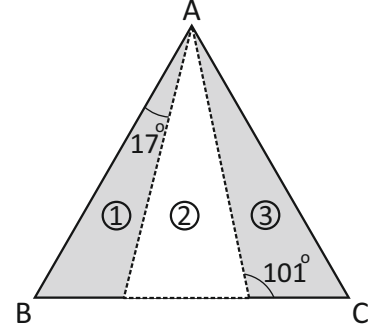
- A) 74 metre
 B) 72 metre
 C) 66 metre
 D) 64 metre
- 6) Ali, 219 adet bilyenin tamamını Can'dan başlayarak, görselde verilen ok yönündeki sıraya göre 6 arkadaşına dağıtacaktır.

Ali bilyeleri her seferinde birer birer dağıtacağına göre, en çok bilyeyi kimler alacaktır?



- A) Yeşim, Can
 B) Berk, Yeşim, Can
 C) Can, Ayşe, Pembe
 D) Ayşe, Pembe, Zehra

- 7) Yandaki ABC eşkenar üçgeni, üç tane üçgen parçaya ayrılmıştır. 1, 2 ve 3 diye numaralandırılan bu üçgen parçalardan 1 ve 3 numaralıların birer iç açı ölçüleri görsel üzerinde verildiğine göre, **2 numaralı parça seçeneklerde verilenlerden hangisidir?**



- 8) Emel, 164×45 işleminin sonucunu sayıları en yakın onluğa yuvarlayarak tahmin ediyor. **Buna göre, seçeneklerde verilen ifadelerden hangisi yanlıştır?**

- A) Tahmin edilen sonuç 8 000 dir.
 B) Gerçek sonuç ile tahmin edilen sonuç arasındaki fark 620 dir.
 C) Tahmin edilen sonuç, gerçek sonuçtan daha küçüktür.
 D) Gerçek sonuç ile tahmin edilen sonucun toplamı 15 380 dir.

- 9) Yandaki işlemlerde verilen ve sembolleri birer doğal sayıdır. İşlemlerdeki aynı sayıyı temsil ettiğine göre, $\triangle - (\square \times 4)$ işleminin sonucu kaçtır?

	$\times 12 = 600$
	$\div 5 = \square$

- A) 40
 B) 25
 C) 15
 D) 10

- 10) Aşağıda, birinci poşetteki fındık sayısı ikinci poşetteki fındık sayısından 20 fazladır. Üçüncü poşetteki fındık sayısı ise birinci ve ikinci poşetlerdeki fındık sayılarının toplamından 50 fındık daha fazladır.



1



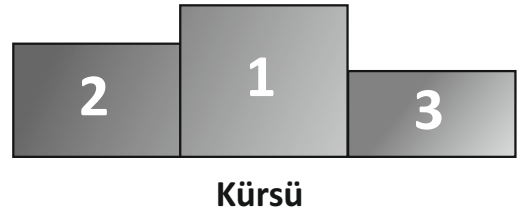
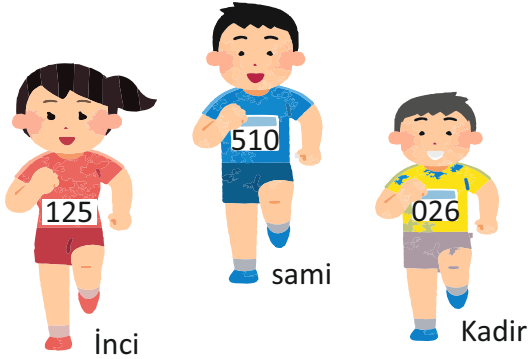
2



3

İkinci poşette 30 fındık olduğuna göre üçüncü poşette kaç fındık vardır?

- A) 130
B) 110
C) 90
D) 80
- 11) İnci, Sami ve Kadir, katıldıkları bir yarışmada dereceye girmişlerdir. Madalyalarını almak için kürsüye çıkan yarışmacıların göğüs numaraları soldan sağa doğru 9 basamaklı bir "tek doğal sayı" oluşturmaktadır.
Buna göre dereceye giren yarışmacılardan hangisi veya hangileri ikincilik kürsüsüne çıkmış olamaz?



- A) Sami ve Kadir
B) İnci ve Kadir
C) Yalnız Sami
D) Yalnız İnci
- 12) Bir çıkarma işleminde eksilen ile çıkanın farkı 132 eder. Eksilen 45 azaltılıp, çıkan 67 artırılırsa fark kaç olur?
- A) 5
B) 10
C) 15
D) 20

- 13) Merve Hanım, bankaya olan 7 800 TL borcunu ödemek için ilk olarak Mart ayında 1 800 TL ödeme yapıyor. **Daha sonra takip eden aylarda kesintisiz her ay 1 000 TL ödeme yapan Merve Hanım, bankaya olan borcunun son ödemesini hangi ay yapacaktır?**

- A) Temmuz
B) Ağustos
C) Eylül
D) Ekim

14)

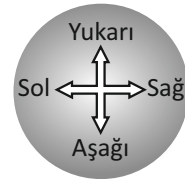
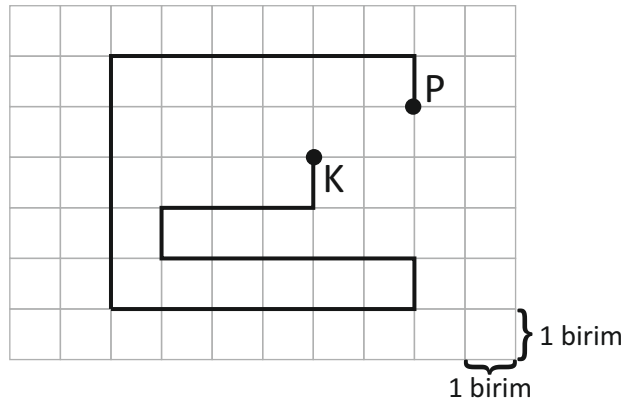


Salı günü 10:15'te başlayan gemi yolculuğumuz, çarşamba günü 09:30'da tamamlanmıştır.

Kaptanın vermiş olduğu bilgiye göre, gemi yolculuğu kaç saat sürmüştür?

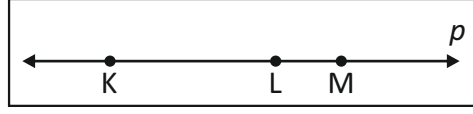
- A) 23 saat 15 dakika
B) 23 saat 45 dakika
C) 22 saat 15 dakika
D) 22 saat 45 dakika

- 15) Kareli formda bir kısmı çizilen **E** harfini tamamlamak için, seçeneklerde verilen tariflerden hangisini kullanmalıyız?



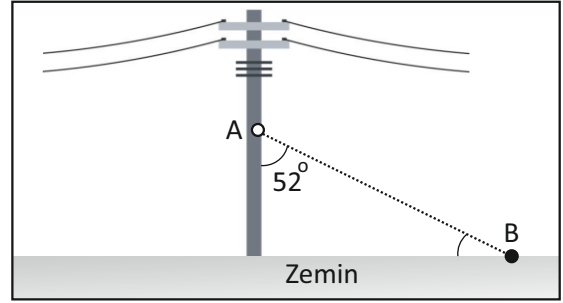
- A) K noktasından itibaren 2 birim sağa, 1 birim yukarıya
B) P noktasından itibaren 2 birim sola, 1 birim aşağıya
C) K noktasından itibaren 3 birim sola, 2 birim yukarıya, daha sonra 5 birim sağa
D) P noktasından itibaren 5 birim sola, 1 birim aşağıya, daha sonra 3 birim sağa

- 16) Seçeneklerde verilenlerden hangisi aşağıdaki doğrunun okunuşuna veya gösterimine ait değildir?

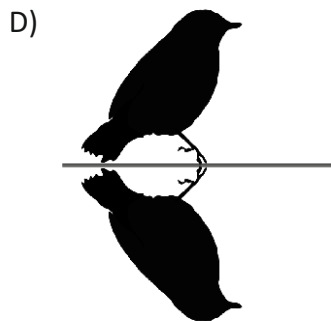
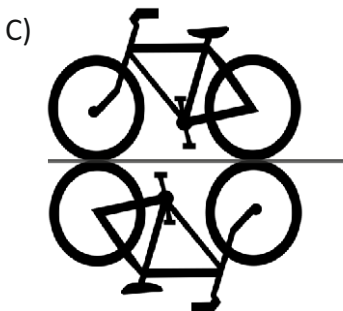
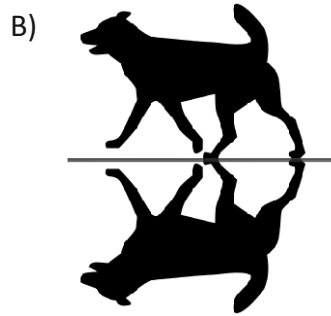
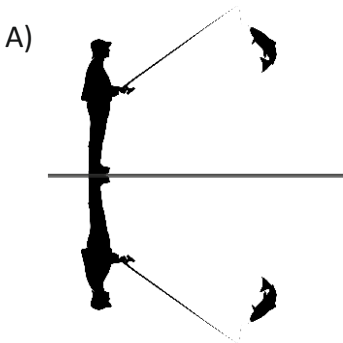


- A) KM doğrusu
 B) p doğrusu
 C) $[KL]$
 D) \overleftrightarrow{ML}
- 17) Zemine dik bir elektrik direğine topraklandırma amaçlı, direkteki A noktasından zemindeki B noktasına tel çekilecektir.

Çekilen tel ile elektrik direği arasındaki açı 52° olduğuna göre, telin zeminle yaptığı açı kaç derecedir?



- A) 32°
 B) 38°
 C) 42°
 D) 48°
- 18) Aşağıda, su tabakası üzerinde bulunan varlıklardan hangisinin sudaki yansıması yanlıştır?



19) Sema, 45 soruluk bir sınavda 27 soruya doğru cevap vermiştir. Bu sınavda doğru cevaplanan her soru için 6 puan verilmekte ve yanlış cevaplanan her soru için ise 3 puan geri alınmaktadır.


Tüm soruları cevaplayan Sema, bu sınavdan kaç puan almıştır?

- A) 108
- B) 106
- C) 104
- D) 102

20) Seçeneklerde verilen işlemlerden **hangisinin sonucu diğerlerinden farklıdır?**

- A) $(460 - 180) \div 7$
- B) $2 \times (400 \div 10)$
- C) $800 \div (2 + 18)$
- D) $300 - (20 \times 13)$

21)



Suat ve Damla'nın verdiği bilgilere göre, aşağıdakilerden hangisi **bu üçgenin diğer açı ölçülerinden biri olamaz**?

- A) 24°
- B) 32°
- C) 44°
- D) 52°

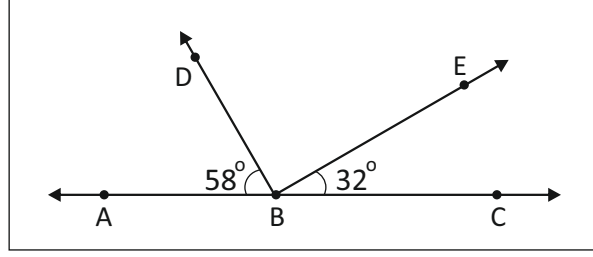
22) Şekilde AC bir doğrudur.

$$m(\widehat{ABD}) = 58^\circ$$

$$m(\widehat{EBC}) = 32^\circ$$

olduğuna göre,

$m(\widehat{ABE}) + m(\widehat{DBC})$ toplamı kaç derecedir?



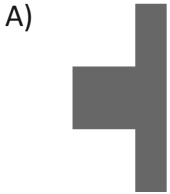

A) 270°

B) 240°

C) 200°

D) 180°

23) Seçeneklerde verilenlerden hangisi, kareli formdaki şeklin **simetri doğrularından biri boyunca kesilmesi halinde ortaya çıkacak parçalardan biri olamaz**?



24) 36 KL3 beş basamaklı doğal sayısının en yakın yüzlüğe yuvarlanmış biçimi 36 800'dür.

Buna göre, K + L toplamı **en çok** kaç olur?

A) 12

B) 14

C) 16

D) 18

25) Bir otoparkın ücreti ilk saat için 20 TL, sonraki her saat için ise 5 TL'dir. Ali Bey'in aracı otoparkta 6 saat kaldığına göre, kaç TL ödeyeceğini bulmak için aşağıdaki işlemlerden hangisi yapılmalıdır?

- A) $(20 + 5) \times 6$
- B) $20 + (5 \times 5)$
- C) $(20 \times 5) \times 5$
- D) $(20 \times 5) + 6$

26)

$$3 + 3 + 3 + 3 + \dots = 810$$

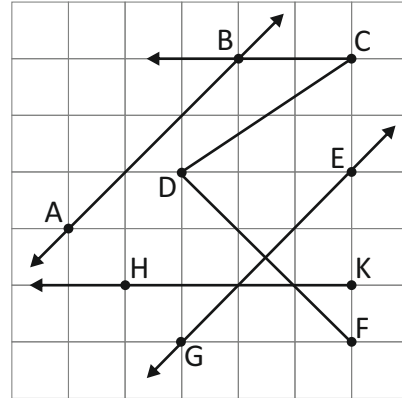
Yukarıda 3 rakamları ile yapılan toplama işleminin sonucu 810'dur.

Buna göre, noktalı yere kaç tane daha 3 toplananı yazılmalıdır?

- A) 266
- B) 268
- C) 270
- D) 272

27) Yandaki kareli formda verilenlere göre seçeneklerden hangisi yanlıştır?

- A) $\overrightarrow{AB} \parallel \overrightarrow{EG}$
- B) $[DF] \perp \overrightarrow{EG}$
- C) $[CB] \parallel [KH]$
- D) $|DC| = |DF|$



MATEMATİK TESTİ İLE BİRLİKTE
2. OTURUM BİTMİŞTİR