



**KKTC
MİLLÎ EĞİTİM ve KÜLTÜR BAKANLIĞI**

**KOLEJLERE GİRİŞ SINAVI-1
(KGS-1)**

25 OCAK 2020 CUMARTESİ

**1. OTURUM SORU KİTAPÇIĞI
TÜRKÇE - FEN VE TEKNOLOJİ - SOSYAL BİLGİLER**

Adı Soyadı:.....

Aday No :.....

ÖĞRENCİLERİN DİKKATİNE!

1. Bu soru kitapçığı **20 sayfadan** oluşmaktadır.
2. Bu kitapçık; **27** Türkçe, **14** Fen ve Teknoloji ve **10** Sosyal Bilgiler sorusu içermektedir.
3. Cevap kâğıdının üzerinde adınız, soyadınız ve aday numaranız bilgisayar tarafından yazılmış ve kodlanmıştır.
4. Cevap kâğıdı üzerindeki tüm işaretlemeleri kurşun kalemle yapınız.
5. Cevap kâğıdınızı buruşturmayınız ve üzerine gereksiz işaret koymayınız.
6. Her soru için dört farklı seçenek verilmiştir. Bu seçeneklerden sadece bir tanesi doğru yanıt olup diğerleri yanlıştır.
7. Soru kitapçığı üzerindeki boş yerleri işlem yapmak için kullanabilirsiniz.
8. Sınav sonuçlarına www.mebnet.net adresinden ulaşabilirsiniz.

**SALON BAŞKANI SINAVINIZ BAŞLAMIŞTIR UYARISINDA BULUNMADAN
SORU KİTAPÇIĞINI AÇMAYINIZ.**

Soru 1. “Bu gül__ pencere__ görünen bir yer__ dikmelisin.” cümlesinin anlamlı olabilmesi için boş yerlere sırasıyla hangi hal ekleri gelmelidir?

- A) -i hali, -den hali, -e hali
- B) -e hali, -de hali, -de hali
- C) -den hali, -de hali , -i hali
- D) -de hali, -i hali, -e hali

Soru 2.

Çocuğu Dinlemenin Faydaları

The illustration shows a boy with brown hair, wearing a blue and white striped shirt and brown pants, standing with his arms raised. He is surrounded by several thought bubbles, each containing a benefit of listening to children. The bubbles are connected to the boy by small circles, suggesting a flow of thoughts or benefits.

- Zamanla kendimi daha iyi ifade etmeyi öğrenirim.
- Olumsuz davranışlarım azalır.
- Kelime hazinem gelişir ve dil gelişimim hızlanır.
- Karşımdakini dinlemeyi ve ona saygı duymayı öğrenirim.
- Konuştukça olumsuz duygularım hafifler ve rahatlarım.
- Özgüvenim artar.
- Duygularımı konuşarak ifade edebildiğim için saldırganlık yapmam ve daha az ağlarım.

Yukarıda verilen bilgilere göre seçeneklerden hangisi çocuğu dinlemenin faydaları arasında yer almaz?

- A) Çocuğun kelime hazinesi gelişir, kendini daha iyi ifade etmeye başlar.
- B) Çocuk, kendine güven duymaya başlar.
- C) Ağlamak veya bağırarak yerine duygularını daha çok konuşarak anlatır.
- D) Çocuk, rahatladığı için hep kendi konuşmak ister.

Soru 3.

OYUNCAKÇI AMCA

Oyuncakçı amca,
 Ne çok oyuncakların var;
 Top, tank, tüfek, tabanca...
 Gövdem titriyor,
 Onlara bakınca!
 N'olursun oyuncakçı amca,
 Bundan böyle bizlere,
 Oyuncak tüfekler yerine,
 Ak yelkenli bir gemi,
 Bir de süslü bebekler getir,
 Unutma emi?
 Sonra oyuncakçı amca,
 Senden aldığım tüfekleri,
 Bozarak onlardan kuş yaptım,
 Bana kızmazsın değil mi?

Abdülkadir BULUT

Aşağıdakilerden hangisi çocuğun Oyuncakçı Amca'dan istediklerinden biri değildir?

- A) Çocuklara daha az oyuncak getirmesini istiyor.
- B) Çocuklara süslü bebekler getirmesini istiyor.
- C) Çocuklara beyaz yelkenli gemi getirmesini istiyor.
- D) Çocuklara oyuncak tüfekler getirmemesini istiyor.

Soru 4. ELA ile NAZ aralarında mesajlaşabilmek için aşağıdaki tabloda sütun üstlerindeki harfler ile satır başlarındaki rakamların çakışması ile bir yazı dili oluşturmuşlar. Önce ELA, C1 B4 D1 şeklinde kendi adını yazmış; ardından NAZ adını, soyadını, en sevdiği meyveyi ve nerede yaşadığını yazmış.

	A	B	C	D
1	O	Ö	E	A
2	Ü	U	İ	I
3	B	C	D	F
4	K	L	M	N
5	T	S	Ç	P
6	V	Z	R	Y
7	J	H	Ğ	G

Tabloya göre Naz'ın en sevdiği meyvenin yazılışı aşağıdakilerden hangisidir?

- A) D4 D1 B6
- B) A3 D1 B4
- C) C1 C6 C2 A4
- D) D7 C2 C6 D4 C1

Soru 5.

- () "Babasından para sızdırıyordu." cümlesinde sızdırmak kelimesi gerçek anlamda kullanılmıştır.
- () "Alfabemizde 29 harf vardır." cümlesinde harf kelimesi terim anlamda kullanılmıştır.
- () "Sıcak çorbadan ağzı yandı." cümlesinde sıcak kelimesi gerçek anlamda kullanılmıştır.
- () "Yalanlarıyla herkesi uyuttu." cümlesinde uyuttu kelimesi mecaz anlamda kullanılmıştır.

Yukarıdaki cümlelerin başına, cümlede verilen bilgi doğru ise (D) yanlış ise (Y) yazıldığında oluşacak sıralama aşağıdakilerden hangisidir?

- A) (D)
(D)
(D)
(D)
- B) (Y)
(Y)
(D)
(D)
- C) (Y)
(D)
(Y)
(D)
- D) (Y)
(D)
(D)
(D)

Soru 6. Aşağıdaki cümlelerin hangisinde amaç doğru verilmiştir?

<u>CÜMLE</u>	<u>AMAÇ</u>
A) Annesini mutlu etmek istediği için yemeğini bitiriyordu.	Yemeğini bitirmek
B) Bir hafta izin aldı tatile gitmek için.	Tatile gitmek
C) Filmi izlemek için heyecanla televizyonu açtı.	Televizyonu açmak
D) Söylenenleri duymamak için kulaklarını tıkadı.	Kulaklarını tıkamak

Soru 7.

Kırmızı çiçekleri ve grimsi yeşil yapraklarıyla o kadar güzeldirler ki koparıp vazoya koymak için içimiz gider. Hatta bahçemizde yetiştirmenin bir yolu yok mu diye düşünürüz. Soğanlarını söküp evimize götürsek? Hayır hayır, zarar vermek için değil çoğaltmak için. Niyetimiz iyi, hepimiz onu çok seviyoruz ama ... Evet aması var. Medoş Lalesi'nin çiçeğinden dökülen tohumla çoğaldığını, kopardığımız her lalenin o çok sevdiğimiz güzelliğin sonunu hazırladığını biliyor muydunuz? KKTC Çevre Koruma Dairesi 1998 yılında Medoş Lalesi'ni koruma altına aldı. Yasanın da etkisiyle onlara verilen zarar gün geçtikçe azalıyor, insanlar gün geçtikçe daha fazla bilinçleniyor. Eminiz ki bu güzel Kıbrıs Lalesi, öz vatanında daha yıllarca yaşayacak. Bunun için en çok çocuklarımıza güveniyoruz. Neden mi? Çünkü onlar, sevgi ile korumanın sevgi için koparmaktan çok daha güzel olduğunu öğrenerek büyüyorlar.

Bu paragrafa verilebilecek en uygun başlık aşağıdakilerden hangisidir?

- A) Vazom Boş Kaldı
- B) Cezası Var
- C) Sevgiyle Koruyalım
- D) Sevgi İçin Koparmak

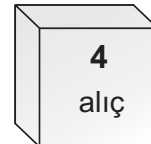
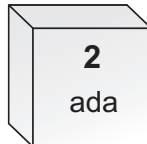
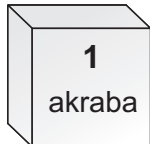
Soru 8.

Başarmak istiyorsan; kendine, bilgi edinme gücüne ve yapabileceğine güvenmelisin. Kendine inanan ve güvenen kişi durum ne olursa olsun çalışır ve başarır. Oysa kendine güven duygusu olmayan bir kişi....

Bu paragraf, düşüncenin akışına göre aşağıdakilerden hangisiyle tamamlanmalıdır?

- A) sürekli şikayet eder.
- B) kendisi hakkında olumlu düşünür.
- C) zorluklarla başa çıkabilir.
- D) kendine değer verir.

Soru 9. Kutulardaki sözcükler, sözlük sırasına göre sıralandığında baştan üçüncü sözcük hangisi olur?



- A) ada
- B) alıç
- C) akşam
- D) akraba

Soru 10.

Anneciğim

Ninni söyleme anneciğim
Sesini dinlemek için
Uyumuyorum
Masal anlatma anneciğim
Kaf Dağı'nı düşününce
Yoruluyorum
Elimi tut ben yatınca
Sıcaklığını duyunca
Büyüyorum

Sennur SEZE

Şiirde aşağıdakilerden hangisinin örneği yoktur?

- A) Sertleşme
- B) Kaynaştırma
- C) Yumuşama
- D) Ulama

Soru 11. Aşağıdaki cümlelerden hangisinde Büyük Ünlü Uyumu Kuralı'nı bozabilecek eklerden birini almış sözcük vardır?

- A) Elmanın ekşimsi bir tadı vardı.
- B) Paketi hızla elinden bıraktı.
- C) Akşamki maç berabere bitti.
- D) Zeytinyağı çok faydalıdır.

Soru 12. Aşağıda verilen cümleler, anlamlı bir konuşma metni oluşturacak şekilde sıralanırsa bu sıralama nasıl olur?

- I. Okumayı daha fazla severim.
- II. Şiir sever misin?
- III. Her ikisini de.
- IV. Okumayı mı, yazmayı mı?
- V. Çok severim.
- VI. Daha fazla hangisini seversin?

- A) II – I – IV – III – V – VI
- B) II – I – IV – VI – III – V
- C) II – V – IV – III – VI – I
- D) II – V – IV – I – VI – III

Soru 13.

Dr. Fazıl Küçük, ilköğrenimini Lefkoşa'da yaptı. Ortaöğrenimini İstanbul'da tamamladıktan sonra İsviçre'ye giderek Lozan Üniversitesinde tıp öğrenimini tamamladı. 1937 yılı Mayıs ayında Ada'ya dönerek Lefkoşa'da serbest hekim olarak çalışmaya başladı. Cuma günleri Girne Caddesi'nde şimdi müze olarak kullanılan kliniğinde, halkı ücretsiz olarak muayene eder, yoksullara ücretsiz ilaç verirdi. Dr. Fazıl Küçük, Kıbrıs Türk halkının sorunlarına karşı derin bir ilgi göstermekte ve işinden arta kalan vaktini buna harcamaktaydı.

Metinde aşağıdaki sözcüklerden hangisinin eş anlamlısı yoktur?

- A) Doktor
- B) Talebe
- C) Sene
- D) Zaman

Soru 14. Aşağıdakilerden hangisinde “**derin**” sözcüğü “Dr. Fazıl Küçük, Kıbrıs Türk halkının sorunlarına karşı derin bir ilgi göstermekteydi.” cümlesindeki anlamı ile kullanılmıştır?

- A) Deniz o kadar derindi ki girmeye korktum.
- B) Okuduğu kitap onu derinden etkilemişti.
- C) Bahçede derin bir kuyu var.
- D) Yoldaki derin çukurlar kazaya neden olabilir.

Soru 15. Aşağıdaki altı çizili isimlerden hangisi “-ler, -lar” eki almasına rağmen çoğul anlamı taşımaz?

- A) Portakalları soyup güzelce dilimledim.
- B) Sokak hayvanlarına yardım etmeliyiz.
- C) Babam çocuklarla oynamayı çok sever.
- D) Denizler kadar gözyaşı döküm.

Soru 16. “Karşıdan karşıya geçerken yaya geçitlerini kullanmalıyız.” cümlesinde geçen isim tamlamasının çeşidi nedir?

- A) Belirtili isim tamlaması
- B) Takısız isim tamlaması
- C) Belirtisiz isim tamlaması
- D) Zincirleme isim tamlaması

Soru 17.

Tek güneş var evrende,
Tek ay ısıtır bizi,
Soluduğumuz hava aynı,
Ne var ayıran bizi?

. . .

Dostlukla yaşayalım,
Dünyanın her yerinde
Barışı yeşertelim,
İnsanların kalbinde!

Edibe AYDIN

Şiir, bizlere hangi dersi vermeyi amaçlamıştır?

- A) Evrende tek bir güneş vardır.
- B) İnsanlar aynı havayı solumaktadır.
- C) Dünya'yı ısıtan tek bir ay vardır.
- D) İnsanlar dostluk içinde yaşamalıdır.

Soru 18. Atalarımız “.....” diyerek dayanışmanın, birbirine destek vermenin önemini vurgulamıştır. **İfadesinde boş bırakılan yere, aşağıdaki atasözlerinden hangisinin getirilmesi uygundur?**

- A) Bir elin nesi var iki elin sesi var.
- B) Ayağını yorganına göre uzat.
- C) İyilik yap denize at.
- D) Gülü seven dikenine katlanır.

Soru 19. **Aşağıdaki cümlelerin hangisinde özel isimlere gelen eklerin yazımında bir yanlışlık yapılmıştır?**

- A) Kuzey Kıbrıs'ın başkenti Lefkoşa'dır.
- B) İnek Şabanı çok severdim.
- C) Ali, Türk Maarif Kolejinde okuyordu.
- D) Ramazan Bayramı'nın ilk günüydü.

Soru 20. Aşağıdaki cümlelerde altı çizili isimlerden hangisi varlıklara verilmesine göre diğerlerinden farklıdır?

- A) Şeker, sepetinde kıvrılmış yatıyordu.
- B) Kaya yığınlarının arasından sürünerek geçti.
- C) Evime gönderilen gül, yüzümü güldürdü.
- D) Nehre düşen küçük yaprak, akıntıyla sürükleniyordu.

(21 ve 22. soruları aşağıdaki metne göre yanıtlayınız.)

Dünyanın ilk çocuk hakları mitingi 1930 yılında İstanbul'daki Taksim Meydanı'nda yapıldı. Bu mitingde çocuklar yalnız başına uyumak, çalışmamak, okumak, azarlanmamak gibi haklarının olduğunu ve herkesin bu haklara saygı göstermesi gerektiğini dünyaya duyurdu. Birleşmiş Milletler Çocuk Hakları Sözleşmesi ise bu tarihten tam 59 yıl sonra yani 1989'da kabul edildi.

Soru 21. Metne göre aşağıdakilerden hangisi çocukların haklarından biri değildir?

- A) Azarlanmamak
- B) Okula gitmek, öğrenim görmek
- C) Çalışmak
- D) Yatağında tek başına uyumak

Soru 22. Metinde aşağıdaki sorulardan hangisinin cevabı yoktur?

- A) İstanbul Taksim Meydanı'nda yapılan ilk miting hangisidir?
- B) Dünyanın ilk çocuk hakları mitingi ne zaman yapılmıştır?
- C) Mitingde çocuklar, hangi haklarını duyurmuştur?
- D) Çocuk Hakları Sözleşmesi hangi yıl kabul edilmiştir?

Soru 23. “Kitapçıya bugün gitmeyelim.” cümlesinde geçen altı çizili sözcük için aşağıdakilerden hangisi söylenebilir?

- A) Büyük Ünlü Uyumu Kuralı'na uyar.
- B) Benzeşme vardır.
- C) Beş heceden oluşmaktadır.
- D) Topluluk ismidir.

Soru 24. “Altın kolyeyi vitrinden alıp bana verdi.” cümlesinde altı çizili tamlama için aşağıdakilerden hangisi yanlıştır?

- A) Takısız isim tamlamasıdır.
- B) İkinci sözcük hal eki almıştır.
- C) İki isim de somuttur.
- D) İkinci sözcük tamlama eki almıştır.

Soru 25. Yandaki panoda yer alan sözcüklerden hangisi Türkçenin ses özelliklerine uyar?

- A) Kurt
- B) Kral
- C) Salon
- D) Şiir



Soru 26. Aşağıdaki seçeneklerden hangisinde sözcüklerin tümü sesli harfle başlayan bir ek aldıklarında hece düşmesine uğrar?

- A) omuz, esir, çayır, kesir
- B) nutuk, çay, kalem, alın
- C) ağız, bacak, akıl, göğüs
- D) karın, beyin, oğul, şehir

Soru 27. Aşağıdakilerden hangisi kelimeler arasındaki anlam ilişkisi bakımından diğerlerinden farklıdır?

- A) Fakir - Zengin
- B) Hayat - Yaşam
- C) Geniş - Dar
- D) Geri - İleri

**TÜRKÇE TESTİNİZ BİTMİŞTİR.
YANITLARINIZI KONTROL EDEREK FEN VE TEKNOLOJİ TESTİNE GEÇİNİZ.**

Soru 1. Tablolarda verilen besin içeriklerinin isimleri ve tanımlarının doğru eşleştirilmesi hangi seçenekte verilmiştir?

**Besin İçeriklerinin
İsimleri**

- I. Vitaminler
- II. Proteinler
- III. Karbonhidratlar

Besin İçeriklerinin Tanımları

- A. Yapıcı ve onarıcı besin grubudur. Kas ve kemiklerin yapısına girerek yapım görevi, yaraları iyileştirerek onarım görevi yapar.
- B. Vücudumuz için gerekli enerjiyi sağlar.
- C. Düzenleyicilik görevini üstlenir. Vücudun direncini artırır, hastalıklardan korur.

- A) I → A , II → B , III → C
- B) I → C , II → A , III → B
- C) I → B , II → A , III → C
- D) I → C , II → B , III → A

Soru 2. Doktor, Ece'ye vitamin eksikliği nedeniyle diş ve kemik gelişiminin yeterli düzeyde olmadığını bunun için de balık, yumurta, süt ve süt ürünleri tüketmesi gerektiğini söyledi.

Yukarıdaki bilgilere göre Ece'de eksikliği bulunan vitamin hangisidir?

- A) A vitamini
- B) B vitamini
- C) C vitamini
- D) D vitamini

Soru 3.

Düzensiz ve aşırı beslenme, egzersiz eksikliği, hareketsiz yaşam gibi birçok nedenden dolayı aşırı kilo alımı ve vücudumuzdaki yağ miktarının aşırı şekilde artması sonucunda oluşan hastalığa I denir. Bu nedenle sağlıklı büyüme ve gelişme için besinlerin ihtiyaç duyulduğu kadar alınması önemlidir. Buna II denir.

Yukarıda beslenmemizle ilgili verilen paragrafta boş yerlere yazılması gerekenler hangi seçenekte doğru olarak verilmiştir?

- | | |
|-------------|--------------------|
| <u>I</u> | <u>II</u> |
| A) Obezite | günlük beslenme |
| B) Nezle | kontrollü beslenme |
| C) Obezite | dengeli beslenme |
| D) Yağlanma | planlı beslenme |

Soru 4. Besinlerin vücudumuzda izlediği yol dikkate alındığında, sindirim sistemini oluşturan yapı ve organların isimleri hangi seçenekte **doğru sırada** verilmiştir?

- A) Ağız \Rightarrow Yemek borusu \Rightarrow Yutak \Rightarrow Mide \Rightarrow İnce bağırsak \Rightarrow Kalın bağırsak
 B) Yutak \Rightarrow Ağız \Rightarrow Yemek borusu \Rightarrow Mide \Rightarrow Kalın bağırsak \Rightarrow İnce bağırsak
 C) Ağız \Rightarrow Yutak \Rightarrow Yemek borusu \Rightarrow Mide \Rightarrow İnce bağırsak \Rightarrow Kalın bağırsak
 D) Yutak \Rightarrow Yemek borusu \Rightarrow Ağız \Rightarrow Mide \Rightarrow Kalın bağırsak \Rightarrow İnce bağırsak

Soru 5. Sindirim sistemi ile ilgili olarak aşağıda verilenlerden hangileri ince bağırsak tarafından gerçekleştirilir?

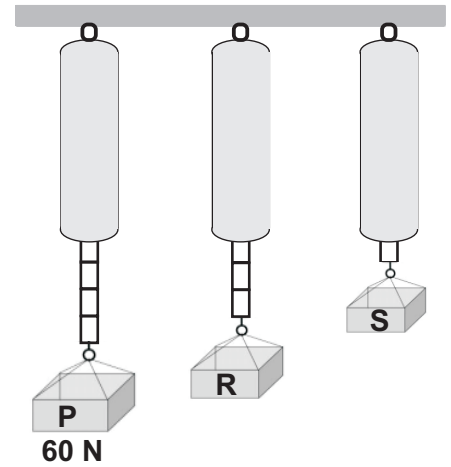
- I. Besinler küçük parçalara bölünür.
 II. Besinlerdeki yararlı maddeler emilerek kana karışır.
 III. Besinlerden geriye kalan atık maddeler kalın bağırsağa gönderilir.
 IV. Besinlerin mideye iletilmesi sağlanır.

- A) I. – II.
 B) II. – III.
 C) II. – IV.
 D) III. – IV.

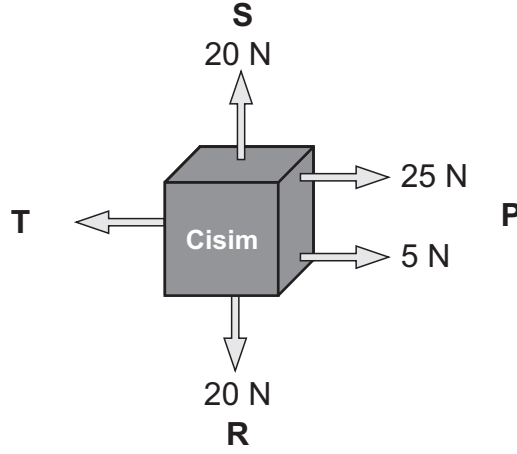
Soru 6. Yandaki dinamometrelerin ölçüm hassasiyetleri aynıdır.

Buna göre P cisimi 60 N olarak ölçüldüğüne göre R ve S cisimleri kaç Newton'dur?

- A) R = 45 S = 15
 B) R = 30 S = 15
 C) R = 30 S = 5
 D) R = 15 S = 5



Soru 7. Aşağıda, bir cisim üzerine etki eden kuvvetler gösterilmektedir. Buna göre **cismin hareket etmemesi için** hangi yöne doğru kaç Newton'luk **ilave bir kuvvet daha** uygulanması gerekmektedir?

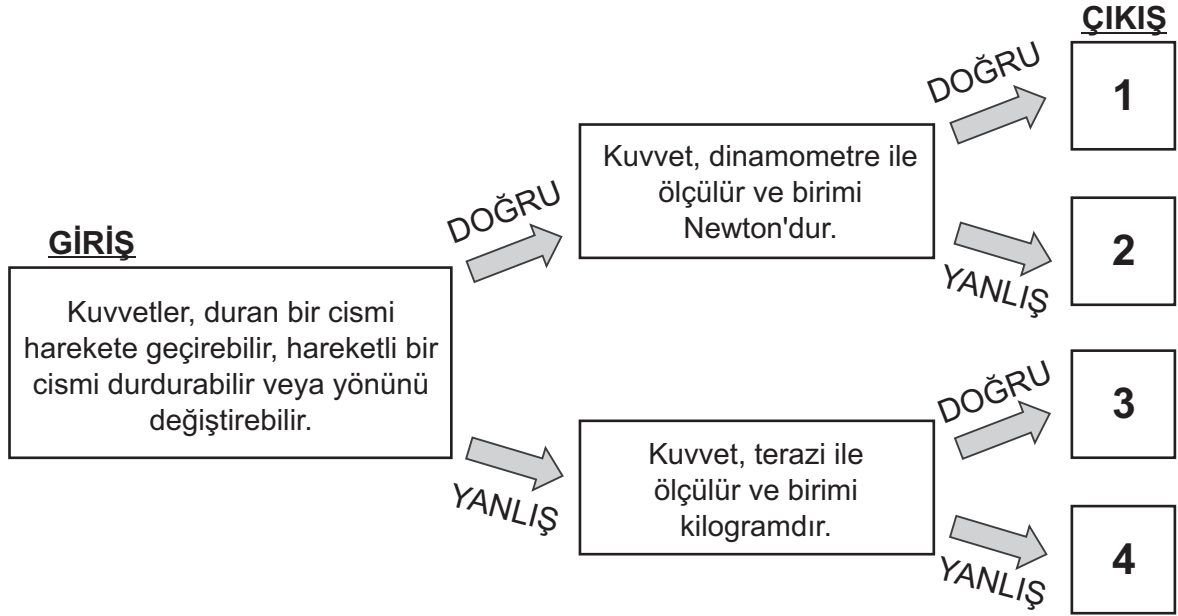


- A) S yönüne 5 N kuvvet
- B) P yönüne 5 N kuvvet
- C) R yönüne 30 N kuvvet
- D) T yönüne 30 N kuvvet

Soru 8. **Sürtünme kuvveti** ile ilgili olarak aşağıda verilenlerden hangisi **yanlıştır**?

- A) Daima hareketin zıt yönüne doğrudur.
- B) Yüzeyin cinsine bağlı olarak değişir.
- C) Hareket eden cisimleri yavaşlatır ve durdurur.
- D) Pürüzlü yüzeylerde daha az, kaygan yüzeylerde daha çoktur.

Soru 9. Aşağıdaki şemada çerçeveler içerisinde bilgiler verilmiştir. **Giriş** çerçevesinden başlayarak, verilen bilgilerin “**doğru**” veya “**yanlış**” olmasına göre, okları izlediğimiz zaman kaç numaralı **çıkışa** ulaşırız?



- A) 1
B) 2
C) 3
D) 4

Soru 10. Maddelerin hal değişimini incelemek için aşağıdaki olaylar gözlemleniyor:

Gözlem 1: Bardakta duran buzun, bir süre sonra suya dönüştüğü gözlemleniyor.

Gözlem 2: Tencerede pişmekte olan yemekten çıkan su buharının tencere kapağında su damlacıklarına dönüştüğü gözlemleniyor.

Gözlem 3: Cezvede kaynamakta olan suyun bir süre sonra tamamen buharlaştığı gözlemleniyor.

Bu gözlemlerde belirtilen olayların ısı alıp – verme durumları hangi seçenekte doğru olarak verilmiştir?

<u>Gözlem 1</u>	<u>Gözlem 2</u>	<u>Gözlem 3</u>
A) Isı veren	Isı alan	Isı veren
B) Isı alan	Isı veren	Isı veren
C) Isı alan	Isı veren	Isı alan
D) Isı veren	Isı veren	Isı alan

Soru 11. Aşağıdaki tabloda Dünyamızdaki ağırlığı **160 Newton** olarak ölçülen **bir cismin**, **farklı ortamlara** göre durumunu anlatan bilgiler verilmiştir. Tabloda boş bırakılan yere, bu bilgilerin **doğru olanları için "D"**, **yanlış olanları için "Y"** yazılırsa tablonun görünümü hangi seçenekteki gibi olur?

		D/Y
1	Yerçekimi kuvveti, Dünya'nın yerçekimi kuvvetinden daha küçük olan bir gezegende ağırlığı 160 Newton'dan küçük olur.	
2	Yerçekimi kuvvetinin bulunmadığı uzayda ağırlığı olmaz.	
3	Yerçekimi kuvveti, Dünya'nın yerçekimi kuvvetinden iki kat büyük olan bir gezegende ağırlığı 80 Newton olur.	

A)

1	D
2	D
3	Y

B)

1	D
2	Y
3	Y

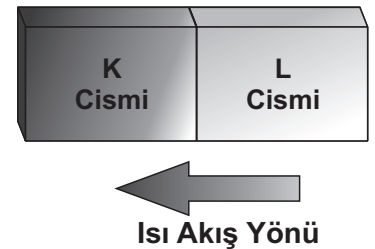
C)

1	Y
2	D
3	Y

D)

1	Y
2	D
3	D

Soru 12. Yandaki şekilde birbirine temas eden **K** ve **L** metal cisimleri arasındaki ısı akış yönü gösterilmektedir. Buna göre ısı akışı başlamadan önce **K** ve **L** cisimlerinin sıcaklıkları hakkındaki bilgi hangi seçenekte doğru olarak verilmiştir?



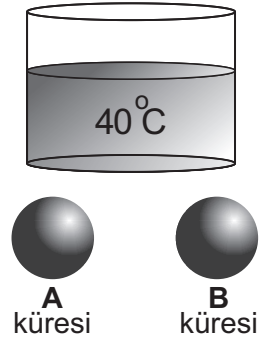
- A) K cisminin sıcaklığı, L cisminin iki katıdır.
 B) K cisminin sıcaklığı, L cisminden küçüktür.
 C) K ve L cisimlerinin sıcaklıkları eşittir.
 D) K cisminin sıcaklığı, L cisminden büyüktür.

Soru 13. Aşağıdaki tabloda **P**, **R**, **S** ve **T** maddelerinin erime ve kaynama noktaları verilmiştir. Buna göre **P**, **R**, **S** ve **T** maddeleri **70 °C**'ta hangi halde bulunurlar?

Maddeler	Donma Noktası (°C)	Kaynama Noktası (°C)
P maddesi	0	100
R maddesi	-75	65
S maddesi	10	135
T maddesi	82	212

<u>P Maddesi</u>	<u>R Maddesi</u>	<u>S Maddesi</u>	<u>T Maddesi</u>
A) Sıvı	Katı	Katı	Gaz
B) Gaz	Gaz	Katı	Sıvı
C) Sıvı	Gaz	Sıvı	Katı
D) Katı	Sıvı	Sıvı	Gaz

Soru 14. Yandaki kaptaki 40 °C'ta su vardır. Kabin içine aynı özelliklere sahip **A** ve **B** metal küreleri atılıyor. Bir süre sonra **A küresinin büzüldüğü**, **B küresinin ise genleştiği** gözlemleniyor. Buna göre **A** ve **B** metal kürelerinin kaba atılmadan önceki sıcaklıkları ile ilgili verilen bilgilerden hangisi doğrudur?



- A) A ve B kürelerinin sıcaklıkları 40 °C'tır.
 B) A ve B kürelerinin sıcaklıkları 40 °C'tan büyüktür.
 C) A küresinin sıcaklığı 40 °C'tan küçük, B küresinin sıcaklığı 40 °C'tan büyüktür.
 D) A küresinin sıcaklığı 40 °C'tan büyük, B küresinin sıcaklığı 40 °C'tan küçüktür.

FEN VE TEKNOLOJİ TESTİNİZ BİTMİŞTİR.
YANITLARINIZI KONTROL EDEREK SOSYAL BİLGİLER TESTİNE GEÇİNİZ.

Soru 1.

İnsanların sosyal olarak kuşaktan kuşağa aktardığı ürünler bütününe **kültür** denir. Binlerce yıldır değişik toplumlarla gerçekleşen etkileşim sonucunda ülkemizde nesilden nesile aktarılan bir yemek kültürü oluşmuştur.

Aşağıda verilenlerden hangisi ülkemiz yemek kültürüne ait **tatlılardan** birisidir?

- A) Pirohu
- B) Ceviz macunu
- C) Yaş pasta
- D) Çikolata

Soru 2.

Türkçe dersinde, Zeytin Festivali hazırlama etkinliğinde görev alan Aslı, Ege, Suna ve Mine aşağıdaki gibi bilgilerini birleştirerek zeytinyağı hakkında bir paragraf yazmayı amaçlamaktadırlar.

Aslı: Zeytinyağı, Akdeniz ülkelerinde yaygın olarak üretilmekte ve kullanılmaktadır.
Ege: Zeytinyağı, zengin vitaminler içerir; bazı hastalıklara karşı koruyucudur. Tedavi edici etkisi de vardır.
Suna: Zeytinyağı, zeytinin meyvesi sıkılarak elde edilmekte ve çeşitli amaçlarla kullanılmaktadır.
Mine: Zeytinyağının yemek kültürümüzde yeri yoktur. Ancak ülkemizde de üretilmesi ve kullanılması için çalışmalar yapılmaktadır.

Buna göre öğrencilerden hangisinin söyledikleri paragrafta kullanılırsa **yanlış bilgi** verilmiş olur?

- A) Aslı
- B) Ege
- C) Suna
- D) Mine

Soru 3.

Herkesin üzerine düşen ve yapmak zorunda olduğu görevleri vardır. Bir kimsenin üzerine aldığı, yapmak zorunda olduğu ya da yaptığı iş için gerektiğinde hesap verme durumuna **I** denir. Bunun yanı sıra her çocuğun bulunduğu gruplarda aldığı rolleri ve kazandığı hakları vardır. Bir çocuk olarak kazandığı bu hakların tamamına **II** denir.

Yukarıda verilen paragrafta boş yerlere yazılması gerekenler hangi seçenekte doğru olarak verilmiştir?

- | <u>I</u> | <u>II</u> |
|---------------|-----------------|
| A) Sorumluluk | Çocuk Hakları |
| B) Eşitlik | Çocuk Hakları |
| C) Adillik | Anayasal Haklar |
| D) Şeffaflık | Anayasal Haklar |

Soru 4. Öğretmen, Oya'dan en önemli kültürel miraslarımızdan birisi olan mimari eserlerimizin isimlerini içeren bir liste hazırlamasını istemiştir. Oya'nın listesinde aşağıda verilenlerden hangisi **olamaz**?

- A) Salamis Antik Kenti
- B) Girne Kalesi
- C) Ercan Havaalanı
- D) Büyük Han

Soru 5. Aşağıdaki tabloda bazı hak ve sorumluluklarım verilmiştir. Onları sınıflandırıp haklarım için **Hak**, sorumluluklarım içinse **Sorumluluk** sütununda, boş bırakılan ilgili yere (✓) işareti koyarsam nasıl bir görünüm ortaya çıkar?

		Hak	Sorumluluk
1	Çevremi temiz tutarım.		
2	Derslerime çalışırım, ödevlerimi yaparım.		
3	Okuldaki eğitim ve öğretimden yararlanırım.		
4	Yasalar tarafından korunurum.		
5	Yasalara uyarım.		

A)

	Hak	Sorumluluk
1		✓
2		✓
3	✓	
4	✓	
5		✓

B)

	Hak	Sorumluluk
1		✓
2		✓
3	✓	
4		✓
5		✓

C)

	Hak	Sorumluluk
1		✓
2		✓
3		✓
4	✓	
5	✓	

D)

	Hak	Sorumluluk
1	✓	
2	✓	
3		✓
4	✓	
5		✓

Soru 6. Aşağıda ismi verilen öğrenciler, taşımaları gereken sorumluluklara aykırı örnekler vermiştir. Buna göre, hangi öğrencinin ifadesi, **evde aile üyesi olarak** üstlenmesi gereken sorumluluklara **aykırı** bir davranıştır?

Sınıfta canım çok sıkıldığında okul eşya ve araçlarına zarar verebiliyorum.

Ayşe

Yolda, yaya geçidi olduğu halde çok acelem olduğunda daha kısa yerlerden de yolun karşısına geçiyorum.

Ece

Ev işlerini annem ve babam yaptığı için odamı düzenli ve temiz tutmuyorum.

Hakan

Bazen okul arkadaşlarımı incitecek şakalar yapıyorum.

Mete

- A) Ayşe
- B) Ece
- C) Hakan
- D) Mete

Soru 7. Aşağıda belirtilen davranışlardan hangisi **etkin vatandaş** olarak tanımlanan bir kişi için uygun **değildir**?

- A) Toplumsal sorunlara karşı duyarlıdır.
- B) Diğer insanlara karşı hoşgörülü ve saygılıdır.
- C) Faydalı olabileceği konularda sorumluluk üstlenir.
- D) Haklı olduğu anlaşmazlıklarda şiddet uygulamaktan çekinmez.

Soru 8. “Sivil Toplum Kuruluşları” özelliklerine **uygun olmayan** seçenek aşağıdakilerden hangisidir?

- A) Çalışmaları karşılığında devletten ücret alırlar.
- B) Demokrasinin vazgeçilmez bir unsurudur.
- C) Dayanışma ve yardımlaşma ön plandadır.
- D) Çalışma şekillerini devletin koyduğu yasalar çerçevesinde kendileri belirler.

Soru 9.

1. Kıbrıs Türk Ticaret Odası
2. Trafik Kazalarını Önleme ve Yardım Derneği
3. Girne Dr. Akçiçek Devlet Hastahanesi
4. Milli Eğitim ve Kültür Bakanlığı
5. Kıbrıs Türk Öğretmenler Sendikası
6. Lefkoşa Kaymakamlığı

Yukarıda verilenleri “**resmi kurumlar**” ve “**sivil toplum kuruluşları**” şeklinde grupladığımızda hangi seçenekte verilen doğru olur?

Resmi kurumlar	Sivil toplum kuruluşları
A) 1, 2, 3	4, 5, 6
B) 2, 4, 5	1, 3, 6
C) 3, 4, 6	1, 2, 5
D) 4, 5, 6	1, 2, 3

Soru 10. Cansu, daha sağlıklı bir yaşam ve kansere karşı mücadele konusunda çevresindeki insanları bilinçlendirmek için gönüllü olarak katılabileceği bir çalışmada görev almak istemektedir. Bunun için Cansu'nun hangi **sivil toplum kuruluşuna** başvurması uygun olur?

- A) Sağlık Bakanlığı
- B) Kansere Hastalarına Yardım Derneği
- C) Milli Eğitim ve Kültür Bakanlığı
- D) Dr. Burhan Nalbantoğlu Devlet Hastahanesi

**SOSYAL BİLGİLER TESTİYLE BİRLİKTE
I. OTURUM BİTMİŞTİR.
YANITLARINIZI KONTROL EDİNİZ.**

