



KKTC MİLLÎ EĞİTİM VE KÜLTÜR BAKANLIĞI

KOLEJLERE GİRİŞ SINAVI-1 (KGS-1)

27 OCAK 2018 CUMARTESİ

İsim/Soy İsim:.....

Aday No:.....

1. OTURUM SORU KİTAPÇIĞI

TÜRKÇE - FEN VE TEKNOLOJİ - SOSYAL BİLGİLER

GENEL AÇIKLAMA

1. Bu kitapçık, Türkçe, Fen ve Teknoloji ve Sosyal Bilgiler testlerini içermektedir. Kitapçık, 19 sayfadan oluşmaktadır. Sizlere bu üç testi cevaplayacağınız bir de TEST CEVAP KAĞIDI verilmiştir. Soru kitapçıklarının dağıtılmasının ardından salon başkanının gözetiminde kitapçığınızı kontrol ediniz. Hatalı olan kitapçıklar sınav başlamadan önce mutlaka değiştirilecektir.
2. Size dağıtılan Cevap Kağıdının üzerine adınız, soyadınız ve aday numaranız bilgisayar tarafından yazılmış ve kodlanmıştır. Cevap Kağıdının size ait olup olmadığını ve aday numaranızın doğru kodlanmış olup olmadığını kontrol ediniz.
3. Bu test 27 Türkçe, 14 Fen ve Teknoloji ile 10 Sosyal Bilgiler sorusundan oluşmaktadır. Tüm soruları cevaplandırmanız için sizlere toplam **90 dakikalık** süre verilecektir.
4. Her soru için dört farklı seçenek verilmiştir. Bu seçeneklerden sadece bir tanesi doğru yanıt olup diğerleri yanlıştır.
5. Cevap kağıdında her sorunun karşısında bulunan şıklardan doğru yanıt olan dairenin içini koyu siyah ve yumuşak bir kurşun kalemle iyice karalayınız. **Kurşun kalem dışında başka çeşit kalem kullanmayınız.** Yanlış karalamalarınızı düzeltirken iz bırakmayacak şekilde dairenin içini yumuşak bir silgiyle iyice siliniz.
6. Soru kitapçığı üzerindeki boş yerleri işlem yapmak için kullanabilirsiniz.
7. Cevap kağıdınızı buruşturmayınız ve üzerine gereksiz işaret koymayınız.
8. Bilmediğiniz soruların üzerinde fazla zaman kaybetmeden diğer sorulara geçiniz. Zamanınız kalırsa yapmadıklarınızı yeniden gözden geçirirsiniz.

Şimdi aşağıdaki örnek sorunun nasıl cevaplandırılacağını beraberce inceleyelim.

ÖRNEK SORU: “Temiz” sözcüğünün (zıt) anlamlısı hangisidir?

A) Saf

B) Kirli

C) Yıkanmış

D) Pak

Bu sorunun doğru cevabı “Kirli” dir. Doğru olan bu cevap B seçeneğidir. Onun için, cevap kağıdındaki bu soruya ait seçeneklerde B dairesinin içi karalanmıştır. Hepinize başarılar dileriz.

(A)

(B)

(C)

(D)

Soru 1. Aşağıdaki sözcüklerden hangisi hecelerine doğru ayrılmıştır?

- A) Akasya → Ak – as – ya
B) Kırkayak → Kır – ka – yak
C) Büyükeyi → Bü – yük – a – yı
D) İnsanoğlu → İn – san – oğ – lu

Soru 2. Aşağıda verilen altı çizili sözcüklerden hangisinde sessiz harflerin tümü sert sessizdir?

- A) Babamın verdiği haftalık harçlık bana yetiyor.
B) Eksik tartı yapan manavı belediyeye şikayet etti.
C) Karabiberin kokusundan annemi hapşırık tuttu.
D) Patates köftelerinin üzerine ketçap döküp yedik.

Soru 3. Aşağıdaki cümlelerden hangisinde eş anlamlı (anlamdaş) sözcükler birlikte kullanılmıştır?

- A) Saz örgülü, tahta bir sandalyeye oturmuş saz çalıp türkü söylüyordu.
B) Müzik dersinde, porte üzerine notaları yerleştirmeyi öğrendik.
C) Başka bir yere atanan doktorun yerine yeni bir hekim görevlendirildi.
D) Uçak yolculuğu sırasında sağımda annem, solumda babam oturmuştu.

Soru 4. Aşağıdakilerden hangisinde “-ler, -lar” eki diğer üçünden farklı bir anlamda kullanılmıştır?

- A) Çam kese böceği, ormanlara zarar veren bir böcektir.
B) Bana alınan bisikleti gördüğüm an, dünyalar benim olmuştu.
C) Masamda, okumam gereken dağlar kadar kitap vardır.
D) Ateşler içinde yanan kardeşimi, doktora götürdük.

Soru 5. “Küçük” sözcüğüyle ilgili olarak aşağıda verilen yargılardan hangisi doğrudur?

- A) Sözcükteki sessiz harflerin tümü yumuşak sessizdir.
- B) Sözcük, ünlü ile başlayan bir ek alırsa araya kaynaştırma harfi girer.
- C) Sözcüğün sonuna “-cık, -cik” eki getirilirse ünsüz düşmesi olur.
- D) Sözcük, sert sessizle başlayan bir ek alırsa, ekin ilk harfi yumuşar.

Soru 6.

İnsanoğlu, yalnız kalmak istemez. Hayatımız boyunca farklı farklı arkadaşlar ediniriz. Bazı arkadaşlarımız, biz kırılmayalım diye, hatalarımızı yüzümüze söylemezler. Bazıları, sadece onlarla vakit geçirmemizi ister; başkalarıyla konuşunca rahatsız olurlar. Bütün bunları bizi sevdikleri için yaptıklarını düşünürüz. Belki gerçekten de öyledir. Oysa iyi arkadaş, hatamızı dürüstçe söyleyip bize kendimizi düzeltme şansı tanıyandır. İyi arkadaş, diğer arkadaşlarımızla da vakit geçirebilir. İyi arkadaş, iyi ve kötü günümüzde yanımızda bulunarak bize destek verir. Böylece büyük sıkıntılarımızı bile kolayca atlatır, başarılı bir hayata ilerlemek için cesaret buluruz. Evet kimse yalnız kalmak istemez. Arkadaşlık bizim için önemlidir ancak başarılı ve mutlu bir insan olarak yetişmek için asıl önemli olan, iyi arkadaşlar edinmektir.

Bu parçanın ana düşüncesi aşağıdakilerden hangisidir?

- A) Arkadaşlarımıza hatalarını dürüstçe söylemeliyiz.
- B) Arkadaşlarımız, sıkıntılarımızı kolayca atlatmamıza yardımcı olurlar.
- C) İnsanoğlu, hiçbir zaman yalnız kalmak istemez.
- D) İyi bir insan olarak yetişmek için, iyi arkadaşlar edinmek çok önemlidir.

Soru 7. “Bağ” sözcüğü aşağıdaki cümlelerde kaç değişik anlamda kullanılmıştır?

- Annem, pişirmek için manavdan üç bağ pırasa aldı.
- Bağdan topladığı kasalar dolusu üzümü pazarda sattı.
- Bağlarını çözüp buzdolabını kamyonetten indirdi.
- Mesut Bey'in gazete ile olan bağı, köşe yazarı olmasındandı.

- A) 1
- B) 2
- C) 3
- D) 4

Soru 8. 1. sözler 2. damla 3. petekten 4. güzel 5. baldır 6. damla 7. sızan

Yukarıda numaralanmış olarak verilen sözcüklerle anlamlı bir cümle oluşturulduğunda, sıralama aşağıdakilerden hangisi gibi olur?

- A) 3 – 2 – 6 – 7 – 1 – 4 – 5
B) 4 – 1 – 3 – 2 – 6 – 7 – 5
C) 5 – 7 – 2 – 6 – 4 – 1 – 3
D) 3 – 7 – 4 – 1 – 2 – 6 – 5

Soru 9. “Akşamleyin gökyüzüne baktığımızda gök kubbede Ay ve yıldızları görürüz. Büyükayı, Küçükayı ve yön gösteren Kutup Yıldızı da tablodaki yerlerini almış olurlar.” cümlelerinde Büyük Ünlü Uyumu Kuralı'na uyan kaç sözcük vardır?

- A) 3
B) 8
C) 9
D) 20

Soru 10.

“Hava çok güzeldi. Güneş gökte pırıl pırıl parlıyordu. Cemil ve arkadaşları oyun oynuyor, koşuyor, gülüyor, eğleniyorlardı. Özgürlüğün sevincini yaşıyorlardı.”

Bu paragrafta, aşağıda verilen isim çeşitlerinden hangisine örnek yoktur?

- A) Topluluk ismi
B) Somut isim
C) Soyut isim
D) Çoğul isim

Soru 11. Aşağıdaki cümlelerin hangisinde deyim yoktur?

- A) Basketbolu güzel oynamaya başlayınca takımın göz bebeği oldu.
- B) İşledikleri konulara son bir kez göz atıp sınav hazırlıklarını tamamladı.
- C) Ümit, öğretmeni can kulağıyla dinliyor ve yerinde sorular soruyordu.
- D) Bisiklet üzerinde gereksiz hareketler yapan çocuk, düşüp kolunu kırdı.

Soru 12.

“Bir tatil günüydü. Arkadaşımla yakındaki gölete, kuşları gözlemeye gitmiştik. Giderken yanımıza fotoğraf makinesi, dürbün, not defteri, kuş türleri kitabını ve biraz yiyecek aldık. Sessiz, kuşları rahatsız etmeyecek, gölü yüksekten gören bir yere, bir harup ağacının altına, küçük plastik sandalyelerimize oturduk. Harup ağacının dalları bizi gizliyordu. Bazen çıplak gözle bazen dürbünle kuşları saatlerce izledik.”



Bu metinde kullanılmayan isim tamlaması çeşidi aşağıdakilerden hangisidir?

- A) Belirtili isim tamlaması
- B) Belirtisiz isim tamlaması
- C) Takısız isim tamlaması
- D) Zincirleme isim tamlaması

Soru 13.

(1) Işıkların açılmasıyla birlikte aydınlanan odada yanı başımızda beliren ve maket olduğunu sonradan fark ettiğimiz iri yarı bekçiden çok korkmuştuk.
 (2) Korkudan nefesimiz tutulmuş, benzimiz atmış, sınıfın en yaramazları bile sus pus olmuştu. (3) Kalenin bir başka bölümündeki Batık Gemi Müzesi'ni de gezdik.
 (4) Sessiz ve korkulu gözlerle, kalbimiz korkudan küt küt atarak işkence biçimlerini ve işkence aletlerini gördük. (5) Bahçeye geri döndüğümüzde o devirlerde yaşamadığımız için hepimiz derinden bir ohh!..çektik.

Numaralandırılmış cümlelerden hangisi, düşüncenin akışını bozmaktadır?

- A) 1
- B) 2
- C) 3
- D) 4

Soru 14.

Eskiden komşu yüzleri güleçti.
Herkesin ayağı toprağa değerdi açınca kapısını.
Şimdi başlar gibi yapılar, yıldızlara değdi.
Yeryüzü kaçıyor insanların avuçlarından.

Coşkun ERTEPINAR

Bu dörtlükte aşağıdaki ses olaylarından hangisi yoktur?

- A) Ünsüz Yumuşaması (Yumuşama)
- B) Sertleşme (Benzeşme)
- C) Kaynaşma (Kaynaştırma)
- D) Ünsüz Düşmesi

Soru 15.

“İnsanlar, yaşamlarını sürdürebilmek için doğaya muhtaçtırlar. Öyleyse, doğal hayatı korumak için önce, insanların bilinçli ve sorumluluk sahibi olmaları gerekir. Doğanın korunmasını hem kendimiz, hem de gelecek nesiller için istemeliyiz. Gelecek nesillere bozulmamış, zengin bir doğa, sağlıklı, temiz bir çevre bırakmak hepimizin insanlık görevi olmalıdır. Doğal hayatı korumak için; kirliliğin ve savaşların önlenmesi, doğal kaynaklarımızın bilinçli harcanması, kirlilik yaratmayan enerji kaynaklarının kullanılması ve doğal hayatın öğelerinin sevgiyle korunması gerekir.”

Bu paragraftaki anlatım, aşağıdaki sorulardan hangisine cevap vermez?

- A) Doğal hayatı niçin korumalıyız?
- B) Doğal hayatı nasıl koruyabiliriz?
- C) Doğal hayata verilen zararların sonuçları nelerdir?
- D) Doğal hayatı koruyabilecek olanlar kimlerdir?

Soru 16.

- I. Teknoloji geliştiğinden artık mektup yazılmaz oldu.
 II. Kış mevsimi soğuğu, rüzgarı, yağmuruyla hükmünü sürüyor.
 III. Düzenli olarak spor yaptığından sağlıklı bir vücuda sahip oldu.
 IV. Resim çizme yeteneği olduğu için çok güzel resimler yapıyor.

Yukarıda numaralanmış olarak verilen cümlelerin hangileri sebep – sonuç cümlesidir?

- A) I – III – IV
 B) II – III
 C) II – III – IV
 D) II – IV

Soru 17.

Bahçenin içinde oyun kurulmuş,
 Eğlenir oyunla dinlenir çocuk.
 Rollerine dalmış kimi yorulmuş,
 Eğlenir oyunla dinlenir çocuk.
 Pencereden baktım gülüşüyorlar,
 Kahkahalar atıp dolaşıyorlar,
 Dağılıp toplanıp buluşuyorlar,
 Eğlenir oyunla dinlenir çocuk.

Bu şiirin konusu aşağıdakilerden hangisidir?

- A) Oyun özlemi
 B) Çocuk ve oyun
 C) Çocuk ve bahçe
 D) Oyun sevinci

Soru 18. “Dün kitapçıya uğramıştım. Aslı'yı gördüm. Uzun süre görüşmemiştik. Sarıldık, kucaklaştık, konuştuk. Aslı benim ilkokuldan arkadaşımıdır. Kendisi için kitap bakıyordu.” cümlelerinde kullanılmayan hal eki aşağıdakilerden hangisidir?

- A) Bulunma (-de hali) hal eki
 B) Yönelme (-e hali) hal eki
 C) Belirtme (-i hali) hal eki
 D) Ayrılma (-den hali) hal eki

Soru 19.

Okuldan eve dönüyordu. Mis gibi pasta kokuları sokağı sarmıştı. Eve vardığında annesi onu kapıda karşıladı, kucakladı. Birlikte içeriye girdiler. Mutfaktan güzel kokular geliyordu. Hemen odasına gitti. Çantasını bırakıp üstünü değiştirdi. Mutfaka koştu. Masada çok güzel, meyveli, çikolatalı bir kek duruyordu. Annesi, koca bir dilim kek kesip tabağına koydu. Yanına bir bardak da taze sıkılmış limonata hazırladı. Özgür, keki yedi, limonatayı içti. Limonata da, kek de çok leziz olmuştu. Annesine teşekkür etti.

Bu parçada hangi duyu ile ilgili ayrıntılara yer verilmemiştir?

- A) Görme
- B) Koklama
- C) İşitme
- D) Tatma

Soru 20.

Gülün, koşun, eğlenin çocukluğu yaşayın,
Mutlu yarınlar için çalışın ve başarın.
Koklanacak gülsünüz, kırılmasın dalınız,
Safsınız temizsiniz hep böylece kalınız.

Mahmut ÖZBUĞRA

Şiire göre aşağıdakilerden hangisi, şairin çocuklar için dilediklerinden biri değildir?

- A) Büyüdüklerinde de saf ve temiz kalmaları
- B) Gül bahçelerinde gönüllerince oynamaları
- C) Güzel bir gelecek için çalışıp başarmaları
- D) Dertsiz, tasasız bir çocukluk yaşantılarının olması

Soru 21.

Kum Zambağı

Nergisgiller familyasına ait bir çiçektir. Ülkemizin kıyı kumsallarında yetişen bir bitki türüdür. Çok yıllıktır.

Soğan köklüdür. Genişçe, uzun, şeritsi yaprakları vardır. Yaklaşık 40–45 cm boyunda olur. 3 ile 15 arasında çiçek açar. Ağustos ve ekim ayları arasında, yazın o en kavurucu günlerinde, kumsallarda açtığı beyaz beyaz çiçekler insanların ruhuna ferahlık verir.

Nesli tükenmekte olan bir çiçek olduğundan yasayla koruma altına alınmıştır. Kesilmesi, koparılması, toplanması, soğanlarının sökülmesi, ülke dışına çıkarılması yasaktır.

Orkide

Doğanın en güzel, gizemli ve narin çiçekleri olan orkidelerin 33 türü KKTC'nin doğasında bulunmaktadır. Kıbrıs Arı

Orkidesi, Lapta Orkidesi ve Kıbrıs Anadolu Orkidesi Kıbrıs'a özgü endemik türlerdir.

Ülkemizin her yerinde yetişebilen değişik boy, renk ve şekilleriyle orkideler genelde Mart - Nisan döneminde çiçeklenirler. Kökleri yumru köktür. Yumrularının salep yapımı için sökülmesi, tarımsal ilaçlamalar, ot yakma, "çiçek sevgisi" adına toplama ve sökme, otlatma ve yağışsızlık, orkideleri yok oluşturan sebeplerdir. Bu güzel çiçekleri yok oluşturan insan eli zararları önlemek için yasayla koruma altına alınmışlardır. Orkide yürüyüşleri, orkide festivalleri gibi etkinliklerle de insanları bilinçlendirme faaliyetleri yapılmaktadır.

Aşağıdakilerden hangisi bu iki çiçeğin ortak yönlerinden biridir?

- A) Çiçeklenme zamanları
- B) Yetiştikleri ortamlar
- C) Koruma altında olmaları
- D) Köklerinin salep yapımında kullanılması

Soru 22. Aşağıdaki sözcük çiftlerinden hangisinde farklı bir anlam ilişkisi vardır?

limon - limonata

hellim - peynir

ceviz - macun

harup - pekmez

- A) limon - limonata
- B) hellim - peynir
- C) ceviz - macun
- D) harup - pekmez

Soru 23. Aşağıda verilen cümlelerin taşıdıkları anlamlar seçeneklerin hangisinde doğru olarak verilmiştir?

- I. Bu kadar çok abur cubur yersen sağlığın bozulacak.
II. Çocukken oynadığımız oyunlar burnumda tütüyor.
III. Doğum günü partisine beni de davet etmesini beklerdim.
IV. Oyunumuza Korcan'ı da katsaydık o da mutlu olacaktı.

- A) I. Tahmin II. Pişmanlık III. Şaşırma IV. Abartı
B) I. Olasılık II. Beğeni III. Küçümseme IV. Tahmin
C) I. Şaşırma II. Pişmanlık III. Uyarı IV. Endişe
D) I. Uyarı II. Özlem III. Yakınma IV. Pişmanlık

Soru 24.

1. Atatürk'ün ölümsüz varlığı, bu yeşillikler arasında dinlenmektedir.
2. Hatta bütün dünya ulusları, Anıtkabir'in çevresine dikilmek üzere pek çok fidan göndermiştir.
3. Türk ulusu, Atatürk'ün ağaç ve yeşillik sevgisini yakından bilir.
4. Bunun için Anıtkabir'in dört bir yanını Anadolu'da yetişen çeşitli ağaç ve yeşilliklerle donatmıştır.

Yukarıdaki cümlelerle anlamlı bir paragraf oluşturulduğunda sıralama nasıl olur?

- A) 1 – 4 – 2 – 3
B) 3 – 1 – 4 – 2
C) 3 – 4 – 2 – 1
D) 4 – 2 – 3 – 1

Soru 25. Aşağıda verilen sözcükler ile sözlük anlamları eşleştirildiğinde bir sözcüğün anlamının doğru olmadığı görülecektir. Bu sözcük hangisidir?

festival	Arkadaşça, dostça karşılıklı konuşma, sohbet
söyleşi	Sadece bir bölgede yetişen veya yaşayan (bitki, hayvan)
cılız	Sağlam, güçlü ve iyi gelişmiş
endemik	Bir bölgenin en ünlü ürünü için yapılan gösteri, şenlik

- A) festival
B) cılız
C) söyleşi
D) endemik

Soru 26.



Tolga

Başkalarının zarar görmesine yol açacak işler yapan kimse, çok sert tepkilerle karşılaşır ve sonunda en büyük zarara kendisi uğrar.

Tolga'nın açıklamasını yaptığı atasözü aşağıdakilerden hangisidir?

- A) Rüzgâr eken fırtına biçer.
B) Besle kargayı oysun gözünü.
C) Ne ekersen onu biçersin.
D) Gülü seven dikenine katlanır.

Soru 27. Ebru, aşağıdaki kelimeleri alfabetik sıraya göre dizerken bir hata yapmıştır. Hangi kelimelerin yerlerini değiştirirse hatasını düzeltmiş olur?

I – basınç II – basit III – baston IV – baskül

- A) II – III
B) III – IV
C) I – II
D) II – IV

TÜRKÇE TESTİNİZ BİTMİŞTİR

YANITLARINIZI KONTROL EDEREK FEN VE TEKNOLOJİ TESTİNE GEÇİNİZ.

Soru 1.

Su, tüm besinlerin yapısında bulunur / bulunmaz. Mineraller düzenleyici / enerji verici besin grubudur.

1 2 3 4

Yukarıda verilen cümlelerin doğru olması için altı çizili sözcüklerden hangileri kullanılmalıdır?

- A) 2 ve 3
- B) 1 ve 3
- C) 1 ve 4
- D) 2 ve 4

Soru 2.

....., yapıcı ve onarıcı besin grubunu oluştururlar. Vücudun mikroplara karşı direncini artırır. vücudumuz için gerekli enerjiyi aldığımız temel besin grubudur. Vücudun direncini artırmak ve hastalıklardan korumak ise sayesinde olur.

I II III

Yukarıdaki paragrafta boş bırakılan yerlere gelmesi gerekenler, hangi seçenekte doğru olarak verilmiştir?

- | <u>I</u> | <u>II</u> | <u>III</u> |
|--------------------|-----------------|------------|
| A) Proteinler | Karbonhidratlar | Vitaminler |
| B) Karbonhidratlar | Yağlar | Mineraller |
| C) Proteinler | Mineraller | Yağlar |
| D) Vitaminler | Karbonhidratlar | Mineraller |

Soru 3.

Azı dişler,

Yukarıdaki cümleyi aşağıdakilerden hangisi ile tamamlarsak doğru olur?

- A) geniş yüzeyleriyle besinleri ezer ve öğütür.
- B) toplam 4 tanedir.
- C) ağızımızın ön kısmında bulunur.
- D) kesici dişlerin yanındadır.


Soru 4.

Pınar Hanım'ın ameliyat olması gerekmektedir. Doktor ona birtakım testler yaptırdı. Çıkan sonuçlara göre ameliyatı ertelemek zorunda kaldılar. Çünkü Pınar Hanım'ın kanının pıhtılaşmasıyla ilgili sorunu olduğu anlaşıldı.

Yukarıda verilen bilgilere göre, Pınar Hanım'da eksik olan vitamin hangisidir?

- A) A vitamini
- B) C vitamini
- C) E vitamini
- D) K vitamini

Soru 5. Anneleri dört öğrencinin beslenme çantalarını aşağıdaki gibi hazırlıyor.

			
<p>Etli sebze yemeği Pilav Yoğurt</p>	<p>Makarna Köfte Salata</p>	<p>Patates Mercimekli pirinç pilavı Ekmek</p>	<p>Haşlanmış Tavuk Makarna Yoğurt</p>
Canan	Halit	Ebru	Şengül

Hangi çocuğun çantası, dengeli beslenmeye uygun **değildir**?

- A) Canan
- B) Halit
- C) Ebru
- D) Şengül

Soru 6.

		Doğru	Yanlış
1	Çiğnenmiş yiyeceklerin ağızdan yemek borusuna ilerlemesini yutak sağlar.		
2	Besinler, ince bağırsaktan salgılanan sıvılarla küçük parçalara ayrılır.		
3	Kalın bağırsak, posada kalan su ve mineralleri emer.		
4	Yemek borusunda sindirim olayı gerçekleşmez.		

Yukarıdaki tablonun doğru doldurulmuş hali aşağıdakilerden hangisidir?

A)

	Doğru	Yanlış
1	✓	
2	✓	
3		✓
4		✓

B)

	Doğru	Yanlış
1	✓	
2		✓
3		✓
4		✓

C)

	Doğru	Yanlış
1		✓
2	✓	
3	✓	
4		✓

D)

	Doğru	Yanlış
1	✓	
2		✓
3	✓	
4	✓	

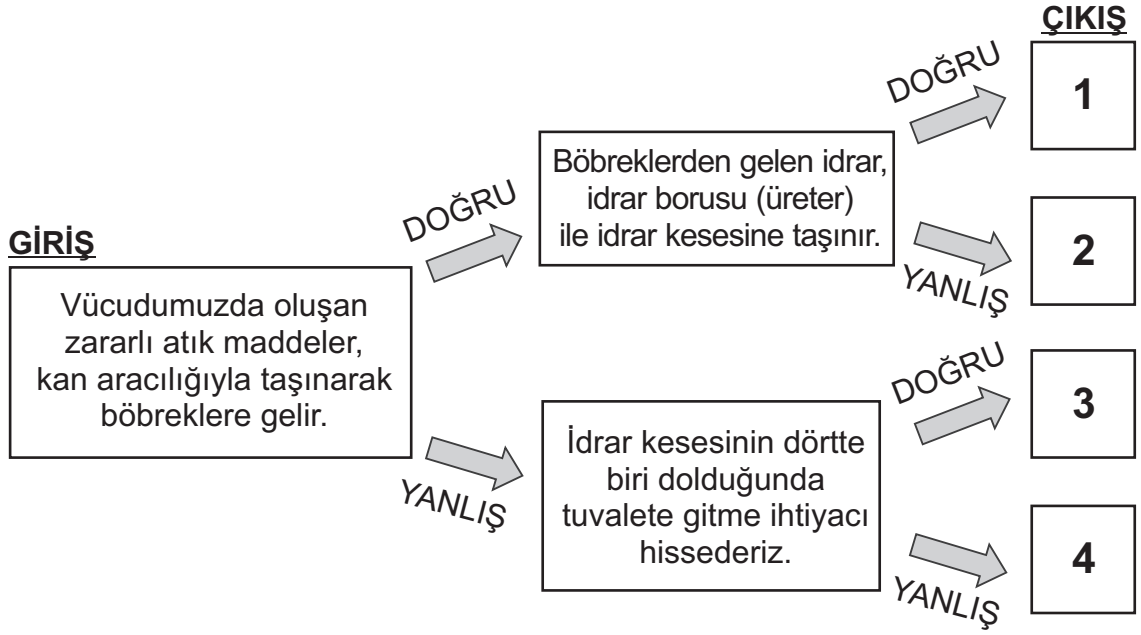
Soru 7.

Yapıcı ve onarıcı besin grubudur.	Başlıca enerji kaynağıdır.	Üzerine iyot damlatıldığı zaman renk değiştirir.	Pirinç, buğday, mısır gibi besinlerde bolca bulunur.
I	II	III	IV

Yukarıda verilen bilgilerin hangisi **karbonhidratlar** ile ilgili **değildir**?

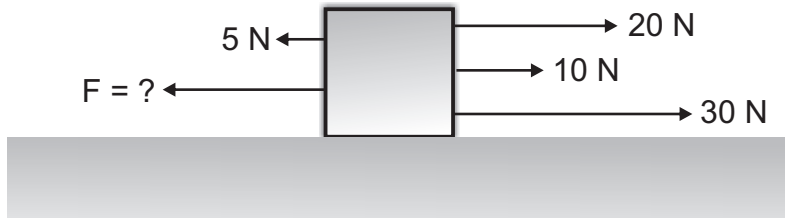
- A) I
B) II
C) III
D) IV

Soru 8. Aşağıdaki şemada çerçeveler içerisinde bilgiler verilmiştir. **Giriş** çerçevesinden başlayarak, verilen bilgilerin “**doğru**” veya “**yanlış**” olmasına göre, okları izlediğimiz zaman kaç numaralı **çıkışa** ulaşırız?



- A) 1
B) 2
C) 3
D) 4

Soru 9. Şekildeki cisim, üzerine etki eden tüm kuvvetler ile birlikte gösterilmektedir. Cisim **hareket etmediğine** göre, F kuvveti kaç N dir?



- A) 60
B) 55
C) 50
D) 45

Soru 10.

Kuvvet,
1
olarak
2 kullanılır. Kuvvet,
3 ve çekme etkisi
olarak tanımlanabilir.

Yukarıdaki paragrafta boş bırakılan yerlere gelmesi gerekenler hangi seçenekte doğru olarak verilmiştir?

- | <u>1</u> | <u>2</u> | <u>3</u> |
|----------------|-----------|-------------|
| A) Dinamometre | Yerçekimi | Newton |
| B) Atma | Newton | Dinamometre |
| C) Dinamometre | Newton | İtme |
| D) İtme | Terazi | Newton |

Soru 11. Aşağıdaki tabloda X, Y, Z maddelerinin donma ve kaynama noktaları verilmiştir. Bu maddelerin 30°C'deki halleri, hangi seçenekte doğru olarak verilmiştir?

Madde	Donma Noktası (°C)	Kaynama Noktası (°C)
X	-40	20
Y	0	100
Z	40	120

- A) X-Katı , Y-Sıvı , Z-Gaz
B) X-Sıvı , Y-Gaz , Z-Katı
C) X-Sıvı , Y-Katı , Z-Gaz
D) X-Gaz , Y-Sıvı , Z-Katı

Soru 12. Aşağıda verilen bilgilerin hangileri genleşme ilkesi ile ilgilidir?

- I. Yazın elektrik tellerinin uzaması
- II. Isıtılan kavanoz kapağının daha kolay açılması
- III. Sıcak havada termometredeki cıvanın yükselmesi

- A) Yalnız I
- B) I ve II
- C) II ve III
- D) I, II ve III

Soru 13. Ece, odaya ıslak çamaşır asarak kuruttu. Ece, çamaşırları asmadan önce odanın sıcaklığını 26°C , çamaşırlar kuruduktan sonra odanın sıcaklığını 24.5°C olarak ölçmüştür.

Ece'nin ölçüm sonuçlarından yararlanarak aşağıdaki bilgilerden hangisine ulaşılabilir?

- A) Maddeler yoğuşurken çevreye ısı verir.
- B) Maddeler buharlaşırken çevreden ısı alır.
- C) Maddeler donarken çevreye ısı verir.
- D) Maddeler erirken çevreden ısı alır.

Soru 14. 100 gram alüminyum ısıtıldığında 660°C de eriyor.

Buna göre, 1 gram alüminyum kaç $^{\circ}\text{C}$ 'de donar?

- A) 1
- B) 6
- C) 660
- D) 6600

FEN VE TEKNOLOJİ TESTİNİZ BİTMİŞTİR

YANITLARINIZI KONTROL EDEREK SOSYAL BİLGİLER TESTİNE GEÇİNİZ.

Soru 1. Aşağıda, kültürle ilgili olarak verilen cümlelerden hangileri doğrudur?

- I. Bir toplumun geçmişten günümüze aktardığı ortak değerlere kültür denir.
- II. Kültür, bir toplumun kimliğini oluşturur.
- III. Kültür, toplumlara özgüdür.
- IV. Bir toplumun kültürü, sadece halk oyunlarından oluşur.

- A) I, II ve III
- B) I, II ve IV
- C) II, III ve IV
- D) I, II, III ve IV

Soru 2. Aşağıda kültürümüze ait bazı yiyecekler verilmiştir. Bu yiyeceklerden hangisi süttten yapılır?

- A) Gullurikya
- B) Hellim
- C) Samsı
- D) Molohiya

Soru 3.

Mağusa'nın 6 km kuzeyinde yer almaktadır. Bronz çağı sonlarında kurulmuş bu kentin kuruluş efsanesine göre kent, Teukros tarafından kurulmuştur.

Yukarıda bahsedilen kültür varlığımız hangisidir?

- A) Salamis Antik Kenti
- B) Othello
- C) Bellapais Manastırı
- D) Vuni Sarayı

Soru 4. “ Her ülke, kendine ait kültürel özelliklerini yeni nesillere aktarmak ve ilgi duyanların incelemesine imkan sağlamak için her türlü önlemi almaktadır.” Bu duruma göre, aşağıdakilerden hangisi ülkemizin kültürel miraslarından biri **değildir**?

- A) Yemeklerimiz
- B) Mimari yapılarımız
- C) Bankada biriken paramız
- D) Halk danslarımız

Soru 5. Aşağıda verilen kültürel miraslarımızın isimleri ve tanımları hangi seçenekte doğru olarak eşleştirilmiştir?

1 - Sele	A - Ülkemize özgü geleneksel çocuk oyunlarından birisidir.
2 - Venedik Sütunu	B - 19. yy'dan günümüze kadar ulaşmış özellikle Serdarlı Köyü'nün en önemli el sanatlarından birisidir.
3 - Alaydan Malaydan	C - Kıbrıs'ın ilk Osmanlı valisi Muzaffer Paşa tarafından yaptırılmış, Lefkoşa'nın geleneksel ticari merkezi olan kare şeklindeki iki katlı yapıdır.
4 - Büyük Han	D - Salamis Harabeleri'nden getirilerek Sarayönü Cami'nin avlusuna dikilmiş, İngiliz idaresince de günümüzdeki yeri olan Sarayönü Meydanı'na taşınmış yapıdır.

- A) 1 → C , 2 → A , 3 → B , 4 → D
 B) 1 → B , 2 → D , 3 → A , 4 → C
 C) 1 → A , 2 → C , 3 → D , 4 → B
 D) 1 → B , 2 → D , 3 → C , 4 → A

Soru 6. İnşaat Mühendisi olan Ahmet Bey, çalıştığı inşaat için kazı yapılırken bir takım tarihi eserler bulmuştur. Bu durumda Ahmet Bey'in yapması gereken aşağıdakilerden hangisidir?

- A) Oradan çıkarıp başka bir yerde saklamalıdır.
 B) Uygun fiyata satmalıdır.
 C) Evinde uygun bir yerde sergilemelidir.
 D) En yakın resmi makama bildirmelidir.

Soru 7. Aşağıda verilen bilgilerden hangileri doğrudur?

- I. Okulda yalnızca idarecilerin ve öğretmenlerin hakları vardır.
 II. Bir öğrencinin sınıf arkadaşlarına karşı sorumlulukları yoktur.
 III. Okuldaki kurallara uyma sorumluluğumuz vardır.
 IV. Her hak belli sorumlulukları da beraberinde getirir.

- A) I ve II
 B) II ve III
 C) III ve IV
 D) I ve IV

Soru 8. Aşağıda verilenlerden kaç tanesi resmi kurumdur?

- I. Dr. Burhan Nalbantoğlu Devlet Hastanesi
- II. Atatürk İlkokulu
- III. Kıbrıs Türk Diyabet Derneği
- IV. KKTC Cumhurbaşkanlığı

- A) 1
- B) 2
- C) 3
- D) 4

Soru 9.

Devlette çalışan bu kişiler devletten ücret veya maaş alırlar. Çalışanlar arasında mevki (makam) ve görev farkı vardır. Tatil günleri dışında mesai saatlerinde çalışmak zorunludur.

Yukarıda açıklaması verilen bu kişiler kimlerdir?

- A) Esnaflar
- B) Kamu görevlileri
- C) Öğrenciler
- D) Sporcular

Soru 10. “Günümüz savaşlarının korkunç görünümüne, doğal afetlerin büyük yıkıntlarına, yangınların kasıp kavurmalarına rağmen; can ve mal kaybını en az düzeyde tutmak amacıyla bu tehlikelere karşı önlemler aldırın ve gerektiğinde uygulatan teşkilatın adı nedir?”

- A) Devlet Teşkilatı
- B) Eğitim Teşkilatı
- C) Türk Mukavemet Teşkilatı
- D) Sivil Savunma Teşkilatı

**SOSYAL BİLGİLER TESTİYLE BİRLİKTE
I. OTURUM BİTMİŞTİR
YANITLARINIZI KONTROL EDİNİZ**